



LKPD

POLA GAMBAR DAN POLA BILANGAN

Oleh:
siapa





AYO KERJAKAN

Tentukan banyak benda yang sesuai dengan pola gambar yang diberikan!

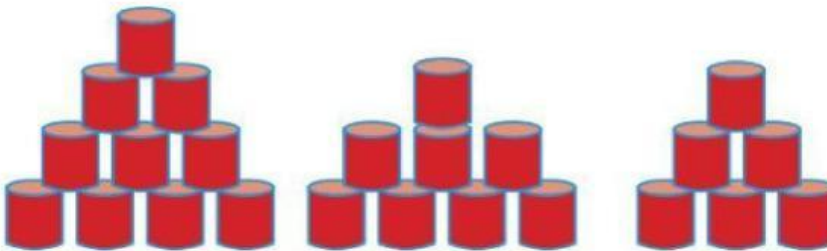
1.



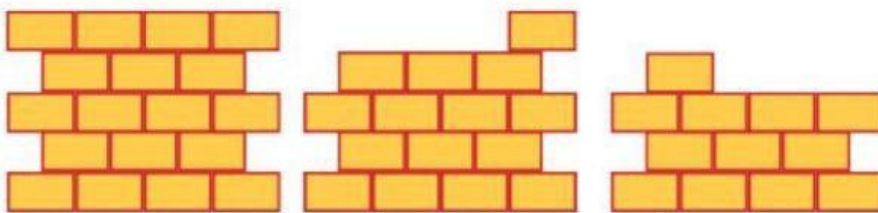
2.



3.



4.



8

9

4

9

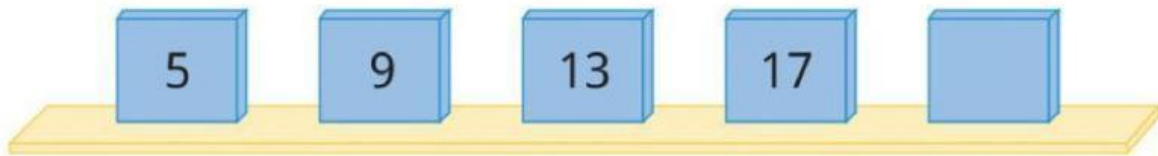
Sambungkan angka diatas pada kotak yang sesuai dengan jawaban tiap soal!



AYO KERJAKAN

Tentukan bilangan yang tepat sesuai pola bilangan yang diberikan!

5.



6.



7.



8.



21	6	28	18
	10	30	

Sambungkan angka diatas pada kotak yang sesuai dengan jawaban tiap soal!