

BÀI 12

BẢNG NHÂN 9, BẢNG CHIA 9

Tiết 1

1 ✎ Số ?

Thừa số	9	9	9	9	9	9	9	9
Thừa số	3	5	7	9	4	6	8	10
Tích								

2 ✎ Số ?

Số bị chia	36	54	90	72	81	45	63	27
Số chia	9	9	9	9	9	9	9	9
Thương								

3 ✎ Nói hai phép tính có cùng kết quả (theo mẫu).

9×2

$54 : 9$

$28 : 7$

9×5

$42 : 7$

6×3

5×9

$36 : 9$

4 ✎ Cô Lan có 36 bông hoa hồng. Cô Lan cắm hoa vào các lọ, mỗi lọ có 9 bông hoa. Hỏi cô Lan cắm được bao nhiêu lọ hoa như vậy?

Bài giải

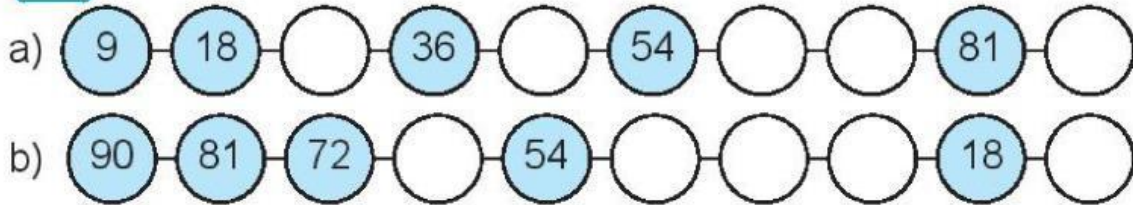
.....

.....

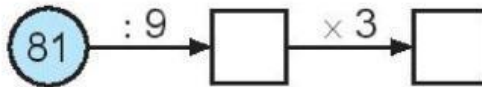
.....

Tiết 2

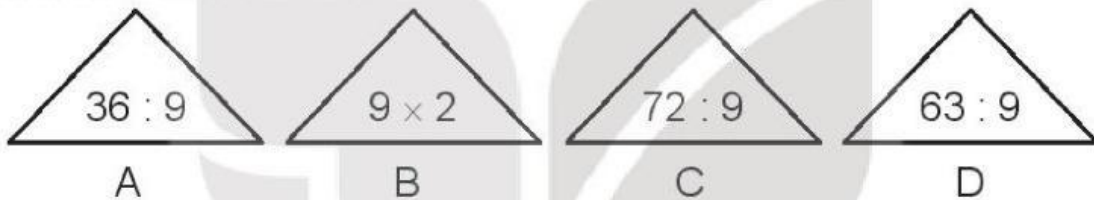
1 Số ?



2 Số ?



3 Khoanh vào chữ đặt dưới hình tam giác ghi phép tính có kết quả lớn hơn 7 và bé hơn 10.



4 Có 27 bạn tập nhảy dây. Cô giáo đã chia đều các bạn thành 9 nhóm. Hỏi:

- a) Mỗi nhóm tập nhảy dây có mấy bạn?
b) 2 nhóm tập nhảy dây như vậy có bao nhiêu bạn?

Bài giải

.....

.....

.....

.....

.....

5 Tô màu đỏ vào hình tròn ghi phép tính có kết quả bé nhất, tô màu xanh vào hình tròn ghi phép tính có kết quả lớn nhất.

