




E-LKPD MATEMATIKA

PENGURANGAN BILANGAN

Kelas I SD/MI

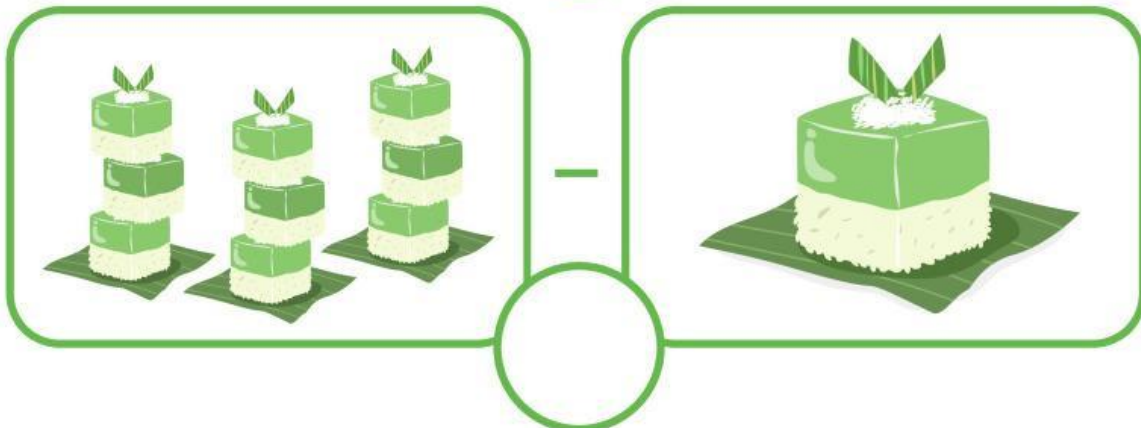

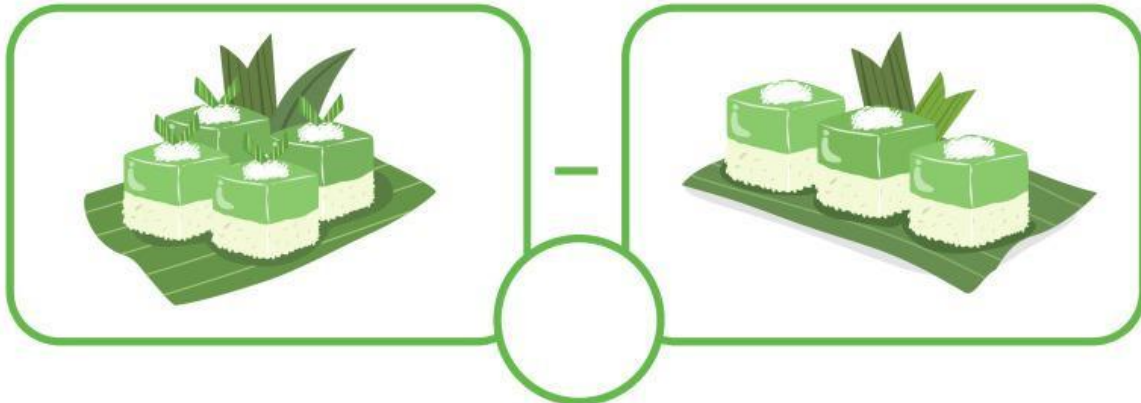


NAMA : _____



MENGHITUNG KUE

Petunjuk: Hitung jumlah pengurangan kue tradisional di bawah ini, lalu jawab di lingkaran yang sudah disediakan!



MENGHITUNG HEWAN

Perintah: Hitunglah hewan di bawah ini lalu tulis jumlahnya setelah dikurangi!



Soal Cerita Pengurangan

Petunjuk: Yuk berlatih soal cerita tentang pengurangan!

Di kebun ada 9 tangkai bunga mawar. 3 bunga mawar layu. Berapa jumlah bunga mawar saat ini?



Jawab

Ibu memiliki 8 telur. Ibu menggunakan 5 telur untuk membuat kue. Berapa sisa telur ibu?



Jawab

Di taman, ada 9 ekor burung. Lalu, 5 ekor burung terbang. Berapa ekor burung yang masih ada di taman?



Jawab

Ayah membeli 8 pisang. Besoknya, 2 pisang telah dimakan. Berapa jumlah pisang yang masih tersisa?



Jawab

PENGURANGAN SEDERHANA

Hitung pengurangan pada setiap soal dengan teliti, lalu jawab di kolom atau kotak yang sudah di sediakan!

1 $10 - 2 =$

2 $5 - 3 =$

3 $8 - 1 =$

4 $6 - 2 =$

5 $7 - 8 =$

6 $4 - 1 =$

7 $10 - 6 =$

8 $9 - 6 =$