

BAHAN AJAR & LKPD

Diagram Pencar

Disusun Oleh:

Yuli Puspita Dewi

232151044

IDENTITAS

Nama :

Kelas :

Perhatikan Vidio Berikut ini :

Klik kotak untuk membuka PPT





AYO BERLATIH!

Baca dan kerjakan soal di bawah ini dengan cermat !

Perhatikan ke 4 data berikut !

Diagram A

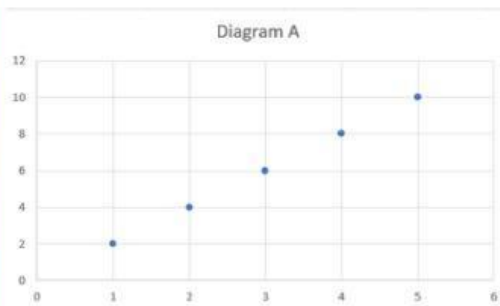


Diagram B

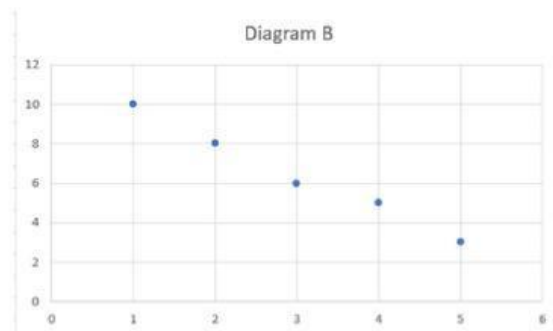


Diagram C

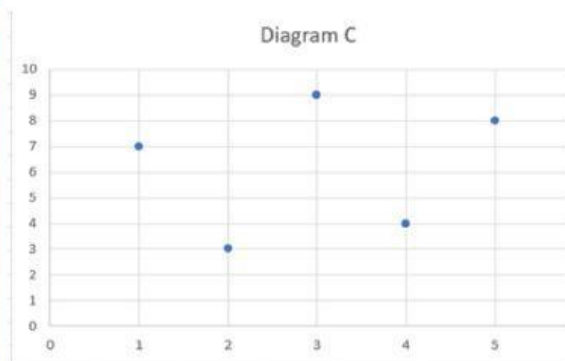

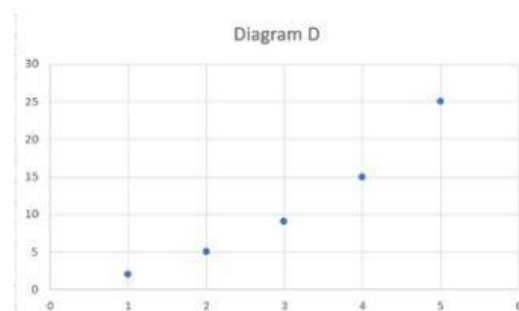


Diagram D





PILIH LAH SALAH SATU JAWABAN

1. Data mana yang menunjukkan korelasi positif?

A & D

B & C

2. Data mana yang menunjukkan korelasi Negatif?

D


A

C

B

TULISKAN JAWABANMU DENGAN MENKLIK KOTAK

3. Data mana yang tidak memiliki hubungan? mengapa ?





4. Data mana yang menunjukkan korelasi paling kuat ? jelaskan berdasarkan diagram!

5. Apa perbedaan hubungan linear dan non linear ? Jelaskan!

6. Apakah semua hubungan yang kuat pasti linear? Jelaskan!

