

LKPD

BANGUN DATAR

Perhatikan vidio berikut ini :



Perhatikan materi presentasi berikut ini :



Materi



Materi

LKPD

BANGUN DATAR

1.

TEKSFIELD

Bangun datar segi empat yang keempat sisinya sama panjang dan keempat sudutnya siku-siku atau 90° adalah...

2.

SINGLE CHOICE

Berikut ini yang bukan merupakan bangun datar adalah...

3.

CHECKBOXES

Pernyataan yang benar adalah...

Persegi memiliki 4 sisi Lingkaran memiliki 6 sisi Segitiga memiliki 4 sisi

4.

SELECT

Nama bangun datar di bawah ini adalah...



Persegi

Segitiga

Persegi Panjang

Lingkaran

LKPD

BANGUN DATAR

5.

WORD SEARCH

Temukan 3 kata pada kotak di bawah ini.

S	S	I	S	I
M	U	L	I	N
O	S	D	K	T
D	K	C	U	K
U	G	X	M	T

6.

SPEAK

Sebutkan nama bangun datar berikut dengan tepat !



LKPD

BANGUN DATAR

7.

LISTENING




Dengarkan suara berikut dan tuliskan jawabannya dengan tepat !



8.

DRAG & DROP

Tentukan rumus yang sesuai dengan gambar

	<input type="text"/>	<div style="border: 1px solid black; padding: 10px;"><div style="border: 1px solid black; padding: 5px; margin-bottom: 5px;">$L = \frac{1}{2} \times \text{alas} \times \text{tinggi}$</div><div style="border: 1px solid black; padding: 5px; margin-bottom: 5px;">$L = \text{panjang} \times \text{lebar}$</div><div style="border: 1px solid black; padding: 5px;">$L = \pi \times r \times r$</div></div>
	<input type="text"/>	
	<input type="text"/>	

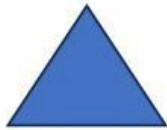
LKPD

BANGUN DATAR

9.

JOIN

Buatlah garis ke jawaban yang benar



Persegi Panjang

Lingkaran

Segitiga