


LKPD

BANGUN DATAR

Perhatikan video berikut ini:



Perhatikan materi presentasi:



Materi



Materi

LKPD

BANGUN DATAR

1

TEKSFIELD

Bangun datar segi empat yang keempat sisinya sama panjang dan keempat sudutnya siku-siku atau 90° adalah ...

2

SINGLE CHOICE

Berikut ini yang bukan merupakan bangun datar adalah ...

3

CHEKBOXES


Pernyataan yang benar adalah ...

Persegi memiliki 4 sisi Lingkaran memiliki 6 sisi Segitiga memiliki 3 sisi

4

SELECT

Nama bangun datar di bawah ini adalah ...



Pesergi

Segitiga

Persegi Panjang

Lingkaran

LKPD

BANGUN DATAR

4

WORK SEARCH


Temukan 3 kata pada kotak di bawah ini

S	S	I	S	I
M	U	L	I	N
O	S	D	K	T
D	K	C	U	K
U	G	X	M	T

6

SPEAK

Sebutkan nama bangun datar dengan tepat!



LKPD

BANGUN DATAR

7 LISTENING

Dengarkan suara berikut dan tuliskan jawabannya dengan tepat!



8 DRAG & DROP

Temukan rumus yang sesuai dengan gambar



$$L = \frac{1}{2} \times \text{alas} \times \text{tinggi}$$

$$L = \text{Panjang} \times \text{Lebar}$$

$$L = \pi \times r^2$$

LKPD

BANGUN DATAR

9

JOIN

Buatlah garis ke jawaban yang benar



Persegi Panjang

Lingkaran

Segitiga