




# LKPD

## BANGUN DATAR

Perhatikan vidio berikut ini :



Perhatikan materi presentasi berikut ini:



**Materi**



**Materi**



# LKPD

## BANGUN DATAR

1

### TEKSFIELD

Bangun datar segi empat yang keempat sisinya sama panjang dan keempat sudutnya siku-siku atau  $90^{\circ}$ ...

2

### SINGLE CHOICE

Berikut ini yang bukan merupakan bangun datar

3

### CHECKBOXES

Pernyataan yang benar adalah...

Persegi memiliki 4 sisi

Lingkaran memiliki 6 sisi

Segitiga memiliki 3 sisi



# LKPD

## BANGUN DATAR

4

### SELECT

Nama bangun datar ini adalah....



Persegi

Segitiga

Persegi Panjang

Lingkaran

5

### WORD SEARCH

Temukan 3 kata pada kotak dibawah ini

S	S	I	S	I
M	U	I	I	N
O	S	D	K	T
D	K	C	U	K
U	G	X	M	T



# LKPD

## BANGUN DATAR

6

### SPEAK

Sebutkan nama bangun datar berikut dengan tepat!



7

### LISTENING


Dengarkan suara berikut dan tuliskan jawabannya dengan tepat!



8

### DRAG & DROP

Tentukan rumus yang sesuai dengan gambar



$$L = \frac{1}{2} \times \text{alas} \times \text{tinggi}$$

$$L = \text{panjang} \times \text{lebar}$$

$$L = \pi \times r \times r$$



# LKPD

## BANGUN DATAR

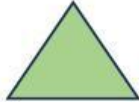
9

### JOIN

Buatlah garis ke jawaban yang benar



Persegi Panjang



Lingkaran



Segitiga