

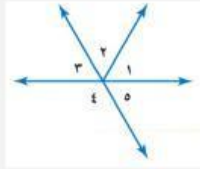


ورقة عمل مادة الرياضيات

| الاسم | الصف |
|-------|------|
|-------|------|

اختاري الإجابة الصحيحة :

| | | | | | | | |
|--|----------------------------|---|-----------------|---|------------------|---|-----------------|
| عند رمي مكعب الأرقام فإن احتمال عدد فردي في أبسط صورة هو : | | | | | | | |
| أ | $\frac{1}{2}$ | ب | $\frac{2}{6}$ | ج | $\frac{3}{6}$ | د | $\frac{4}{6}$ |
| عندما يكون احتمال حدوث حادثة مؤكدة فإن الاحتمال يُكتب : | | | | | | | |
| أ | ٠,٢٥ | ب | ٠,٥٠ | ج | ٠,٧٥ | د | ١ |
| عدد النواتج الممكنة عند اختيار حذاء إذا توفر ٣ ألوان و ٥ مقاسات مختلفة ؟ | | | | | | | |
| أ | ٢ | ب | ٨ | ج | ١٠ | د | ١٥ |
| سمي الزاوية المجاورة ؟ | |  | | | | | |
| أ | > أ ب ج | ب | > ب ج أ | ج | > ج أ ب | د | > ٢ |
| تصنف الزاوية > أ التالية : | |  | | | | | |
| أ | زاوية منفرجة | ب | زاوية مستقيمة | ج | زاوية حادة | د | زاوية قائمة |
| حددي زوجًا من الزاوية المتقابلة بالرأس في الشكل التالي : | |  | | | | | |
| أ | > ١ و > ٣ | ب | > ٢ و > ٤ | ج | > ٣ و > ٥ | د | > ٤ و > ٥ |
| قياس الزاوية القائمة يساوي : | | | | | | | |
| أ | °٣٠ | ب | °٦٠ | ج | °٩٠ | د | °١٨٠ |
| ما هو المتوسط الحسابي للبيانات التالية : ٢, ١, ٥, ٣, ٤ ؟ | | | | | | | |
| أ | ٢ | ب | ٣ | ج | ٤ | د | ٥ |
| ما هو المنوال لمجموعة البيانات التالية : ١٢, ١٥, ١٢, ١٠, ١٥, ١٢ ؟ | | | | | | | |
| أ | ١٠ | ب | ١٢ | ج | ١٥ | د | ١٣,٣ |
| ما هو التمثيل البياني الذي يُعرف بأنه طريقة للمقارنة بين البيانات باستعمال الأعمدة ؟ | | | | | | | |
| أ | التمثيل بالقطاعات الدائرية | ب | التمثيل بالخطوط | ج | التمثيل بالأعمدة | د | التمثيل بالخطوط |

معلمة المادة : حمده الغالي

لم تتقن اتقنت