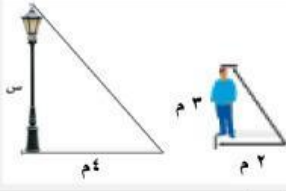

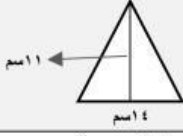

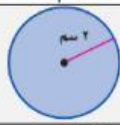

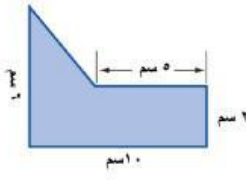


ورقة عمل مادة الرياضيات

الاسم	الصف
-------	------

اختراري الإجابة الصحيحة :

١	 <p>طول ظل عمود الإنارة ٤م وفي الوقت نفسه طول ظل إبراهيم ٢ م , فإذا كان طول إبراهيم ٣م فما ارتفاع عمود الإنارة إذا افترضنا أن المثلثين متشابهين ؟</p>	أ	٤م	ب	٦م	ج	٨م	د	١٠م
٢	 <p>أي الأشكال التالية مضلعًا منتظمًا ؟</p>	أ		ب		ج		د	
٣	<p>قياس الزاوية في المضلع السداسي المنتظم ؟</p>	أ	٦٠°	ب	٧٢°	ج	١٢٠°	د	١٩٠°
٤	<p>في حصة التربية الفنية قصت عائشة عدة مضلعات سداسية منتظمة من أوراق ملونة , فهل تستطيع عائشة عمل تبليط منها ؟</p>	أ	نعم وتستخدم ٣ مضلعات	ب	نعم وتستخدم ٤ مضلعات	ج	لا لأنها تستخدم ٣,٥	د	نعم وتستخدم ٦ مضلعات
٥	<p>مساحة المثلث التالي :</p> 	أ	٢٢ سم	ب	٢٧ سم ^٢	ج	٦٩ سم	د	٧٧ سم ^٢
٦	<p>مساحة شبه المنحرف التالي</p> 	أ	٣ ملم	ب	٣ ملم ^٢	ج	١٢ ملم	د	٢٤ ملم
٧	<p>محيط الدائرة مقربًا إلى أقرب عُشر :</p> 	أ	٦,٣ سم	ب	١١ سم	ج	١٢,٧ سم	د	١٤ ملم ^٢
٨	<p>الشكل المركب التالي يتكون من :</p> 	أ	مربع ومثلث	ب	مستطيل ونص دائرة	ج	مستطيل ومثلث	د	شبه منحرف ودائرة
٩	<p>يبين الشكل المجاور أبعاد غرفة يُراد فرشها بالسجاد . ما مساحة السجاد اللازم ؟</p> 	أ	١٥ سم ^٢	ب	٢٠ سم	ج	١٠ سم	د	٣٠ سم ^٢
١٠	<p>أي الأشكال التالية ثلاثية الأبعاد ؟</p>	أ	مستطيل	ب	دائرة	ج	هرم	د	مثلث

معلمة المادة : حمده الغالي

لم تتقن اتقنت