

NAMA :

I. Berilah tanda silang (X) pada huruf A, B, C atau D di depan jawaban yang benar!

1. Berikut tabel yang menunjukkan keragaman budaya yang dimiliki beberapa provinsi di Indonesia secara tepat!

	Provinsi	Pakaian Adat	Bahasa Daerah	Senjata Tradisional
A	Banten	Pesa'an	Bahasa Sunda	Kujang
B	Sulawesi Selatan	Payas agung	Ogan, Komering, Lematang dan Kayu Agung	Celurit
C	Sumatra Utara	Ulos	Batak, Nias, dan Melayu	Piso halasan
D	Jawa Tengah	Baju bodo	Bahasa Jawa	Parang salawaku

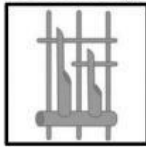
2. Perhatikan gambar berikut!



Salah satu keragaman yang dimiliki bangsa Indonesia yaitu keragaman senjata tradisional. Berdasarkan gambar, senjata tradisional yang berasal dari Aceh adalah ... .

- A. Kujang  
B. Rencong  
C. Trisula  
D. Mandau
3. Sinta gemar bernyanyi, Sinta sering menyanyikan lagu daerah asalnya. Sinta berasal dari daerah Jawa Tengah. Berikut lagu daerah yang sering dinyanyikan Sinta adalah ... .
- A. Kicir-kicir, Gambang Suling, dan Angin Mamiri  
B. Suwe Ora Jamu, Lir Ilir, dan Cublak-cublak Suwung  
C. Burung Tantina, Apuse, dan Naik-naik Ke Puncak Gunung  
D. Ampar-ampar Pisang, Anak kambing Saya, dan Rasa Sayange

4. Perhatikan gambar berikut!



Alat musik tradisional yang ditunjukkan pada gambar di samping berasal dari daerah ... .

- A. Jawa Barat  
B. Yogyakarta  
C. Jawa Timur  
D. Jawa Tengah
5. Indonesia kaya akan budaya, kekayaan budaya ini harus seharusnya kita jaga dan lestarikan agar tidak punah. Berikut sikap melestarikan budaya daerah yang tepat adalah... .
- A. Sida gemar sekali menirukan tarian modern asal negara lain  
B. Zainal merasa sangat malu saat mengenakan batik dalam acara resmi  
C. Syauqi mengunjungi festival makanan tradisional di kota tempat tinggalnya  
D. Risa menggunakan bahasa jawa saat berbicara dengan Wayan yang berasal dari Bali
6. Kadek dan Nita sekolah di SD Merdeka Bali. Meskipun berbeda suku dan agama, mereka tetap berteman dengan rukun. Suatu hari, Kadek mengajak Nita untuk mengikuti upacara Ngaben di Bali. Sikap yang sebaiknya Nita lakukan adalah ... .
- A. meminta penjelasan keras-keras di Tengah acara  
B. menawarkan bantuan agar upacara selesai lebih cepat  
C. mengambil foto sebanyak mungkin untuk koleksi pribadi  
D. menghormati prosesi dengan menjaga sikap dan tidak mengganggu

7. Perhatikan kegiatan pada gambar berikut!



Zainuri dan teman-teman bermain alat musik tradisional khas daerah masing-masing. Setiap daerah di Indonesia memiliki alat musik tradisional dengan ciri khas dan keunikan masing-masing. Berikut cara yang dapat dilakukan untuk menghargai keberagaman alat musik tradisional daerah adalah...

- A. menolak untuk belajar alat musik daerah
- B. lebih senang belajar alat musik negara lain
- C. belajar cara bermain alat musik tradisional Nusantara
- D. menganggap alat musik tradisional kuno dan ketinggalan jaman

8. Perhatikan ilustrasi berikut!



Mona bersekolah di SD Nusantara. Setiap Rabu dan Kamis, sekolah Mona memakai seragam batik. Batik merupakan salah satu warisan budaya Indonesia yang diakui UNESCO.

Sebagai pelajar perlu memakai batik dihari tertentu dengan tujuan ... .

- A. agar terlihat lebih mahal dari pakaian lain
- B. agar semua memakai pakaian yang sama
- C. batik membuat siswa terlihat lebih dewasa
- D. membiasakan diri menghargai budaya bangsa

9. Perhatikan ilustrasi berikut!

Indah dan Siti berteman dengan rukun meskipun berasal dari suku berbeda. Dalam kesehariannya, Indah berkomunikasi menggunakan bahasa Sunda sedangkan Siti menggunakan bahasa Jawa. Perbedaan bahasa tersebut membuat komunikasi mereka terkadang mengalami kesulitan. Dalam hal ini, kesulitan bahasa yang dialami Indah dan Siti dapat diatasi dengan ... .

- A. berkomunikasi menggunakan bahasa isyarat
- B. bermain seperti biasa, namun tidak perlu komunikasi
- C. mencari teman untuk menerjemah bahasa masing-masing
- D. menggunakan bahasa persatuan yaitu bahasa Indonesia

10. Perhatikan gambar tarian berikut!



Mira dan Anton menampilkan tari tradisional seperti pada gambar. Nama tari tradisional yang ditampilkan Mira dan Anton beserta asal daerahnya yang tepat adalah ... .

	Nama Tari	Asal Daerah
A	Tari Gantar	Kalimantan Timur
B	Tari Sajojo	Papua Barat Daya
C	Tari Piring	Sumatra Barat
D	Tari Jaipong	Jawa barat

11. Atok berasal dari Yogyakarta. Di daerah tempat tinggal Atok ada sebuah minuman khas yang sangat terkenal. Minuman khas ini dibuat dari campuran gula pasir, sereh, jahe, cengkih, tepung ketan, kacang tanah, roti tawar yang kemudian diracik hingga menghasilkan rasa yang khas. Minuman khas ini dipercaya dapat meredakan sakit tenggorokan. Minuman khas dari daerah Atok pada bacaan adalah ... .

- A. es doger
- B. wedang ronde
- C. es pisang ijo
- D. wedang uwuh

12. Tradisi Baleo berlangsung dari bulan Mei hingga November. Tradisi ini dilakukan dengan berburu paus oleh masyarakat sekitar secara tradisional. Tradisi Baleo merupakan tradisi nelayan yang berada di daerah ... .

- A. Pulau Samosir, Sumatra Utara
- B. Pulau Bunaken, Manado, Sulawesi Utara
- C. Pesisir pantai selatan Yogyakarta
- D. Desa Lamalera, Kabupaten Lembata, Provinsi Nusa Tenggara Timur

13. Perhatikan gambar berikut!



Rumah adat beserta asal daerah berdasarkan gambar di samping adalah ... .

	Nama Rumah Adat	Asal Daerah
A	Rumah Gadang	Sumatra Barat
B	Tongkonan	Sulawesi Selatan
C	Joglo	Jawa Tengah
D	Kajang Leko	Jambi

14. Perhatikan pertanyaan berikut!

- (1) Alat pemecah bangsa
  - (2) Sebagai identitas bangsa di dunia internasional.
  - (3) Memperkaya budaya daerah pada satu wilayah saja
  - (4) Menjadi objek wisata sehingga dapat meningkatkan pendapatan nasional.
- Manfaat keberagaman budaya di Indonesia ditunjukkan oleh nomor ...

A. 1 dan 2                      B. 1 dan 3                      C. 2 dan 4                      D. 3 dan 4

15. Perhatikan pernyataan-pernyataan berikut!

- (1) Wilayah kota lebih luas dari kabupaten
  - (2) Penduduk kabupaten sebagian besar bekerja disektor agraris
  - (3) Dalam pemerintahan, kota dipimpin wali kota dan kabupaten dipimpin oleh bupati
  - (4) Kepala daerah, baik wali kota maupun bupati ditunjuk langsung oleh Presiden
- Pernyataan yang tepat tentang perbedaan kabupaten dan kota adalah ...

A. (1) dan (2)                      B. (1) dan (3)                      C. (2) dan (3)                      D. (3) dan (4)

16. Wilayah kota memiliki wilayah yang lebih sempit dari kabupaten. Akan tetapi, wilayah kota memiliki tingkat kepadatan penduduk yang lebih tinggi. Beberapa hal yang menjadi penyebabnya adalah ... .

- A. wilayah kota udaranya lebih sejuk dan segar
- B. wilayah kota tidak memiliki fasilitas publik yang memadai
- C. lapangan pekerjaan di wilayah perkotaan lebih banyak dan bervariasi
- D. masyarakat kota cenderung memiliki kebersamaan dan rasa kekeluargaan

17. Perhatikan gambar berikut!



Gambar di samping termasuk salah satu objek khas kota di Indonesia. Berikut pernyataan yang tepat terkait objek khas yang terdapat pada gambar yaitu ... .

- A. objek khas pada gambar dinamakan jembatan Suramadu
- B. objek khas pada gambar menjadi kebanggaan masyarakat kota Bandung, Jawa barat
- C. objek khas pada gambar merupakan jembatan penghubung Pulau Jawa dan Bali
- D. objek khas pada gambar merupakan jembatan bersejarah yang diresmikan oleh Presiden Soekarno

18. Perhatikan gambar berikut!



Mata pencaharian sebagian besar penduduk yang tinggal di wilayah pada gambar adalah ... .

- A. karyawan                      C. petani
- B. nelayan                      D. pengusaha

19. Wilayah ini merupakan batas antara daratan dan perairan dan memiliki potensi sumber daya karena dekat dengan laut. Sebagian besar masyarakat lebih memilih mata pencaharian sebagai nelayan tambak garam. Masyarakat juga memanfaatkan saerah ini sebagai tempat wisata.

Wilayah yang dimaksud berdasarkan deskripsi tersebut adalah ... .

- A. gunung dan pegunungan                      C. dataran tinggi
- B. bukit dan perbukitan                      D. daerah pantai

20. Cermati kegiatan pada gambar berikut!



Warga desa Suka Makmur melaksanakan kegiatan gotong royong membuat parit. Setelah melakukan kegiatan tersebut, semua berkumpul dan makan bersama. Manfaat gotong royong yang tepat berdasarkan kegiatan warga desa Suka Makmur adalah ... .

- A. pekerjaan semakin lama selesai karena dilakukan bersama-sama
- B. menciptakan perselisihan antar masyarakat di lingkungan sekitar
- C. meningkatkan persatuan dan kesatuan di lingkungan masyarakat
- D. menumbuhkan sikap individualisme

21. Perhatikan kasus berikut!

Sudah tiga hari Yoga tidak masuk sekolah. Ardi mendapat informasi dari tetangganya bahwa Yoga sedang sakit. Ardi kemudian memberikan informasi kepada teman-teman sekolahnya. Ardi dan teman-teman kemudian menjenguk Yoga ke rumahnya. Teman-teman Yoga memang sangat baik dan penuh perhatian. Setiap ada yang sakit, mereka selalu menjenguk dan mendoakan agar lekas sembuh.


Perilaku Ardi dan teman-teman menunjukkan penerapan gotong royong di lingkungan ... dan nilai gotong-royong yang terdapat pada kasus tersebut adalah ... .

	Lingkungan	Nilai Gotong Royong
A	keluarga	persatuan
B	sekolah	kebersamaan
C	masyarakat	kerukunan
D	negara	tanggung jawab

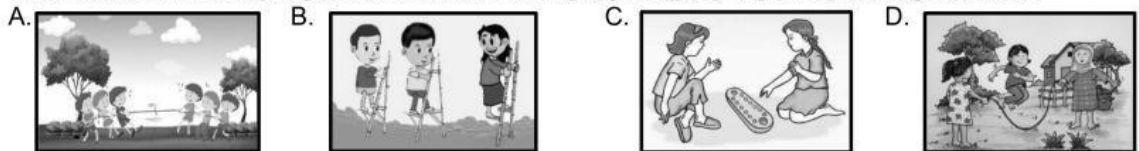
22. Desa Bandaran sering mengalami musibah banjir. Semua warganya terpaksa mengungsi untuk mencari tempat yang lebih aman. Sikap gotong royong yang sebaiknya dilakukan saat melihat kondisi tersebut adalah ... .

- A. mengajak masyarakat lain ikut menonton
- B. menunggu bantuan dari pihak-pihak terkait
- C. membantu dengan ikhlas sesuai kemampuan
- D. melakukan kegiatan foto bersama ditempat kejadian

23. Penerapan gotong royong di lingkungan keluarga ditunjukkan pada aktivitas ... .



24. Permainan tradisional yang membutuhkan semangat gotong royong ditunjukkan gambar ... .



25. Perhatikan ilustrasi berikut!

Rumah Toni mengalami kebakaran karena konsleting listrik. Warga yang menyaksikan kejadian tersebut segera melakukan upaya penyelamatan. Anggota keluarga Toni segera dievakuasi ketempat yang aman. Warga juga menyelamatkan barang-barang yang dapat diselamatkan sambil menunggu pemadam kebakaran datang, warga melakukan pemadaman api semampunya.

Berdasarkan ilustrasi diatas, kegiatan gotong-royong ditunjukkan pada peristiwa ...

- A. rumah Toni mengalami kebakaran
- B. warga menunggu pemadam kebakaran datang
- C. penyebab kebakaran adalah konsleting
- D. warga melakukan pemadaman api semampunya

## II. Isilah titik-titik di bawah ini dengan jawaban yang tepat !

26.



Gambar disamping adalah rumah adat tradisional suku Minangkabau dari daerah Sumatera Barat yaitu rumah adat ... .

27. Neni mengikuti pameran budaya di sekolahnya. Ia memperagakan tari tradisional Sajojo yang berasal dari daerah ... .

28. Upacara adat yang sering dilakukan oleh suku Tengger di Gunung Bromo Jawa Timur disebut ... .

29. Gudeg adalah makanan khas dari daerah ... .

30. Indonesia merupakan negara yang memiliki keragaman budaya. Meskipun beragam, masyarakat Indonesia tetap rukun dan bersatu. Hal ini sesuai dengan semboyan bangsa Indonesia yaitu ... .

31. Kegiatan pertanian dan peternakan banyak kita jumpai di daerah ... .

32. Kepala daerah yang memimpin wilayah provinsi dinamakan ... .

33. Berat sama dipikul ringan sama dijinjing, pribahasa tersebut menggambarkan kehidupan masyarakat Indonesia yang menerapkan nilai ... .

34. Doni membantu ayahnya mencuci motor. Perilaku Doni termasuk bentuk penerapan gotong royong dilingkungan ... .

35. Perhatikan gambar berikut!



Andi dan teman-teman melakukan kegiatan diskusi untuk mengerjakan tugas kelompok. Kegiatan pada gambar termasuk penerapan gotong royong dilingkungan ... .