



$$2x + 47 = 0$$

# LKPD Matematika

**Pengukuran panjang, berat dan waktu**



**Tahun Ajaran 2025/2026**

**Disusun Oleh :  
Naila Luthfiyana**

# konstruktivisme (Membangun pengetahuan awal)

Nama:

Tanggal:

Perhatikan benda disekitarmu!  
Tuliskan pengalamanmu tentang pengukuran!



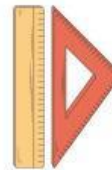
Meja



Jam



Buku



Penggaris



Kalkulator





- 1 Pernahkah kamu mengukur panjang benda di rumah?
- 2 Benda apa saja yang pernah kamu ukur?
- 3 Alat apa yang digunakan untuk mengukur panjang?
- 4 Pernahkah kamu melihat timbangan?
- 5 Menurutmu, mengapa kita perlu mengetahui waktu?
- 6 Apa saja yang kamu ketahui tentang waktu?

Nama :

Kelas :

## INQUIRY (MENEMUKAN)

Ukur panjang benda di bawah ini dan tuliskan hasilnya pada tabel di sebelahnya.


Pengukuran panjang benda	Satuan baku
	_____ cm
	_____ cm
	_____ cm
	_____ cm

# QUESTIONING (BERTANYA)

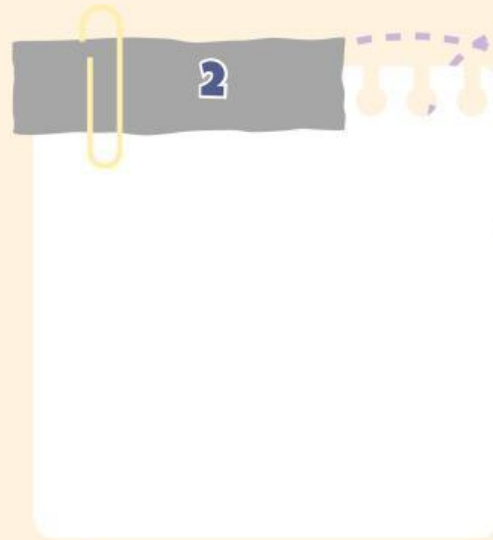
setelah melakukan kegiatan mengukur panjang,, sekarang  
saatnya kamumembuat pertanyaan yaa!

Tuliskan pertanyaanmu tentang panjang dan berat yaa!

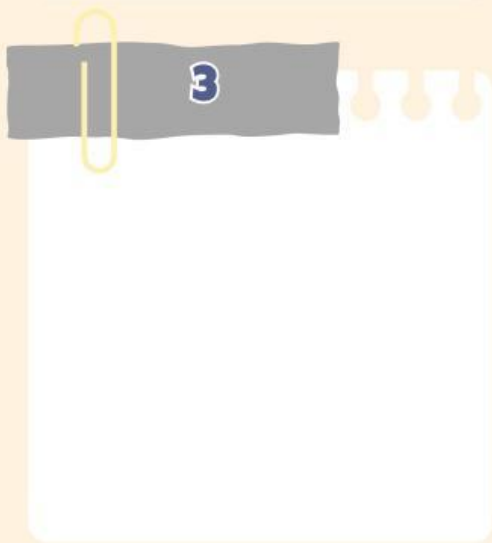
1

A notepad with a dark grey header containing the number '1'. The notepad is white with three punch holes on the right side and a yellow paperclip on the left side.

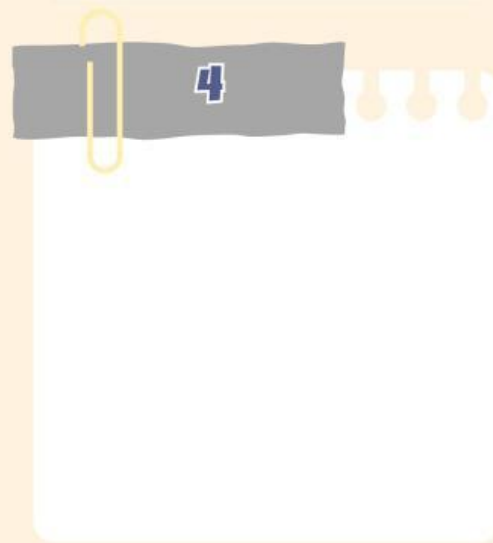
2

A notepad with a dark grey header containing the number '2'. The notepad is white with three punch holes on the right side and a yellow paperclip on the left side.

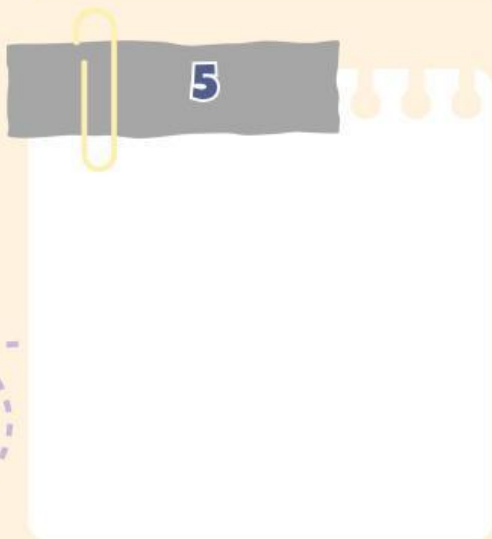
3

A notepad with a dark grey header containing the number '3'. The notepad is white with three punch holes on the right side and a yellow paperclip on the left side.

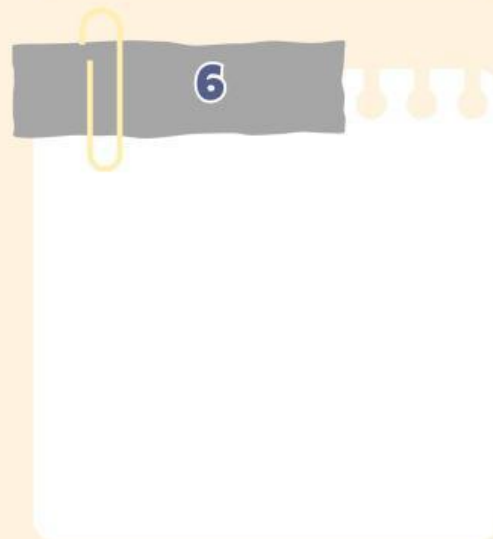
4

A notepad with a dark grey header containing the number '4'. The notepad is white with three punch holes on the right side and a yellow paperclip on the left side.

5

A notepad with a dark grey header containing the number '5'. The notepad is white with three punch holes on the right side and a yellow paperclip on the left side.

6

A notepad with a dark grey header containing the number '6'. The notepad is white with three punch holes on the right side and a yellow paperclip on the left side.

NAMA :

KELAS :

## LEARNING COMMUNITY (BELAJAR DALAM KOMUNITAS)

NILAI :

Isilah dengan jawaban yang tepat! Dan diskusikan bersama temanmu!

1 Satuan panjang yang paling kecil adalah?

Jawaban :

2 Satuan panjang yang lebih besar dari cm adalah?

Jawaban :

3 1 meter sama dengan \_\_\_\_\_ sentimeter.

Jawaban :

4 Satuan panjang yang digunakan untuk mengukur jarak jauh adalah?

Jawaban :

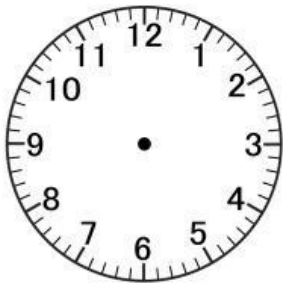
5 mm, cm, m, km termasuk satuan?

Jawaban :


Nama: \_\_\_\_\_ Kelas: \_\_\_\_\_ Tanggal: \_\_\_\_\_

# MENGENAL WAKTU


Gambarlah jarum jam sesuai perintahnya setelah kamu diajari bu guru yaa!



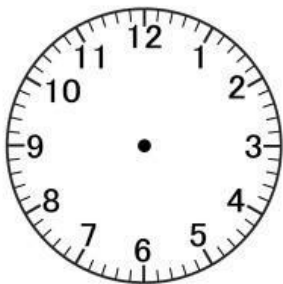
06.00




09.30



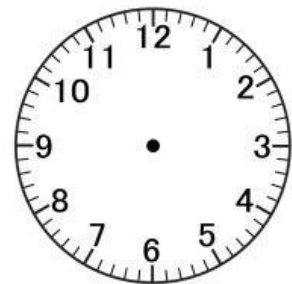
03.30



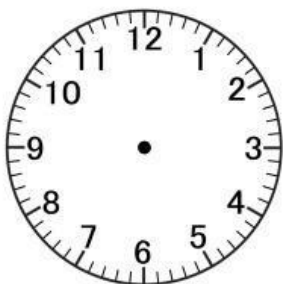
04.30




07.00



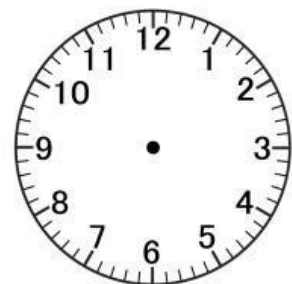
10.30



05.30



01.00



12.00



# REFLEKSI SKALA EMOJI

NAMA : \_\_\_\_\_

KELAS : \_\_\_\_\_

BAGAIMANA PERASAAN SAYA TENTANG KINERJA SAYA?



APA YANG BERHASIL DENGAN BAIK?

APA YANG TIDAK BERJALAN DENGAN BAIK?

APA YANG AKAN SAYA UBAH LAIN KALI?



Nama:

Kelas:

# Menghitung Waktu



## Petunjuk

Tariklah garis dari pernyataan di sebelah kiri ke jawaban yang benar di sebelah kanan. Cocokkan satuan waktu dengan nilainya secara tepat.

2 jam 30 menit

1 jam 30 menit

1 jam

2 menit

90 menit

150 menit

120 detik

7 hari

1 minggu

120 menit

2 jam

60 menit



## Petunjuk

Bacalah setiap soal dengan cermat dan hitunglah satuan waktu dengan benar. Tuliskan hasilnya di tempat yang tersedia.

1. Ayah berangkat kerja pukul 07.00 dan pulang pukul 16.00. Berapa jam Ayah bekerja?

Jawaban:

---

---

2. Edo bermain selama 2 jam. Jika ia mulai bermain pukul 10.00, pukul berapa ia selesai bermain?

Jawaban:

---

---

Saran Guru

Nilai

Paraf