

LKPD

MATEMATIKA

UNTUK SISWA SEKOLAH DASAR

Nama : _____

Kelas : _____



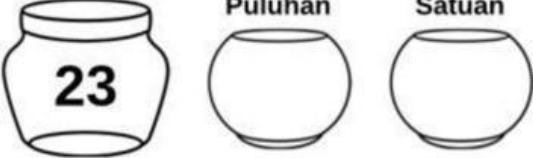
Nama:

Absen:

NILAI TEMPAT

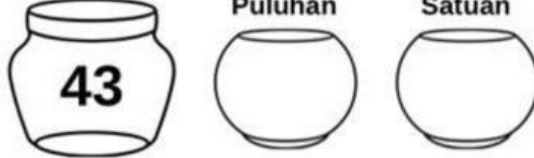
Tuliskan nilai tempat di bawah ini dengan benar!

Bilangan Puluhan Satuan



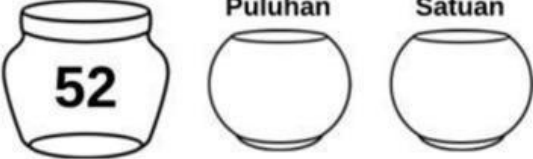
23

Bilangan Puluhan Satuan



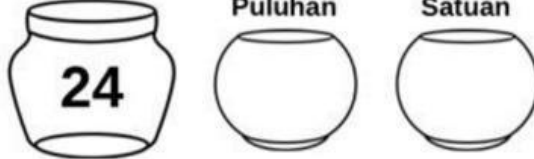
43

Bilangan Puluhan Satuan




52

Bilangan Puluhan Satuan



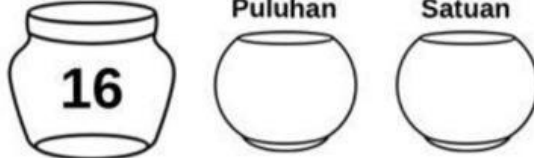
24

Bilangan Puluhan Satuan




31

Bilangan Puluhan Satuan



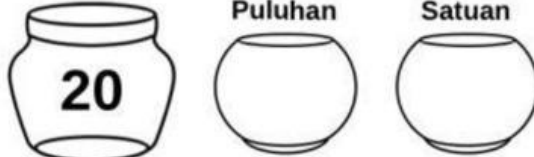
16

Bilangan Puluhan Satuan




12

Bilangan Puluhan Satuan



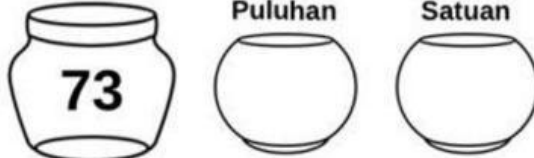
20

Bilangan Puluhan Satuan



56

Bilangan Puluhan Satuan



73

AYO MEMBILANG SAMPAI DENGAN 100

Menghitung Bilangan Sampai dengan 100

NAMA : _____

KELAS : _____

1

57

Gambar di atas dibaca ____

2

Beri tanda centang (✓) pada bilangan yang lebih besar dari 40!



3

Hubungkan bilangan dengan lambang bilangan yang sesuai!

Lambang bilangan
42
67
53

Bilangan
Lima puluhan dan tiga satuan
Empat puluhan dan dua satuan
Enam puluhan dan tujuh satuan



NAMA :

KELAS :



AYO MEMBILANG SAMPAI DENGAN 100



Membandingkan Bilangan Sampai dengan 100

1 Lingkarilah bilangan yang paling besar



2 44, 35, 87, 56

Urutkan dari yang terkecil sampai terbesar!



3 23, 67, 35, 59

Urutkan dari yang terbesar sampai terkecil!