


# Bahan Ajar & LKPD

## Diagram Batang

Perhatikan video berikut ini:

1



Perhatikan materi presentasi berikut ini:

2



Berilah tanda ceklis ( ✓ ) di jawaban yang tepat.

3

- Diagram batang adalah cara menyajikan data menggunakan ....
- batang yang digambar memiliki ukuran .... yang sama.
- Sumbu tegak disebut dengan ....
- Sumbu mendatar disebut dengan ....
- Bagaimana rentang skala pada sumbu vertikal?

Yang merupakan syarat atau ketentuan membuat diagram batang adalah:

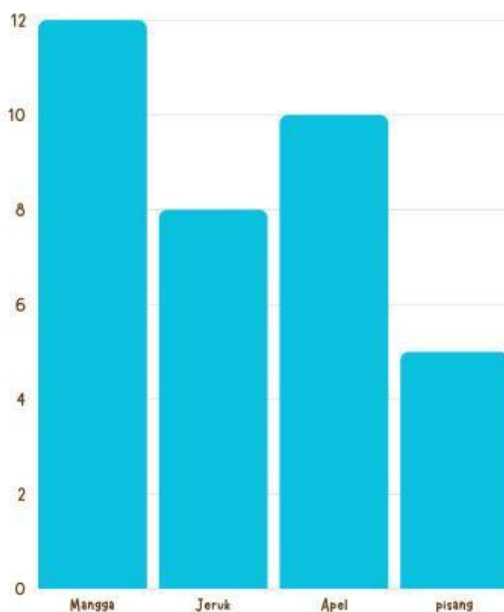
4

- Setiap batang digambar dengan lebar yang sama.
- Jarak antar batang berbeda.
- Setiap batang diberi label dibawahnya.
- Setiap sumbu diberi label.

Perhatikan diagram batang berikut, lalu jawablah pertanyaan disampingnya!

5

Data Buah Kesukaan Murid Kelas 7D







- Buah apa yang paling banyak disukai?
- Buah apa yang paling sedikit dipilih?
- Berapa selisih buah mangga dan jeruk?
- Berapa seluruh murid kelas 7D?
- Sebutkan berapa jumlah murid yang menyukai buah apel?

Dalam rangka mmemperingati HUT RI maka Sekolah Bangsa akan mengadakan bazar di lapangan sekolah. Bu Milah salah satu ibu kantin di Sekolah Bangsa berkesempatan untuk berjualan di bazar tersebut. Dia menjual kaos yang beraneka warna. Kemudian setelah dicatat bahwa penjualan kaosnya adalah Kaos warna merah terjual 9 pcs, Kaos warna hitam terjual 12 pcs, Kaos warna biru terjual 6 pcs, dan Kaos warna kuning terjual 3 pcs.

Tarik garis untuk memasangkan warna kaos dengan jumlah yang terjual:

6

	<div style="border: 1px solid green; padding: 5px; display: inline-block;">3 pcs</div>
	<div style="border: 1px solid green; padding: 5px; display: inline-block;">9 pcs</div>
	<div style="border: 1px solid green; padding: 5px; display: inline-block;">12 pcs</div>
	<div style="border: 1px solid green; padding: 5px; display: inline-block;">6 pcs</div>

Pindahkan batang-batang dibawah ini ke diagram disampingnya sesuai dengan tinggi penjualan kaos diatas.

7

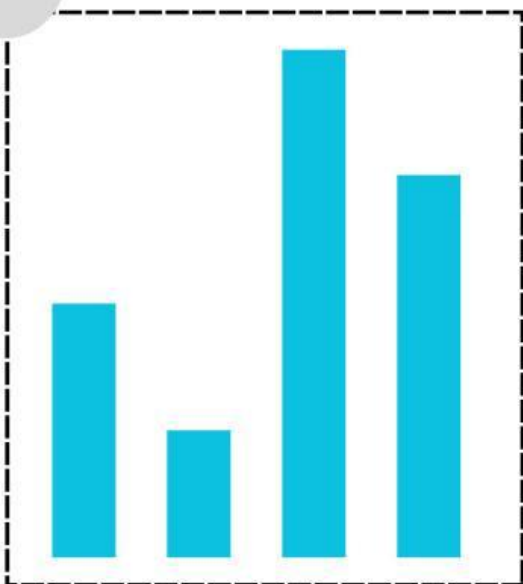


Diagram Penjualan Kaos

