


# ใบงานที่ 1 เรื่อง วิธีการแก้ปัญหา


คำชี้แจง : ตอบคำถามที่กำหนดให้ถูกต้อง

1. พิจารณาภาพสถานการณ์ที่กำหนดให้ และเขียนเส้นทางจากจุดเริ่มต้นไปยังจุดสิ้นสุดให้ถูกต้อง พร้อมระบายสีตกแต่งภาพให้สวยงาม


- 1) วันนี้เป็นวันเกิดของสัตว์ชนิดหนึ่ง ลองทายกันดูว่าเป็นวันเกิดของสัตว์ชนิดใด โดยการหาเส้นทางเพื่อพาสัตว์ทั้ง 3 ชนิด เดินทางไปรับของขวัญ



ขีด ✓ ลงใน ○ และตอบคำถามว่า วันนี้เป็นวันเกิดของสัตว์ชนิดใด



2) เส้นทางการเดินทางของสัตว์ทั้ง 5 ชนิด ได้แก่ กระจ่าง ตึง แกะ หมู และม้า  
เมื่อเดินทางตามเส้นทางที่กำหนดให้ สัตว์ทั้ง 5 ชนิดจะได้กินขนมหมายเลขใดบ้าง



1

2

3

4

5

นำหมายเลขที่กำหนดให้เติมลงในช่อง  เพื่อตอบคำถามว่า สัตว์แต่ละชนิดจะกินขนมหมายเลขใด

