



# LKPD

## Matematika

### Dekomposisi Bangun Datar

Kelompok: \_\_\_\_\_

Kelas: \_\_\_\_\_





## Dekomposisi Bangun Datar

Instansi: SD Negeri

Tahun Penyusunan : 2026

Mata Pelajaran: Matematika

Fase / Kelas : B / IV (Empat)

Elemen: Geometri

Topik: Dekomposisi Bangun  
datar

Alokasi Waktu: 2 JP / 2x35 menit

Capaian Pembelajaran

Peserta didik dapat mengurai  
(dekomposisi) berbagai bangun datar  
dengan lebih dari satu cara jika  
memungkinkan..

Tujuan Pembelajaran

1. Murid mampu menguraikan  
(dekomposisi) berbagai bangun  
datar. (C4)



## Petunjuk Pengerjaan




1. Berdoa sebelum mengerjakan lembaran soal.
2. Isilah identitas seperti nama dan kelas.
3. Baca dan cermati soal dengan teliti.
4. Tulis jawaban yang benar pada kolom yang telah disediakan dalam LKPD.
5. Jika ada yang tidak dipahami, silahkan bertanya pada guru.
6. Mulailah mengerjakan LKPD dengan bersungguh-sungguh.

Anggota Kelompok:

- 1.
- 2.
- 3.
- 4.

Kelas :

## Pasangkan DEKOMPOSISI Bangun Datar



•

•



•

•



•

•




•

•



•

•



•

•



Hubungkan tumpukan bentuk dengan dekomposisi yang tepat!

Anggota Kelompok:

- 1.
- 2.
- 3.
- 4.

Kelas :

## DEKOMPOSISI Bangun Datar

Perhatikan gambar bangun datar di bawah ini dan tentukan susunan komposisinya!




Bentuk	Nama	Jumlah
		
		
		
		
		

Anggota Kelompok:

- 1.
- 2.
- 3.
- 4.

Kelas :

**Perhatikan gambar bangun datar berikut dan tentukan komposisi susunan bangunannya!**



Nama bangun datar	Jumlah