



LKPD

Matematika

Dekomposisi Bangun Datar


Kelompok: _____

Kelas: _____







Dekomposisi Bangun Datar



Instansi: SD Negeri
Tahun Penyusunan : 2025
Mata Pelajaran: Matematika
Fase / Kelas : B / 3 (Tiga)
Elemen: Geometri
Topik: Dekomposisi Bangun
datar
Alokasi Waktu: 2 JP / 2x35 menit

Capaian Pembelajaran
Peserta didik dapat mengurai
(dekomposisi) berbagai bangun datar
dengan lebih dari satu cara jika
memungkinkan..




Tujuan Pembelajaran

- 
1. Murid mampu menguraikan
(dekomposisi) berbagai bangun
datar. (C4)
- 



Petunjuk Pengerjaan




1. Berdoa sebelum mengerjakan lembaran soal.
 2. Isilah identitas seperti nama dan kelas.
 3. Baca dan cermati soal dengan teliti.
 4. Tulis jawaban yang benar pada kolom yang telah disediakan dalam LKPD.
 5. Jika ada yang tidak dipahami, silahkan bertanya pada guru.
 6. Mulailah mengerjakan LKPD dengan bersungguh-sungguh.
- 
- 
- 

Anggota Kelompok:

- 1.
- 2.
- 3.
- 4.

Kelas :

Pasangkan DEKOMPOSISI Bangun Datar



•

•



•

•



•

•




•

•



•

•



•

•



Hubungkan tumpukan bentuk dengan dekomposisi yang tepat!

Anggota Kelompok:

- 1.
- 2.
- 3.
- 4.


Kelas :

DEKOMPOSISI Bangun Datar

Perhatikan gambar bangun datar di bawah ini dan tentukan susunan komposisinya!



Bentuk	Nama	Jumlah
		
		
		
		
		




Anggota Kelompok:

- 1.
- 2.
- 3.
- 4.

Kelas :



Perhatikan gambar bangun datar berikut dan tentukan komposisi susunan bangunannya!



Nama bangun datar	Jumlah