

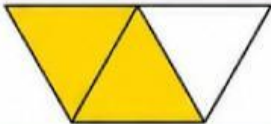



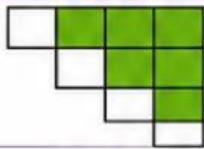

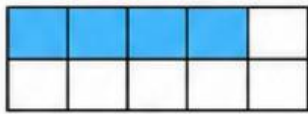

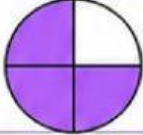

การอ่านและการเขียนเศษส่วน

ชื่อ _____ สกุล _____

ชั้น _____ เลขที่ _____

คำสั่ง

เขียนเศษส่วนแสดงจำนวนของส่วนที่ระบายสีรวมทั้งระบุตัวเศษและตัวส่วน

ข้อ	รูป	เศษส่วน	ตัวเศษ	ตัวส่วน	คำอ่าน
1.		—			
2.		—			
3.		—			
4.		—			
5.		—			
6.		—			
7.		—			
8.		—			
9.		—			
10.		—			

