



การอ่านและการเขียนเศษส่วน

ชื่อ-สกุล ชั้น เลขที่



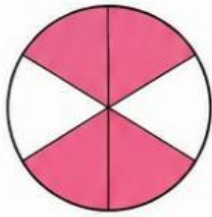
★ คำสั่ง : โยงเส้นจับคู่รูปกันเศษส่วนที่แสดงจำนวนของเศษส่วนที่ระบายสี

1)



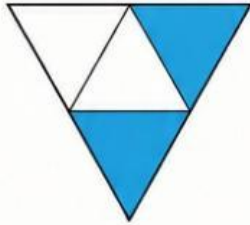
$$\frac{4}{6}$$

2)




$$\frac{5}{9}$$

3)




$$\frac{3}{4}$$

4)



$$\frac{2}{5}$$

5)



$$\frac{2}{4}$$

