

# LKPD

Matematika Kelas 1

Penjumlahan dan Pengurangan  
Sampai dengan 20

Nama: \_\_\_\_\_ Kelas: \_\_\_\_\_





## Lengkapi Jawaban

- Jawablah pertanyaan di bawah ini dengan benar!

1

$$8 + 9 =$$

2

$$12 - 7 =$$

3

$$5 + 9 =$$

4

$$10 - 8 =$$

5

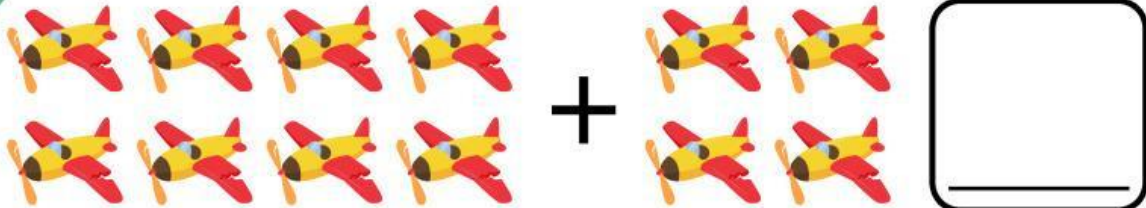
$$7 + 6 =$$



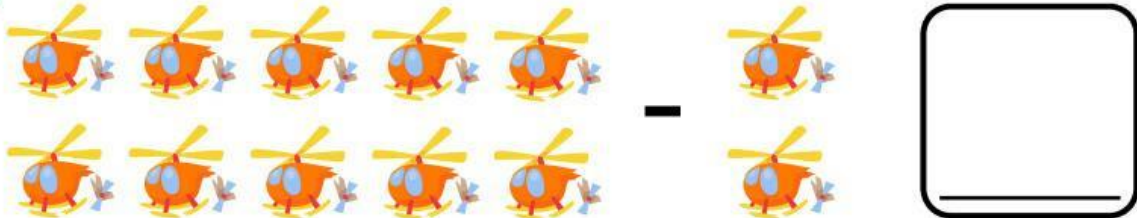
## Hitung Benda

- Hitunglah benda di bawah ini lalu jawablah dengan benar!

1



2




3



4



5





## Soal Cerita

- Bacalah soal cerita dibawah ini lalu jawablah pertanyaannya!

1



Rina punya 8 pensil. Ibu membelikan lagi 7 pensil. Berapa jumlah pensil Rina sekarang?

2



Budi memiliki 11 kelereng. Ia memberikan 6 kelereng kepada temannya. Berapa kelereng Budi yang tersisa?

3



Ani mempunyai 12 permen. Lalu temannya memberi 5 permen lagi. Berapa jumlah permen Ani sekarang?

4



Deni punya 20 balon. Balon itu pecah 9 buah. Berapa balon Deni yang masih ada?

5



Lani membeli 10 roti, lalu adiknya membeli 4 roti lagi. Berapa jumlah roti mereka semua?

Nama: \_\_\_\_\_

Tanggal: \_\_\_\_\_

Yuk, Menghubungkan

# Penjumlahan dengan Hasilnya



Hubungkan penjumlahan dan hasilnya dengan menarik garis!

$2 + 5$

3

7

$3 + 0$

$4 + 1$

5

3

$1 + 2$

$3 + 4$

7

6

$2 + 4$

$5 + 0$

11

5

$5 + 6$

$8 + 2$

12

10

$9 + 3$