

أوراق دعم وتثبيت عن المفاهيم النظرية

لمادة الحوسبة وتكنولوجيا المعلومات

الوحدة الثانية (أجهزتي وملفاتي الرقمية)

الوحدة الثالثة (أنا أبرمج)

الصف الثالث الابتدائي

السؤال الأول: صل بين كل اتجاه والمصطلح الخاص به باللغة الإنجليزية:



إلى الأمام



إلى الخلف



يمين

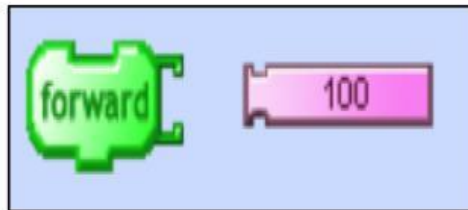


يسار

السؤال الثاني:

أجب عن الأسئلة الآتية بوضع علامة صح أسفل الصورة المناسبة:

1- مثال على خطأ لغوي

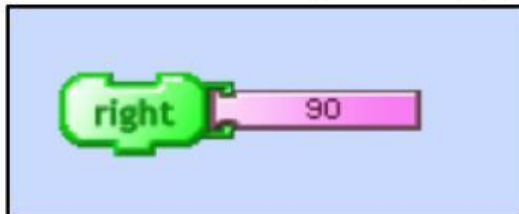


()

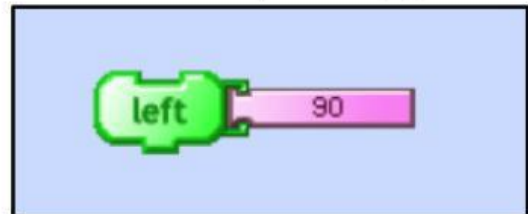


()

2- أمر يُستخدم لجعل السلحفاة تستدير إلى اليسار بمقدار 90 درجة



()

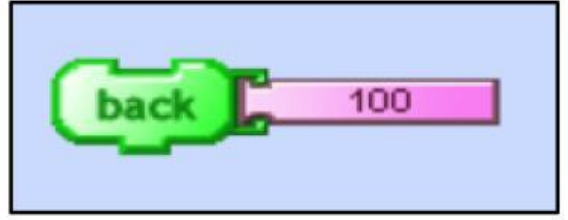


()

3- أمر يُستخدم لتحريك السُلحفاة إلى الأمام بمقدار 100 خطوة



()



()

4- بطاقة الذاكرة Memory Card



()



()

5- الذاكرة الوامضة Flash Memory



()



()

6- طابعة نفث الحبر Inkjet Printer



()



()

7- طابعة الليزر Laser Printer



()



()

السؤال الثالث:

اختر الإجابة الصحيحة للعبارات الآتية:

1. الشخصية الرئيسية في برنامج Turtle Art هي:

- القط
- السلحفاة
- الكرة

2. هو موقف معين يجب إيجاد حل له

- المشكلة
- التسلسل
- الخوارزمية

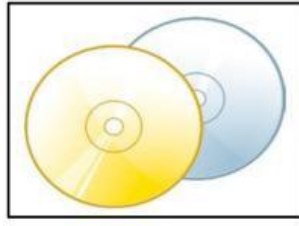
3. وضع خطوات الخوارزمية بالترتيب الصحيح

- الخوارزمية
- برنامج الحاسوب
- التسلسل

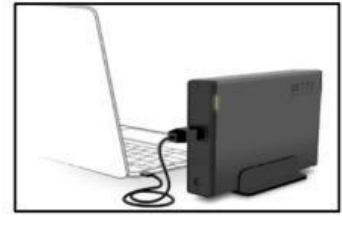
4- يُعتبر من أكبر وحدات التخزين من حيث السعة التخزينية



C



B



A

5- جهاز من أجهزة التخزين يتميز بأنه رخيص الثمن ومتوفر بأحجام مختلفة ويسهل حمله معنا إلى أي مكان:

- القرص الصلب Hard Disk
- الذاكرة الومضة Flash Memory
- بطاقة الذاكرة Memory Card

6- ما اسم الجهاز الموجود أمامك في الصورة



- الراسمة
- طابعة نفث الحبر
- طابعة الليزر

7- ما اسم الجهاز الموجود أمامك في الصورة



- الأقراص المدمجة
- القرص الصلب
- بطاقة الذاكرة

8- سلسلة من الأوامر التي تُعطى للحاسوب لتنفيذ مهمة محددة

- برنامج الحاسوب
- الخوارزمية
- التسلسل

9- يعد الخطأ الظاهر في الصورة خطأ



- حركي
- سمعي
- لغوي

10- وجود خلل في سلسلة التعليمات البرمجية أو في التركيب المنطقي للمقطع البرمجي

- خطأ منطقي
- خطأ لغوي
- خطأ رقمي

11- ما اسم الجهاز الموجود أمامك في الصورة



- طابعة الليزر
- طابعة نفث الحبر
- الراسمة

السؤال الرابع:

1- رتب خطوات خوارزمية إعداد عصير الآتية ترتيباً صحيحاً بكتابة الرقم داخل المربع



2- رتب خطوات الخوارزمية الآتية ترتيباً صحيحاً:

