


# LKPD

## Ilmu Pengetahuan Alam

Tema: Berkenalan dengan Energi

Nama: \_\_\_\_\_

Kelas: \_\_\_\_\_



# Bentuk-bentuk Energi

Hubungkan gambar di bawah ini dengan bentuk energi yang sesuai.



Listrik

Panas

Gerak

Bunyi

Cahaya

Kimia

# Energi yang Dihasilkan

Tuliskan energi yang dihasilkan sesuai dengan benda di bawah ini.



Listrik dan Gerak

---



---



---



---



---



---



---



---

# Menghemat Energi

Beri tanda (✓) centang pada sikap menghemat energi yang sudah kamu lakukan.



Menjemur pakaian dengan panas matahari.



Menaiki kendaraan umum.



Mematikan air keran.



Gunakan peralatan hemat energi.



Bersepeda.



Mematikan elektronik setelah digunakan.



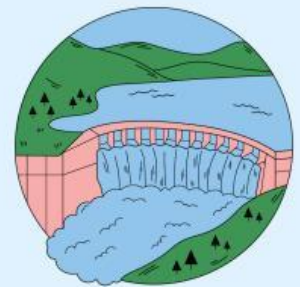
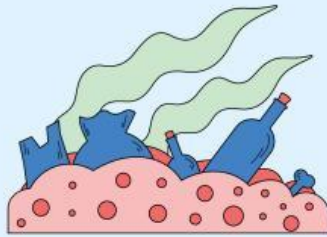
Mematikan lampu saat siang hari.



Menghabiskan makanan.

# Sumber Energi Terbarukan

Cocokkan label sumber energi dan tempelkan pada gambar yang tepat.



Energi Sinar Matahari

Energi Angin

Energi Air

Energi Panas bumi

Energi Biogas

Energi Biodiesel