
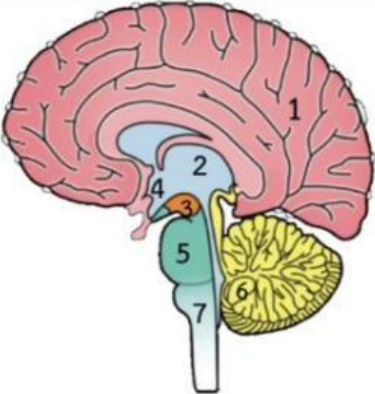
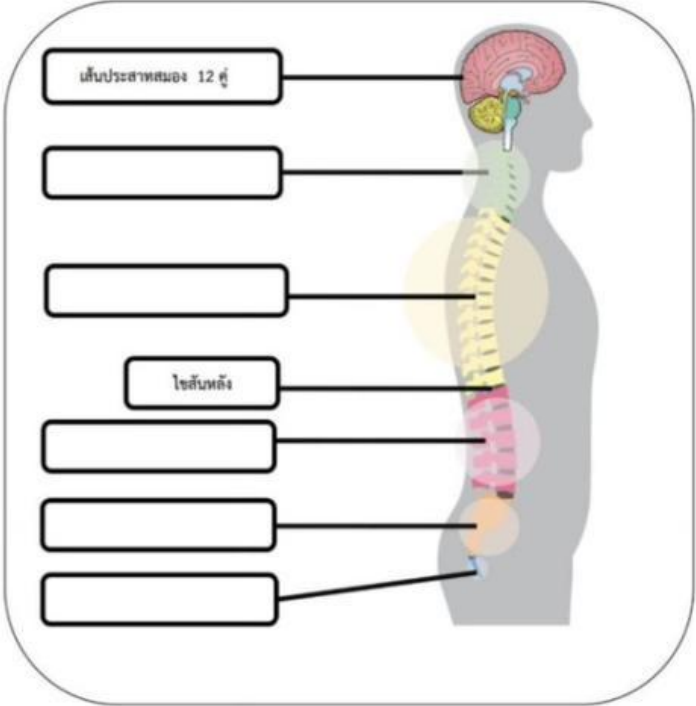


| | | | |
|---|------------|---|-------------|
|  | ใบงานที่ 1 | หน่วยที่ 1 ระบบอวัยวะของร่างกาย | คะแนน |
| | ตัวชีวิต | ตัวชีวิตระหว่างทาง พ 1.1 ม.1/1 อธิบายความสำคัญของระบบประสาท และระบบต่อมไร้ท่อที่มีผลต่อสุขภาพ การเจริญเติบโต และพัฒนาการของวัยรุ่น พ 1.1 ม.1/2 อธิบายวิธีดูแลรักษาระบบประสาท และระบบต่อมไร้ท่อให้ทำงานตามปกติ | 10 คะแนน |

คำสั่ง : ให้นักเรียนตอบคำถามเกี่ยวกับระบบประสาทให้ถูกต้อง

1. ระบบประสาท ประกอบด้วย
2. ระบบประสาท แบ่งเป็นกี่ส่วน อะไรบ้าง.....
3. ระบบประสาทส่วนกลาง ประกอบด้วย.....
4. ระบบประสาทส่วนปลาย ประกอบด้วย.....
5. ระบบประสาทอัตโนมัติ แบ่งเป็นกี่ส่วน อะไรบ้าง.....
6. การดูแลรักษาระบบประสาทสามารถปฏิบัติได้ ดังนี้
 - 6.1
 - 6.2
 - 6.3
 - 6.4
 - 6.5
 - 6.6
 - 6.7
 - 6.8

7. ส่วนประกอบของสมองและไขสันหลัง

| สมอง | ไขสันหลัง |
|---|--|
|  |  |
| <ol style="list-style-type: none"> 1. 2. 3. 4. 5. 6. 7. | |