

LKPD

Matematika

Tema: Pengukuran Panjang dan Berat

Nama: _____ Kelas: _____





Tujuan Pembelajaran

Peserta didik mampu mengukur panjang benda menggunakan satuan centimeter (cm) dengan benar.

Peserta didik mampu melakukan konversi satuan berat (kg, hg, dag, g, dg, cg, mg) dengan tepat.

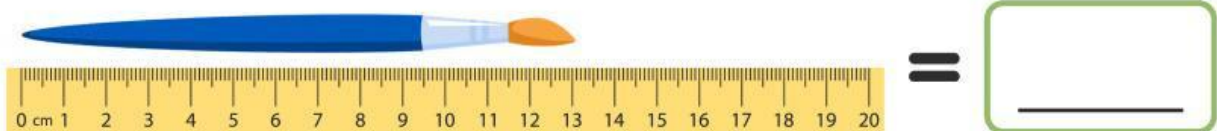
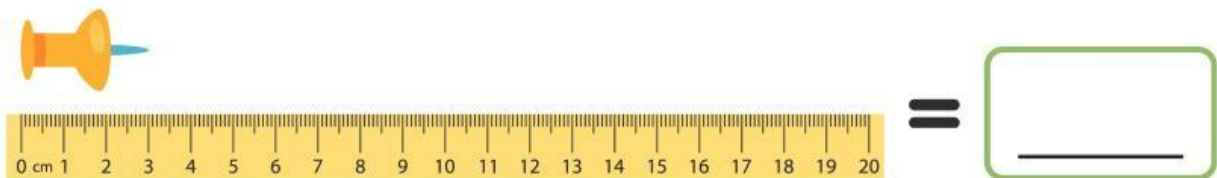
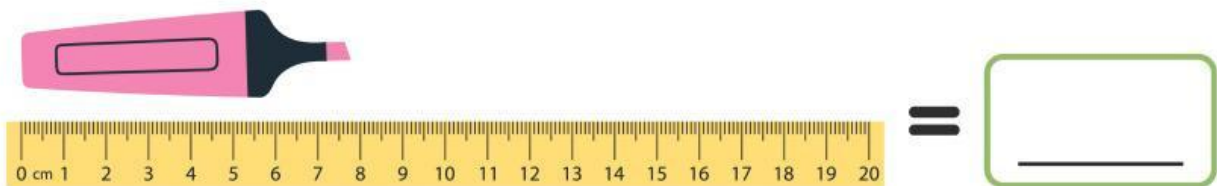
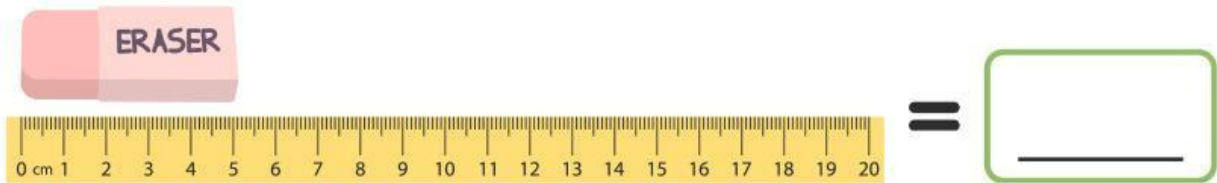



Peserta didik mampu menyelesaikan soal pengukuran panjang dan berat dalam kehidupan sehari-hari.

Peserta didik mampu mengukur serta mencatat tinggi dan berat badan dalam tabel secara teliti.



Mengukur Panjang

Perhatikan gambar, tuliskan panjang benda dengan satuan cm di bawah ini.



Konvensi Satuan Berat

Perhatikan gambar, tuliskan hasil konversi satuan berat benda di bawah ini.



_____ kg = _____ dag



_____ g = _____ mg



_____ g = _____ kg



_____ hg = _____ dag



_____ dg = _____ mg



_____ cg = _____ hg

Tinggi dan Berat Badan

Ukurlah dan tuliskan tinggi dan berat badan teman-temanmu pada tabel di bawah ini.



No.	Nama	Tinggi Badan, satuan cm	Berat Badan, satuan kg