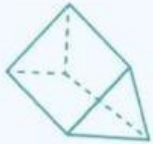
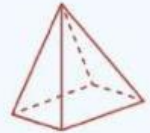


5

Lembar Kerja Peserta Didik



LKPD



MATEMATIKA



Nama : _____

Kelas : _____

Nama Siswa: _____

No Absen: _____

Kelas: _____

Penilaian:



BILANGAN CACAH 1-20



Lengkapilah bilangan cacah di bawah ini dengan benar.



Masukan guru

Paraf guru

Paraf ortu

NAMA :

KELAS :

MENULIS BILANGAN SAMPAI 20




NILAI :

.....



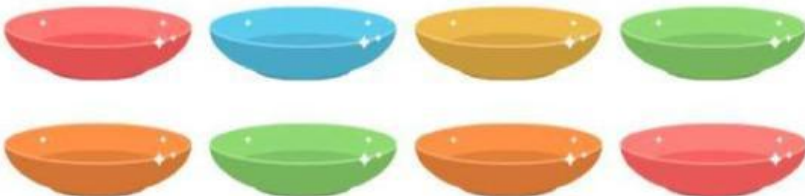
PETUNJUK :

Hitung benda pada gambar, lalu tuliskan hasilnya sebagai bilangan.



10

.....



.....



.....



.....

Nama :

Kelas :

PENJUMLAHAN SAMPAI 20

Kerjakanlah operasi hitung penjumlahan matematika di bawah ini dengan tepat!

$$\begin{array}{r} 9 \\ 6 \\ \hline \square \square \end{array} +$$

$$\begin{array}{r} 8 \\ 5 \\ \hline \square \square \end{array} +$$

$$\begin{array}{r} 9 \\ 7 \\ \hline \square \square \end{array} +$$

$$\begin{array}{r} 10 \\ 4 \\ \hline \square \square \end{array} +$$

$$\begin{array}{r} 11 \\ 7 \\ \hline \square \square \end{array} +$$

$$\begin{array}{r} 12 \\ 5 \\ \hline \square \square \end{array} +$$

$$\begin{array}{r} 13 \\ 6 \\ \hline \square \square \end{array} +$$

$$\begin{array}{r} 14 \\ 3 \\ \hline \square \square \end{array} +$$

$$\begin{array}{r} 15 \\ 4 \\ \hline \square \square \end{array} +$$

$$\begin{array}{r} 16 \\ 4 \\ \hline \square \square \end{array} +$$

$$\begin{array}{r} 17 \\ 2 \\ \hline \square \square \end{array} +$$

$$\begin{array}{r} 18 \\ 1 \\ \hline \square \square \end{array} +$$