



مدرسة سعود بن عبد الرحمن النموذجية

قسم الحوسبة وتكنولوجيا المعلومات

نهاية الفصل الدراسي الثاني 2025-2026

حل بمفرده	
حل بمساعدة المعلمة	
لم يحل	

24

الصف:

اسم الطالب

التقييم الشامل- نهاية الفصل الدراسي الثاني
الصف الأول




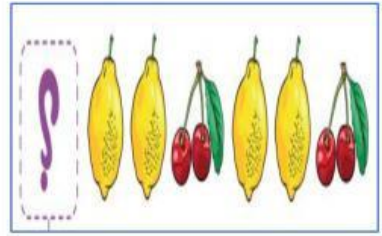




<u>الاختبار العملي</u>	<u>الاختبار النظري</u>
الوحدة الثانية: الدرس الثالث عرض محتويات صفحة الويب من صفحة 46 الى صفحة 49	الوحدة الثانية: الدرس الرابع التواصل عبر الانترنت من صفحة 50 الى صفحة 51
الوحدة الثالثة: هيا بنا نفكر الدرس الثاني لغة الاتجاهات من صفحة 62 الى صفحة 83	الوحدة الثالثة: هيا بنا نفكر الدرس الأول تسلسل التعليمات من صفحة 56 الى صفحة 61
	الوحدة الثالثة: هيا بنا نفكر الدرس الثاني لغة الاتجاهات من صفحة 62 الى صفحة 83
	الوحدة الثالثة: هيا بنا نفكر الدرس الثالث الأنماط من صفحة 84 الى صفحة 89
	الوحدة الثالثة: هيا بنا نفكر الدرس الرابع اكتشاف الأخطاء من صفحة 90 الى صفحة 100



الوحدة الثالثة: هيا بنا نفكر ----- الدرس الأول: تسلسل التعليمات

درجة الطالب	الدرجة	السؤال الثاني: قم بتوصيل العمود الأول وما يناسبه من العمود الثاني		
	1			1 الخطوة الأولى للذهاب الى المدرسة
	1			2 الخطوة الأولى لتنظيف الأسنان.
	1			3 الخطوة الأخيرة لرسم النحلة.
	1			4 الخطوة الأولى لارتداء الحذاء.
	4	المجموع		

متعلم ريادي لتلبية مستدامة.
ترسي بيئة تعليمية شاملة ومبتكرة تعزز القيم والأخلاق وتؤهل المتعلم بمهارات عالية لإعداد جيل واع قادر على بناء مجتمع متقدم و اقتصاد مزدهر.
قيمنا: المسؤولية التميز الجودة الابتكار التواصل الفعال

درجة الطالب	الدرجة	السؤال الثالث: قم بتوصيل العمود الأول وما يناسبه من العمود الثاني	
	1		1 
	1		2 
	1		3 نمط الشكل.
	1		4 نمط الشكل واللون.
	4	المجموع	

درجة الطالب	الدرجة	السؤال الرابع: اختر الإجابة الصحيحة من خلال وضع (√) داخل المربع:	
	1	 <input type="checkbox"/>	1
	1	 <input type="checkbox"/>	
	1	 <input type="checkbox"/>	2
	2	المجموع	

درجة الطالب	الدرجة	السؤال الخامس: أوجد الشكل المفقود في أنواع الأنماط التالية:	
	1		1
	1		2
	2	المجموع	

درجة الطالب	الدرجة	السؤال السادس: رتب الخطوات الآتية للحصول على التسلسل الصحيح للذهاب الى المدرسة وذلك بوضع الرقم المناسب في المربع:	
	4	    <input type="checkbox"/> <input type="checkbox"/> <input type="checkbox"/> <input type="checkbox"/>	1
	4	    <input type="checkbox"/> <input type="checkbox"/> <input type="checkbox"/> <input type="checkbox"/>	2
	8	المجموع	