

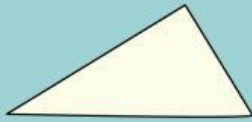
Nama:

Kelompok:

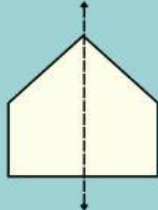
SIMETRI LIPAT

Tentukan berapa banyak simetri lipat pada bangun datar berikut, seperti pada contoh di bawah!

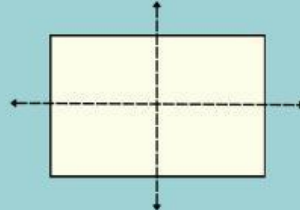
Contoh:



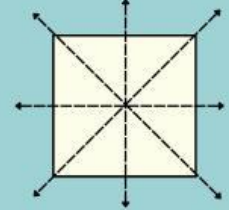
Tidak memiliki simetri lipat



1 simetri lipat



2 simetri lipat



4 simetri lipat

