

MANA YANG BENAR?



Nama

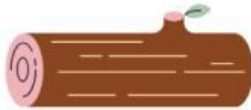
Kelas



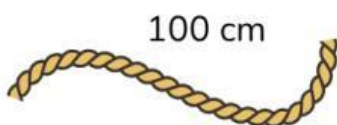
INSTRUKSI

Berilah tanda centang (✓) pada kolom jawaban yang benar!

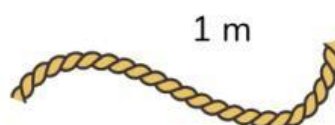
1. Bantu Arki memilih kayu yang lebih panjang untuk tiang gerbang!



2. Arki punya tali 100 cm, Jena punya tali 1 m. Apakah kedua tali tersebut memiliki panjang yang sama?



Ya



Tidak

3. Benda mana yang ukurannya paling panjang jika dibandingkan?

