

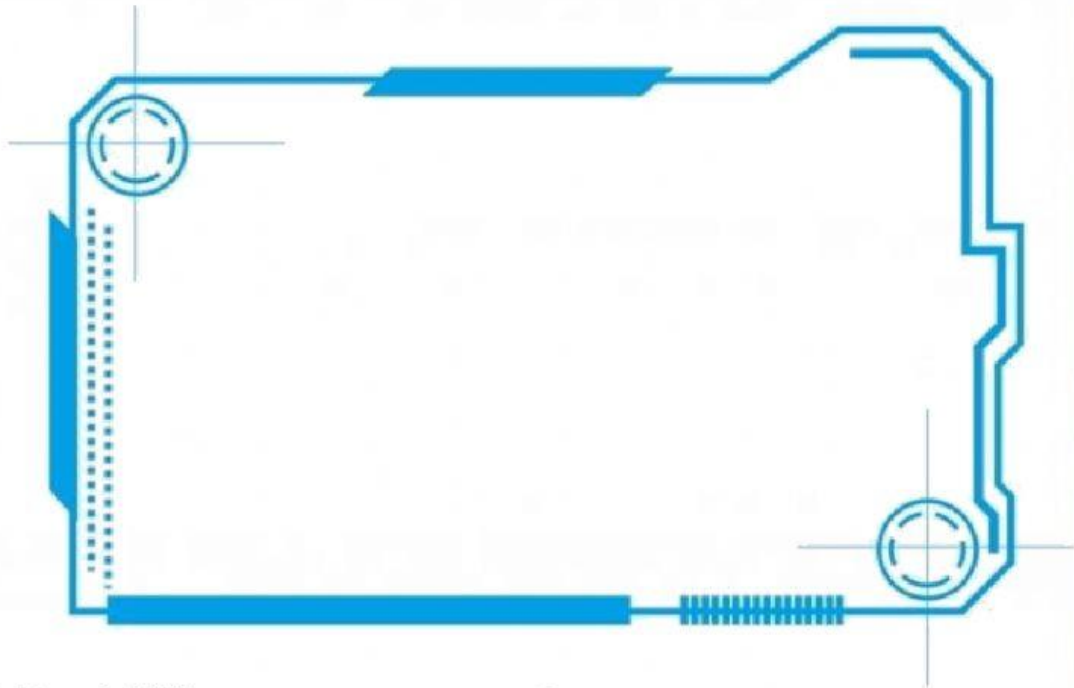
# PENGOLAHAN DATA

ENI PURWANTI, S.Pd  
SDN 2 SIDOMUKTI

Nama / Kelas :

## A. Input Video

Pastekan link video!



## C. Input MP3

Ketik *playmp3* lalu pilih file



## B. Open Answer

Terdapat 3 macam diagram diantaranya yaitu.....

#### D. Drop Down

Kerjakan soal dibawah ini dengan mengklik pada tanda!



Berikut ini adalah diagram yang menunjukkan jumlah panen yang dihasilkan oleh Desa Sidomukti pada tahun 2019 dengan total hasil panen mencapai 400 ton. Jumlah panen terbanyak adalah ....

#### E. Pilihan Ganda

Pilihlah jawaban yang tepat !

Tabel banyak hewan di peternakan Desa Sidomukti

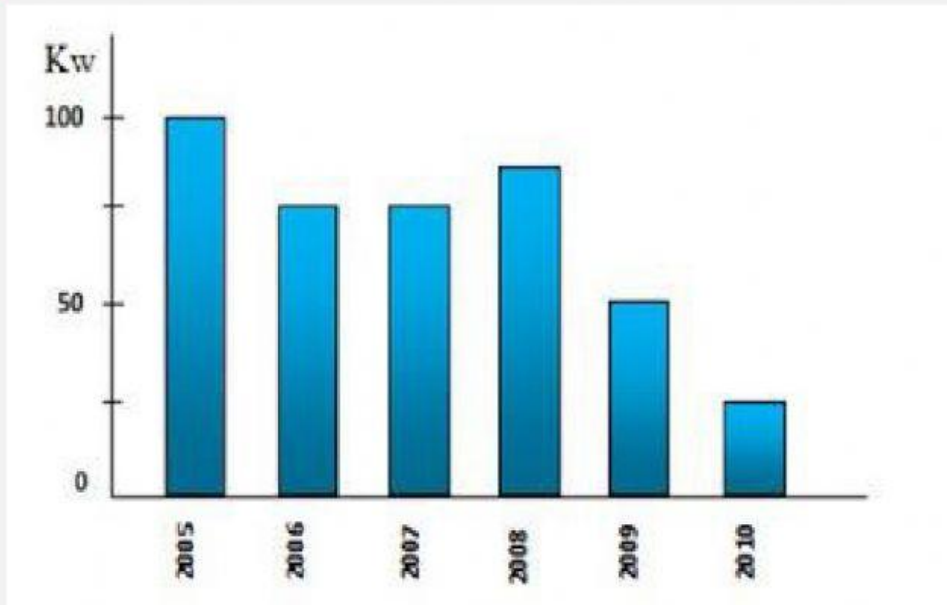
Hewan	Jumlah
Kerbau	20
Sapi	10
Kambing	12
Ayam	40
Domba	18

Jenis hewan terbanyak pada tabel diatas adalah ...

- Ayam
- Sapi
- Domba
- Kambing

## F. Kontak Centang

Berilah tanda centang pada pernyataan yang tepat mengenai diagram batang!



- Hasil panen Desa Sidomukti tahun 2010 adalah 50 kwintal
- Hasil panen Desa Sidomukti tahun 2008 adalah 100 kwintal
- Hasil panen paling banyak di tahun 2005
- Hasil panen Desa Sidomukti tahun 2008 adalah 500 kwintal

### G. Menjodohkan dengan Garis

Tariklah garis dari huruf A,B,C,D, E ke arah kotak pasangannya!

1. Perhatikan tabel berikut ini!

Distribusi Frekuensi  
Umur Karyawan PT Basmallah

Umur (Tahun)	Jumlah Karyawan
20 – 29	10
30 – 39	15
40 – 49	8
50 – 59	9
60 – 69	3
Jumlah	45

Jumlah karyawan yang berumur 50 – 59 tahun

Jumlah karyawan yang berumur 20 – 29 tahun

Jumlah karyawan yang berumur 60 – 69 tahun

Jumlah karyawan yang berumur 30 – 59 tahun

Jumlah karyawan yang berumur 40 – 59 tahun

A. 3

B. 15


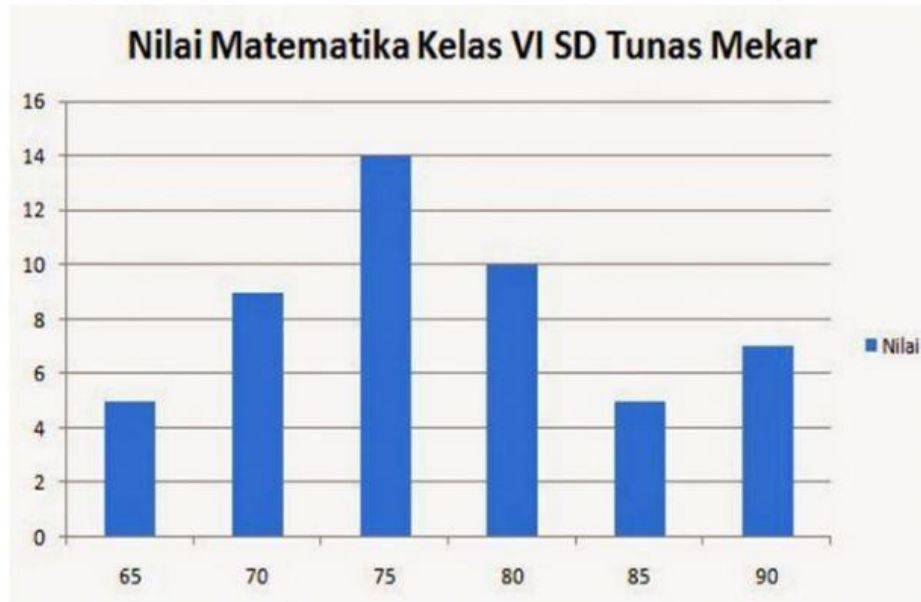
C. 10

D. 8

E. 9

### H. Drag & Drop

Klik/ sentuh, kemudian geser dan lepaskan sesuai dengan gambar dan nama gambarnya !



## Nilai Matematika Kelas VI SD Tunas Mekar

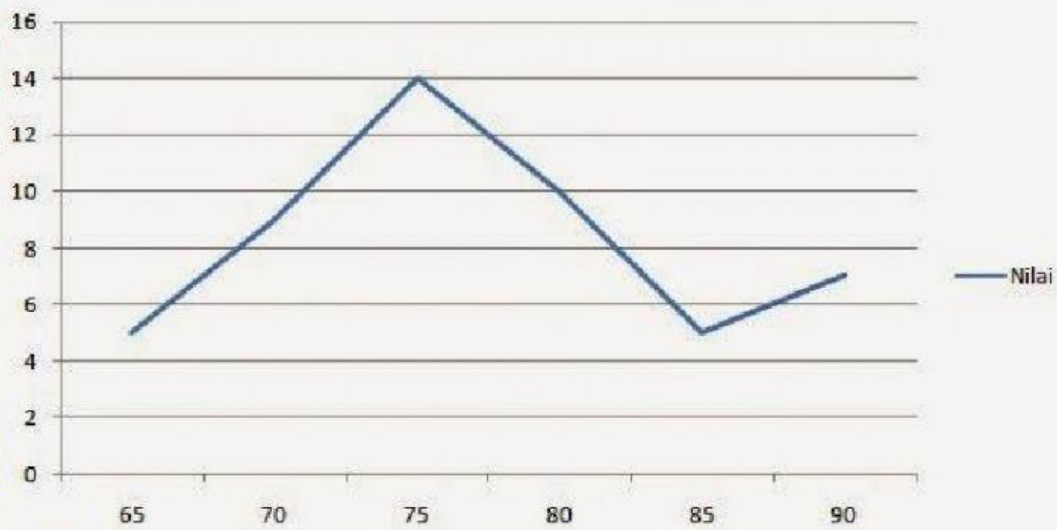


DIAGRAM GARIS

DIAGRAM LINGKARAN

DIAGRAM BATANG