

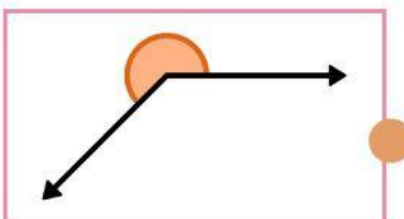
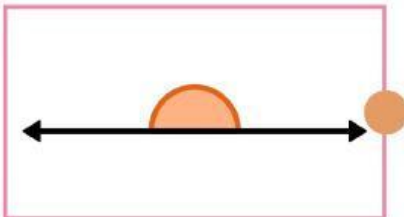
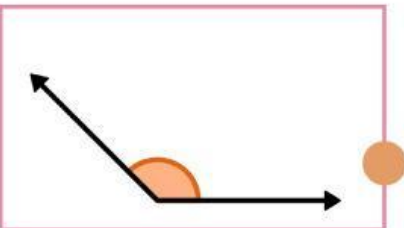
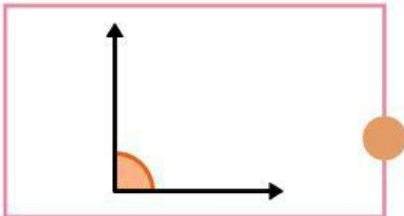
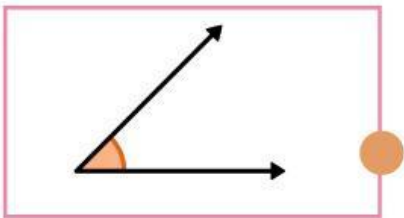
LATIHAN 1

JENIS-JENIS SUDUT

Nama: _____

Kelas: _____

Amati sudut berikut. Hubungkan gambar sudut dengan nama sudut yang sesuai!



Sudut Tumpul

Sudut Lancip

Sudut Siku-siku

Sudut Refleks

Sudut Lurus

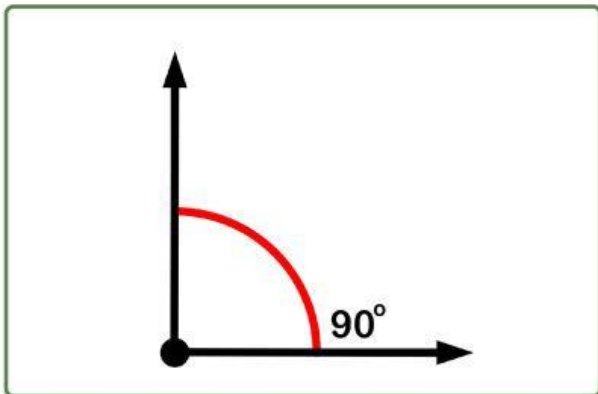
LATIHAN 2

SUDUT DAN BESARNYA

Nama: _____

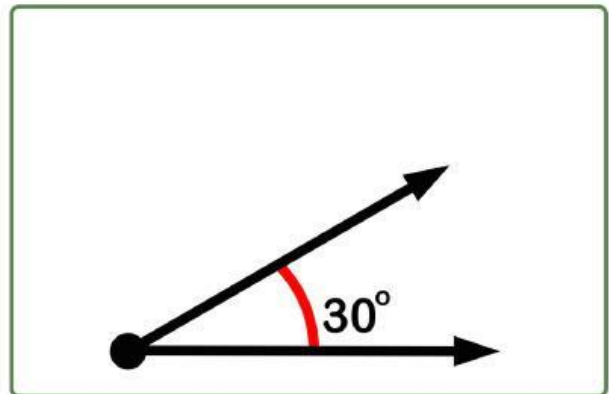
Kelas: _____

Amatilah gambar sudut di bawah ini. Tuliskan nama jenis sudut berdasarkan besar sudutnya dengan tepat!

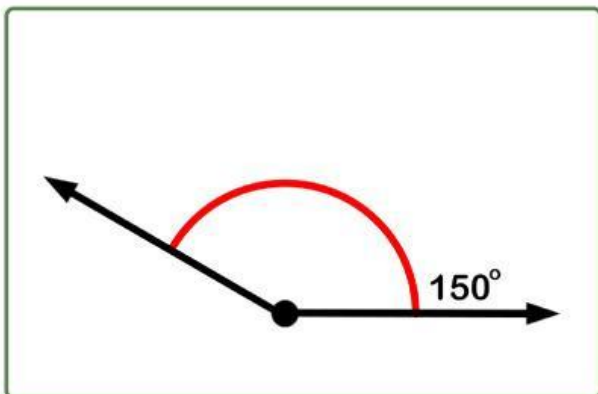


Sudut siku-siku

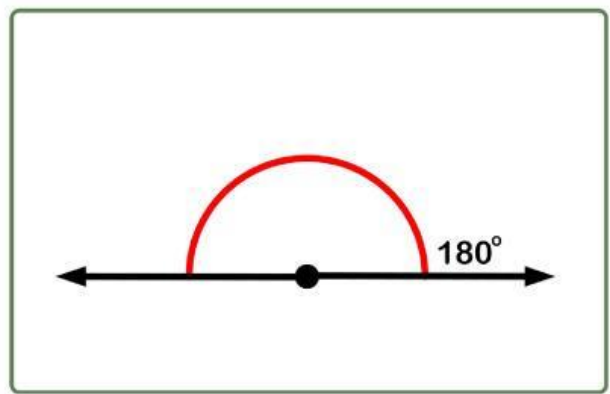
.....



.....



.....



.....

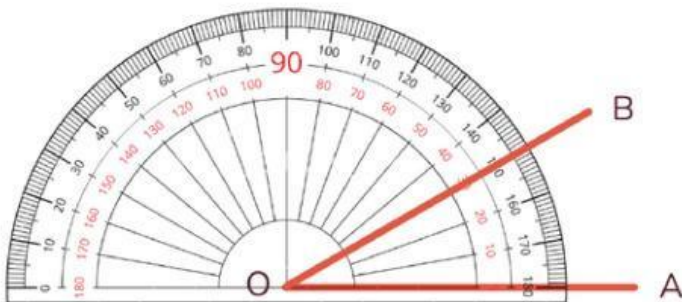
LATIHAN 3

MENGUKUR SUDUT MENGGUNAKAN BUSUR DERAJAT

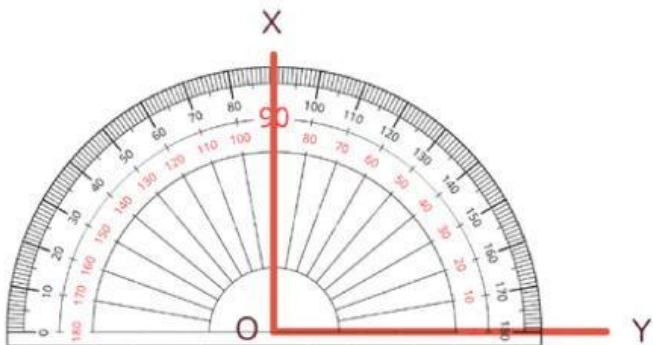
Nama: _____

Kelas: _____

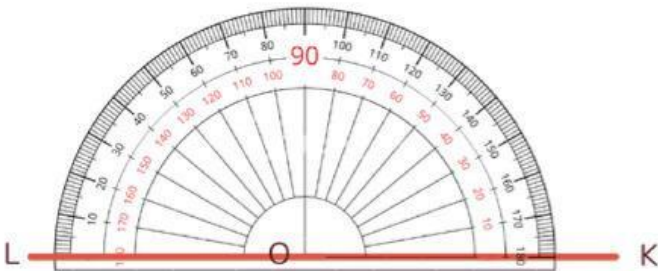
Nyatakan ukuran sudut yang ditunjukkan dengan menggunakan busur derajat.



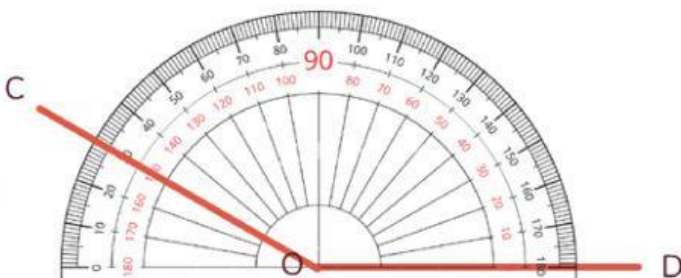
$\angle AOB = \dots\dots\dots$



$\angle XOY = \dots\dots\dots$



$\angle KOL = \dots\dots\dots$



$\angle COD = \dots\dots\dots$

LATIHAN 4

MENGGAMBAR DAN MENGUKUR SUDUT MENGUNAKAN BUSUR DERAJAT

Nama: _____

Kelas: _____

Gambarlah sudut sesuai besar derajat yang tertera, menggunakan busur derajat.

