

Nama :

Kelas :

MENGENAL WAKTU

Amati gambar berikut kemudian isi keterangan jam berdasarkan gambar yang tepat!



Jam : 04
Menit : 00
Pukul : 04.00



Jam :
Menit :
Pukul :



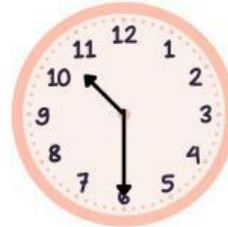
Jam :
Menit :
Pukul :



Jam :
Menit :
Pukul :



Jam :
Menit :
Pukul :



Jam :
Menit :
Pukul :



Jam :
Menit :
Pukul :



Jam :
Menit :
Pukul :



Jam :
Menit :
Pukul :



Jam :
Menit :
Pukul :

Nama :

Kelas :

SOAL CERITA

PENJUMLAHAN WAKTU

Kerjakanlah operasi penjumlahan waktu di bawah ini dengan tepat!



Dina berolahraga selama 25 menit 30 detik di pagi hari dan 40 menit 55 detik di sore hari. Berapa total waktu Dina berolahraga?

0 jam 25 menit 30 detik

0 jam 40 menit 55 detik

+



Rita belajar selama 1 jam 30 menit 25 detik lalu belajar lagi selama 45 menit 40 detik. Berapa total waktu Rita belajar?

1 jam 30 menit 25 detik

0 jam 45 menit 40 detik

+



Ibu memasak lauk selama 1 jam 15 menit 30 detik dan membuat kue selama 50 menit 45 detik. Berapa lama total Ibu memasak?

1 jam 15 menit 30 detik

0 jam 50 menit 45 detik

+



Ayah menyetir selama 3 jam 9 menit 15 detik dan menyetir lagi selama 2 jam 35 menit 45 detik. Berapa total waktu perjalanan?

3 jam 9 menit 15 detik

2 jam 35 menit 45 detik

+



Film pertama berdurasi 1 jam 55 menit 30 detik dan film kedua 2 jam 15 menit 50 detik. Berapa total durasi kedua film?

1 jam 55 menit 30 detik

2 jam 15 menit 50 detik

+

Nama:

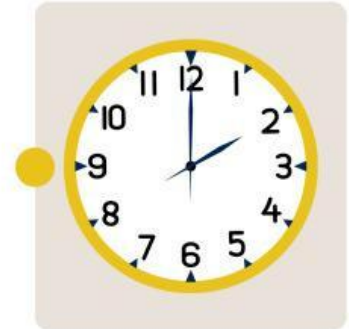
Kelas:

MEMBACA JAM ANALOG

Perhatikan gambar jam di bawah ini kemudian tarik garis dan pasangkan dengan keterangan yang tepat!



10:30



06:30



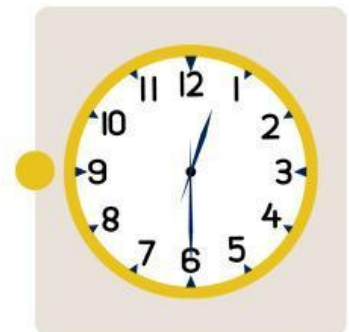
08:00



08:30



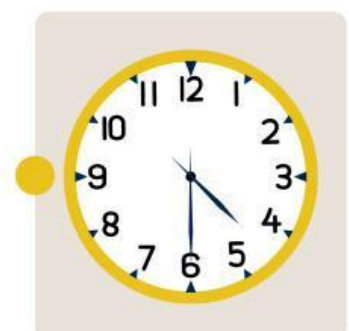
11:00



02:00



12:30



04:30

Nama:

Kelas:

Menggambar Jarum Jam

Gambarlah jarum jam pada gambar jam berikut sesuai dengan waktu yang tertera!


03:00



06:30



09:15



12:45



15:00



18:20



21:10



23:00



05:00



05:00



05:00



05:00



12:15



15:30



18:00



19:45



PENGUKURAN

MEMBANDINGKAN BERAT BENDA



NAMA :

KELAS :

Amati setiap gambar berikut dan lengkapi setiap kalimat menggunakan salah satu kalimat berikut!

lebih berat lebih ringan Paling ringan paling berat sama berat



Jawablah pertanyaan di bawah ini dengan benar!

1. Semangka _____ dari apel.
2. Apel _____ dari pir.
3. Jeruk _____ dari semangka.
4. Jpir _____ dari semangka.
5. Jeruk _____ dari pir.
6. Apel _____ dari jeruk.
7. Semangka _____ dari apel dan pir.
8. Jeruk _____ dari apel dan pir.
9. Jeruk adalah buah yang _____
10. Semangka adalah buah yang _____

PENGUKURAN

Berat

NAMA : _____

KELAS : _____

1



Berat menunjukkan seberapa ____

- a. Besar benda
- b. Cepat benda
- c. Berat atau ringannya benda

2



Benda di atas digunakan untuk ____

- a. Mengukur panjang benda
- b. Mengukur berat benda
- c. Mengukur suhu udara

3









Dari gambar di samping boneka ____ daripada buku.

- a. Sama berat
- b. Lebih ringan
- c. Lebih Berat

4

Isilah titik-titik pada kolom di bawah ini dengan sesuai!

Benda Pertama	Benda Kedua	Perbandingan yang Tepat
		Daun lebih ringan daripada batu
		
		

PENGUKURAN WAKTU DAN PANJANG

LATIHAN SOAL PILIHAN GANDA


NAMA :

KELAS :



PETUNJUK :

Kerjakan soal dibawah dengan seksama!



PERHATIKAN GAMBAR DI ATAS!

Benda manakah yang lebih panjang

- a. Pensil
- b. Penggaris
- c. Buku
- d. Sama panjang



Gambar disamping menunjukkan pukul berapa sekarang

- a. Jam 2
- b. Jam 5
- c. Jam 7
- d. Jam 8

Nana mulai belajar dirumah pukul 3 sore dan selesai pukul setengah lima sore, berapa lama waku Nana belajar

- a. 20 menit
- b. 30 menit
- c. 60 menit
- d. 90 menit

Benda yang digunakan untuk mengukur panjang adalah

- a. Penggaris
- b. Timbangan
- c. Jam dinding
- d. Jangka



Nama : _____

Kelas : _____

MENGENAL JAM

Jawablah pertanyaan berikut ini dengan benar!


Pada jam analog, terdapat jarum panjang dan jarum pendek. Tuliskan masing-masing fungsi dari jarum tersebut!

- Jarum panjang menunjukkan = _____
- Jarum pendek menunjukkan = _____


Jika jarum panjang di angka 12, dan jarum pendek di angka 1 maka ditulis pukul 01.00. Tuliskanlah waktu yang ditunjukkan berikut!

- Jarum panjang di 12, jarum pendek di 4 = pukul _____
- Jarum panjang di 12, jarum pendek di 7 = pukul _____
- Jarum panjang di 12, jarum pendek di 9 = pukul _____
- Jarum panjang di 12, jarum pendek di 11 = pukul _____
- Jarum panjang di 12, jarum pendek di 12 = pukul _____


Gambarlah jarum jam sesuai waktu berikut!



Pukul 03.00



Pukul 08.00



Pukul 10.00

Tuliskan kegiatanmu pada waktu berikut ini!

Waktu	Kegiatan
Pukul 06.00	
Pukul 12.00	
Pukul 20.00	




Nama :


Kelas :

Membandingkan Banyak Benda

Perhatikan gambar berikut, bandingkan dan jawablah pertanyaan di bawah ini.



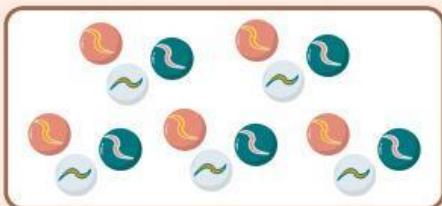
Gambar A



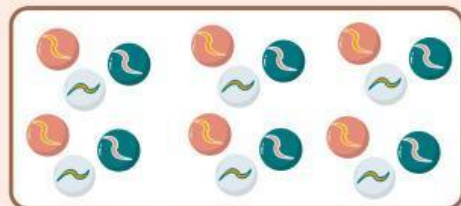
Gambar B

Buah di gambar A lebih _____ dari gambar B.

Buah di gambar B lebih _____ dari gambar A.



Gambar A



Gambar B

Kelereng di gambar A lebih _____ dari gambar B.

Kelereng di gambar B lebih _____ dari gambar A.



Gambar A



Gambar B

Buku di gambar A lebih _____ dari gambar B.

Buku di gambar B lebih _____ dari gambar A.

Nama :

Kelas :

DIAGRAM TURUS

Amati gambar berikut dan sajikan dalam diagram turus!



Lengkapi Diagram Turus berikut

Kelereng	Turus	Banyak Kelereng
Biru		
Kuning		
Hijau		
Merah Muda		

Lengkapi kalimat berikut!

1. Ada ____ kelereng merah muda.
2. Ada ____ kelereng hijau.
3. Ada ____ kelereng kuning.
4. Ada ____ kelereng biru.
5. Kelereng _____ lebih banyak dari kelereng biru.
6. Kelereng _____ sama banyak dengan kelereng hijau.
7. Kelereng _____ adalah kelereng paling banyak.

Nama :

Kelas :

Diagram Turus Edisi Peternakan

Perhatikan Peternakan Paman di bawah ini. Hitunglah hewan ternak milik Paman dan tuliskan pada tabel di bawah ini dengan diagram turus.



Nama Hewan	Turus	Banyak Hewan
Sapi	IIII	4
Kambing		
Bebek		
Kelinci		

Name: _____

Counting 1 to 100

Fill in the missing numbers.

1	2	3	4		6	7	8	9	10
11	12	13	14	15	16	17		19	20
21		23	24	25		27	28	29	30
31	32	33		35	36	37	38	39	40
41	42	43	44		46	47	48		50
51		53	54	55	56	57	58	59	
61	62	63	64		66		68	69	70
	72	73		75	76	77	78		80
81	82		84	85		87		89	90
	92	93	94	95	96		98	99	

Nama:

Kelas:

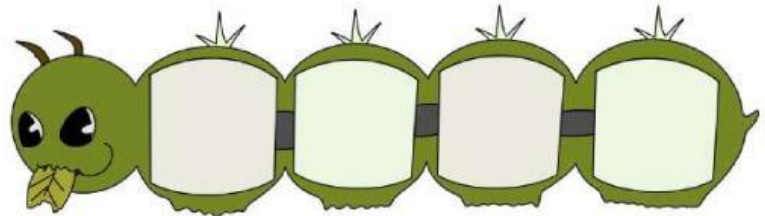
Mengurutkan Bilangan



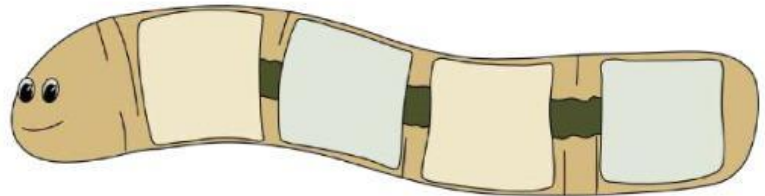
Urutkan bilangan di bawah ini sesuai dengan perintahnya!

Urutkan dari yang terkecil!

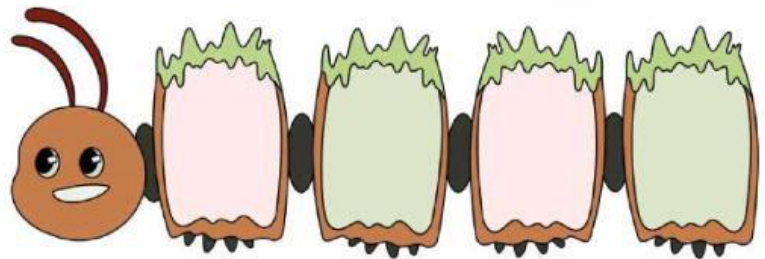
11,16,12,18



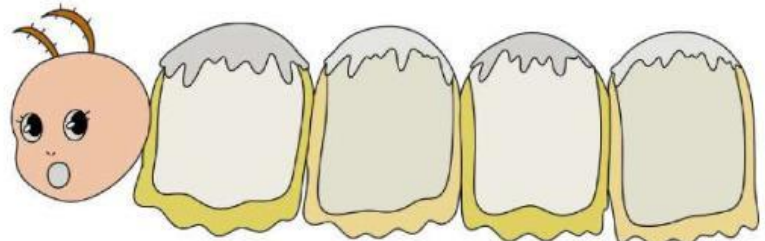
8,16,36,25



43,33,18,9



19,21,47,28



28,41,49,38



AYO BELAJAR MEMBACA DAN MENULIS BILANGAN

Kerjakan soal di bawah ini dengan baik dan benar!

Nama :

Kelas :

A. Tuliskan nama bilangan di bawah ini dengan tepat!

