

LKPD

Matematika

Kelas 5 By: Grade 5's teacher (Miss Arik & Miss Sarah)



SD EMIRATTES ISLAMIC SCHOOL



**TONTONLAH TERLEBIH DAHULU
VIDEO DI BAWAH INI MENGENAI
DIAGRAM BATANG**

Diagram Batang Vertikal

Perhatikan diagram berikut dan jawablah pertanyaan di bawah

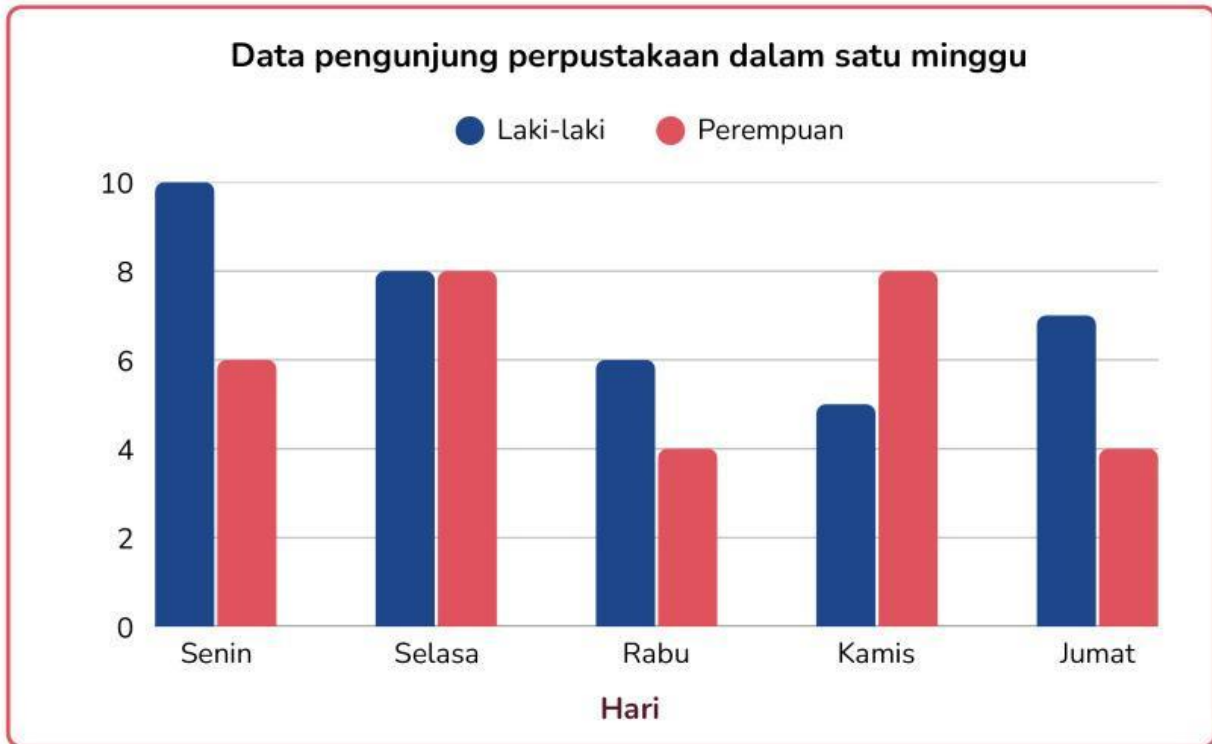
Data Kunjungan Perpustakaan pada Hari Senin



- 1 Banyak siswa laki-laki kelas 3 yang berkunjung ke perpustakaan
- 2 Kelas dengan 6 siswa perempuan berkunjung ke perpustakaan
- 3 Kelas dengan pengunjung laki-laki paling banyak adalah
- 4 Kelas dengan pengunjung perempuan paling banyak adalah
- 5 Kelas dengan pengunjung perempuan dan laki-laki sama banyak
- 6 Jumlah pengunjung perpustakaan dari kelas 6 adalah
- 7 Selisih pengunjung laki-laki dan perempuan kelas 3 adalah
- 8 Kelas dengan jumlah pengunjung terbanyak adalah
- 9 Jumlah seluruh pengunjung laki-laki yang berkunjung
- 10 Jumlah seluruh siswa yang berkunjung ke perpustakaan

Diagram Batang Vertikal

Perhatikan diagram berikut dan jawablah pertanyaan di bawah



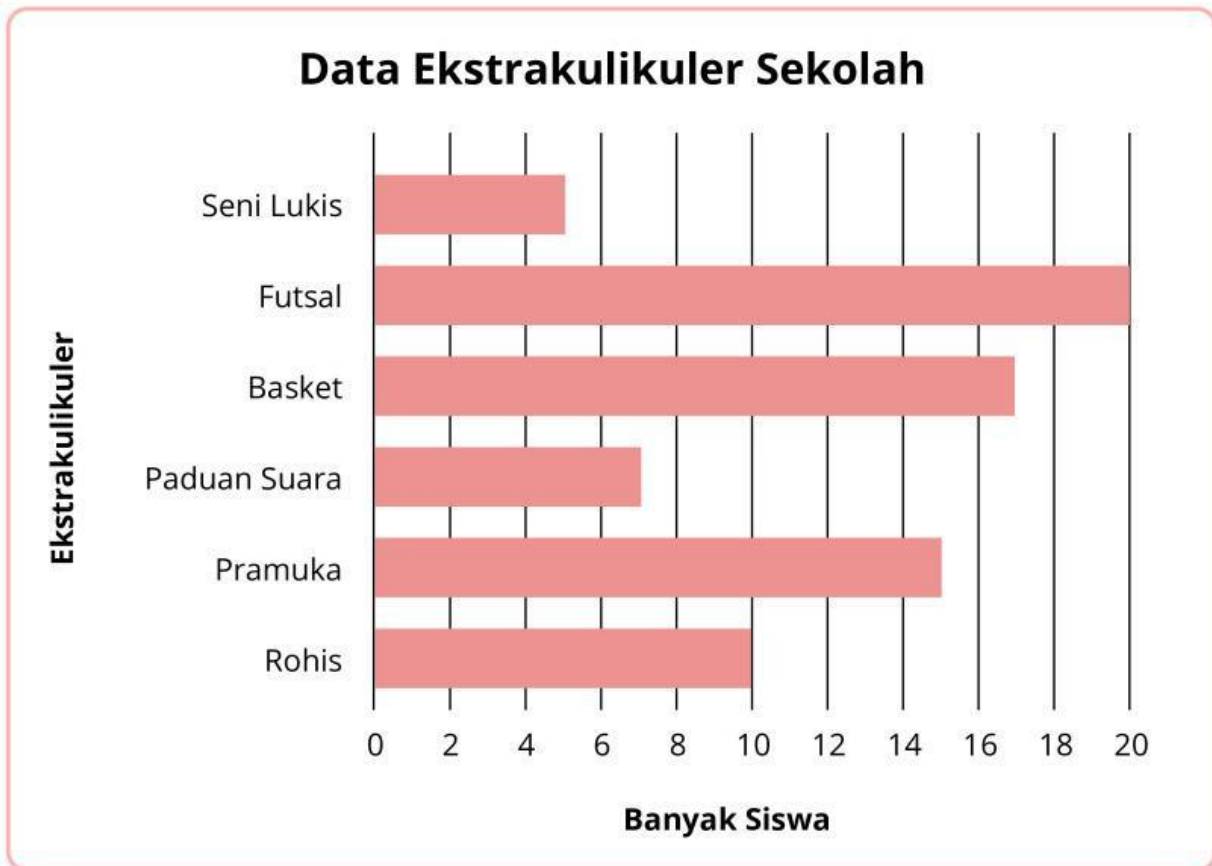
Pernyataan

Benar Salah

- Jumlah pengunjung laki-laki pada hari Senin lebih banyak daripada hari Selasa. Benar Salah
- Jumlah pengunjung perempuan paling banyak terjadi pada hari Kamis. Benar Salah
- Pada hari Rabu, jumlah pengunjung perempuan lebih banyak daripada laki-laki. Benar Salah
- Total pengunjung pada hari Selasa adalah 16 orang Benar Salah
- Hari dengan jumlah pengunjung laki-laki paling sedikit adalah hari Kamis. Benar Salah
- Jumlah pengunjung perempuan pada hari Jumat sama dengan hari Rabu. Benar Salah
- Seluruh pengunjung pada hari Jumat berjumlah 11 orang. Benar Salah
- Selisih pengunjung laki-laki dan perempuan pada hari Senin adalah 4 orang. Benar Salah
- Jumlah pengunjung perempuan hari Kamis lebih sedikit dibanding laki-laki. Benar Salah
- Total pengunjung hari Rabu lebih banyak daripada hari lain. Benar Salah

Diagram Batang Horizontal

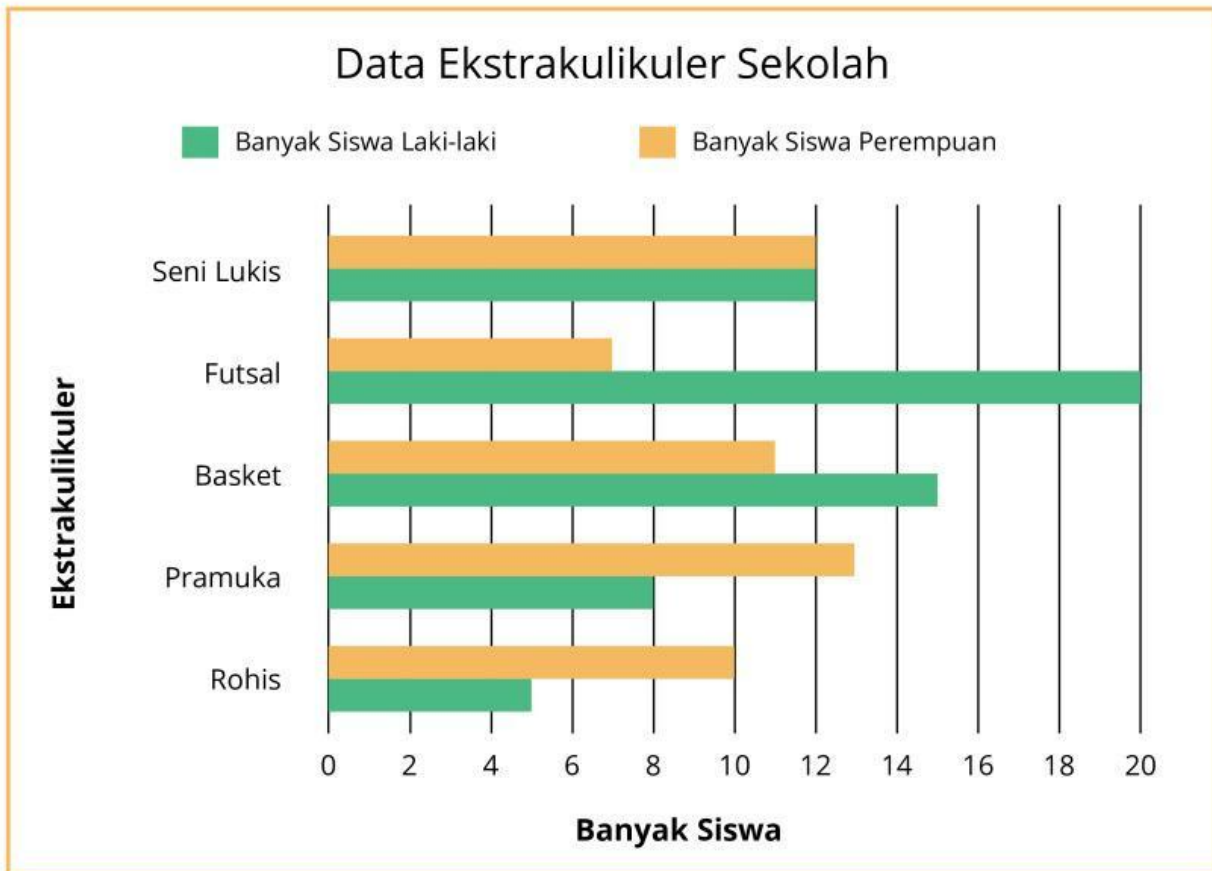
Perhatikan diagram berikut dan jawablah pertanyaan di bawah



- 1 Ekskul yang paling banyak diikuti siswa adalah
- 2 Ekskul yang paling sedikit diikuti siswa adalah
- 3 Ekskul yang diikuti oleh 15 orang siswa adalah
- 4 Ekskul yang diikuti oleh 7 orang siswa adalah
- 5 Selisih jumlah siswa yang ikut futsal dan rohis adalah
- 6 Jumlah siswa yang ikut seni lukis dan basket adalah
- 7 Selisih siswa yang ikut basket dan paduan suara adalah
- 8 Jumlah seluruh siswa yang ikut ekstrakurikuler adalah

Diagram Batang Horizontal

Perhatikan diagram berikut dan jawablah pertanyaan di bawah



- 1 Banyak siswa laki-laki yang ikut ekstartkulikuler basket adalah
- 2 Ekstartkulikuler yang diikuti oleh 13 siswa perempuan adalah
- 3 Jumlah siswa yang ikut ekstrakurikuler futsal adalah
- 4 Selisih jumlah siswa laki-laki dan perempuan yang ikut rohis adalah
- 5 Ekstrakurikuler yang paling banyak di ikuti oleh siswa adalah
- 6 Ekstrakurikuler jumlah siswa laki-laki dan perempuan sama adalah
- 7 Ekstrakurikuler yang paling sedikit di ikuti oleh siswa adalah
- 8 Jumlah siswa yang ikut rohis dan pramuka adalah

Membuat Diagram Batang

Hitunglah dan sajikan jumlahnya ke dalam diagram batang!




Diagram Batang Banyak Sayuran

