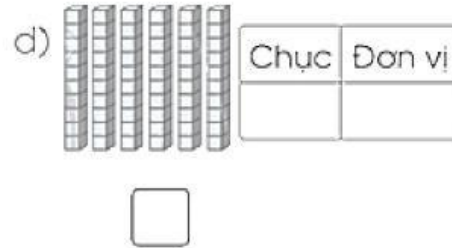
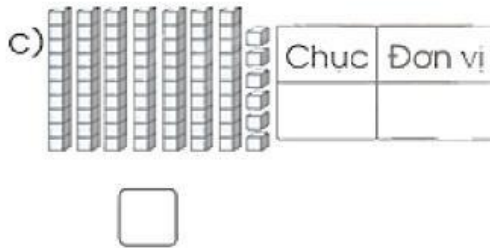
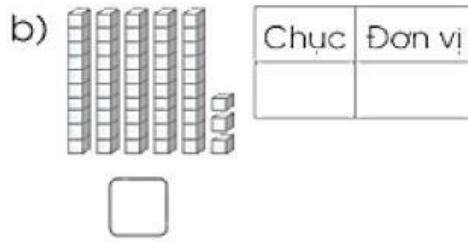
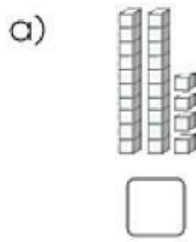



Họ và tên: _____

Ngày: _____

Bài 1: Đếm và điền số



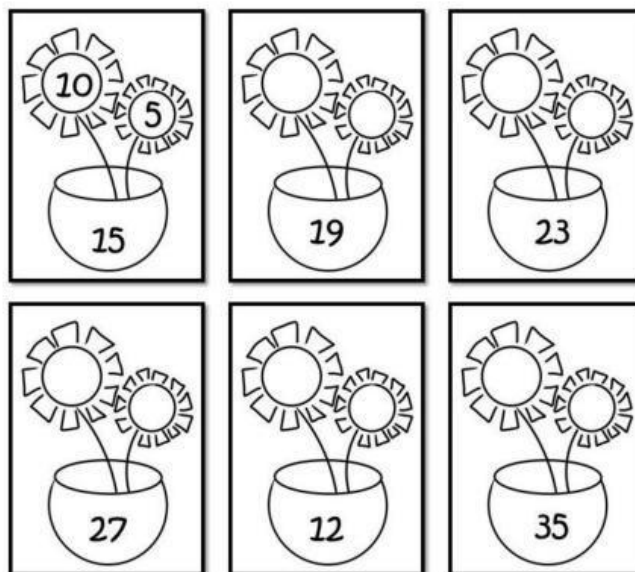
Bài 3: Điền các số tròn chục còn thiếu



Các số 10, 20, ..., 90
là các số tròn chục



Bài 3. Điền số theo mẫu



Bài 4. Số?

a) $4 + 2 = \square$

$5 + 4 = \square$

$9 - 3 = \square$

b) $8 - 6 = \square$

$10 - 5 = \square$


$3 + 7 = \square$




c) $5 + 3 = \square$


$3 + 5 = \square$





$8 - 4 = \square$

Bài 5. Tick vào đáp án thích hợp để điền vào dấu ?

a) 

A.  B.  C. 

b) 

A.  B.  C.  D. 

Bài 6. Điền số thích hợp

a) $5 + \square = 8$

$8 - \square = 5$

$8 - \square = 3$

b) $\square + 2 = 9$

$9 - \square = 2$

$9 - \square = 7$

Bài 7. Tick vào khối lập phương

