

اكتب أعداد العناصر الدالة على عملية الجمع.



=



+




٤

٢

٥

٣



=



+


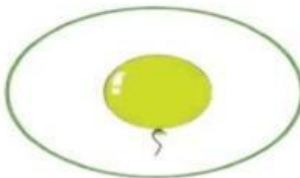


٥

٦

٣

١



=



+



٢

١

٦


٣



$$\square = \square + \square$$


٣
١
٣
٠

اكتب اعداد العناصر المعيرة عن عملية الطرح.



$$\square = \square - \square$$

٢
٤
٦
٥



$$\square = \square - \square$$

٣
٤
٣
٥



رتب الأرقام من ١ إلى ١٠

٧ ٤ ١ ١٠ ٣ ٢ ٦ ٨ ٥ ٩

□ □ □ □ □ □ □ □ □ □

١٠ ٢ ٨ ٥ ٩ ٣ ٧ ٤ ١ ٦