



LKPB

MATEM
ATIKA

PENGURANGAN 1-10

BELAJAR PENGURANGAN
ANGKA 1 SAMPAI 10



Nama:

Kelas:

TUJUAN PEMBELAJARAN

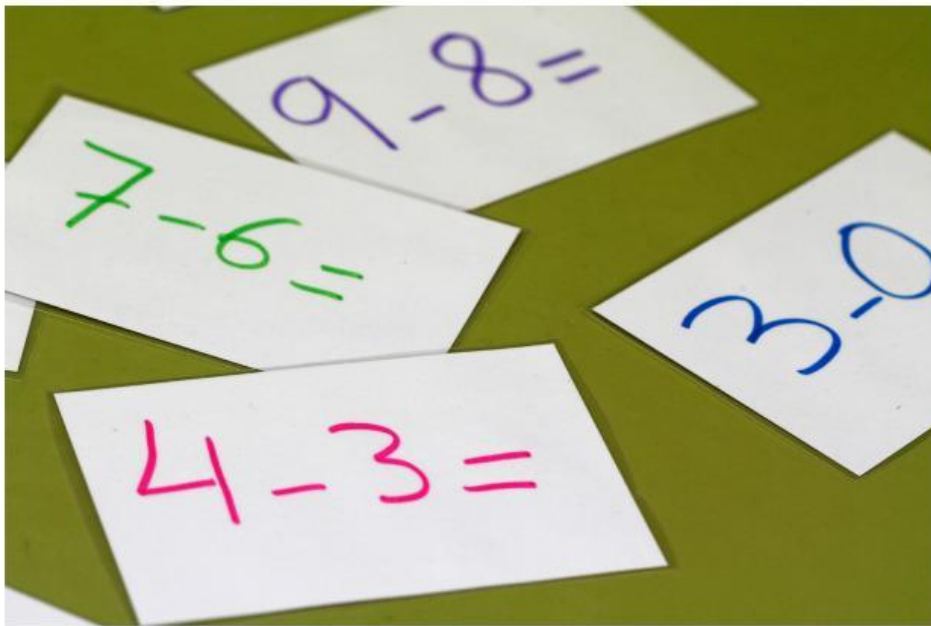
Memahami konsep pengurangan, mampu melakukan operasi hitung bilangan 1 sampai 10 dengan benar, serta dapat menerapkannya dalam kehidupan sehari-hari.

Perhatikan Materi di bawah ini

1.Video

2.Presentasi

Materi pendukung



Orientasi Masalah

Apa arti dasar dari pengurangan?

Jawaban:

.....

Pengurangan 1 - 10

Hitunglah pengurangan yang ada pada makanan nusantara. Gunting dan tempelkan hasilnya di buku!



$9 - 3 = \dots\dots\dots$

$7 - 2 = \dots\dots\dots$




$7 - 5 = \dots\dots\dots$

$3 - 1 = \dots\dots\dots$



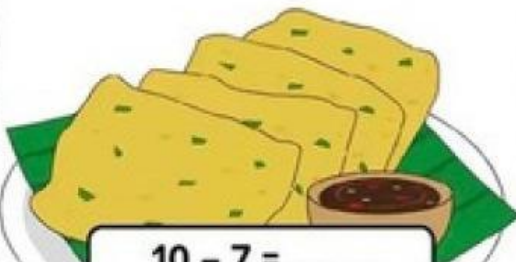
$6 - 4 = \dots\dots\dots$

$8 - 5 = \dots\dots\dots$



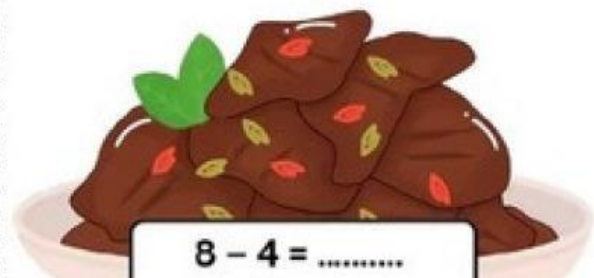
$10 - 8 = \dots\dots\dots$

$6 - 2 = \dots\dots\dots$



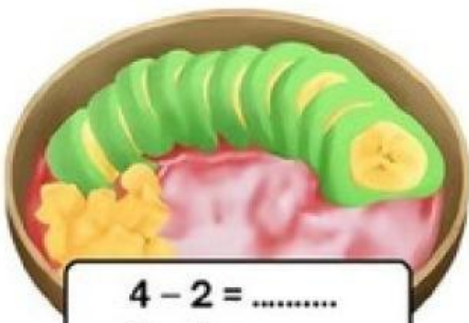
$10 - 7 = \dots\dots\dots$

$5 - 1 = \dots\dots\dots$



$8 - 4 = \dots\dots\dots$

$5 - 3 = \dots\dots\dots$



$4 - 2 = \dots\dots\dots$

$9 - 6 = \dots\dots\dots$




$9 - 7 = \dots\dots\dots$

$4 - 1 = \dots\dots\dots$

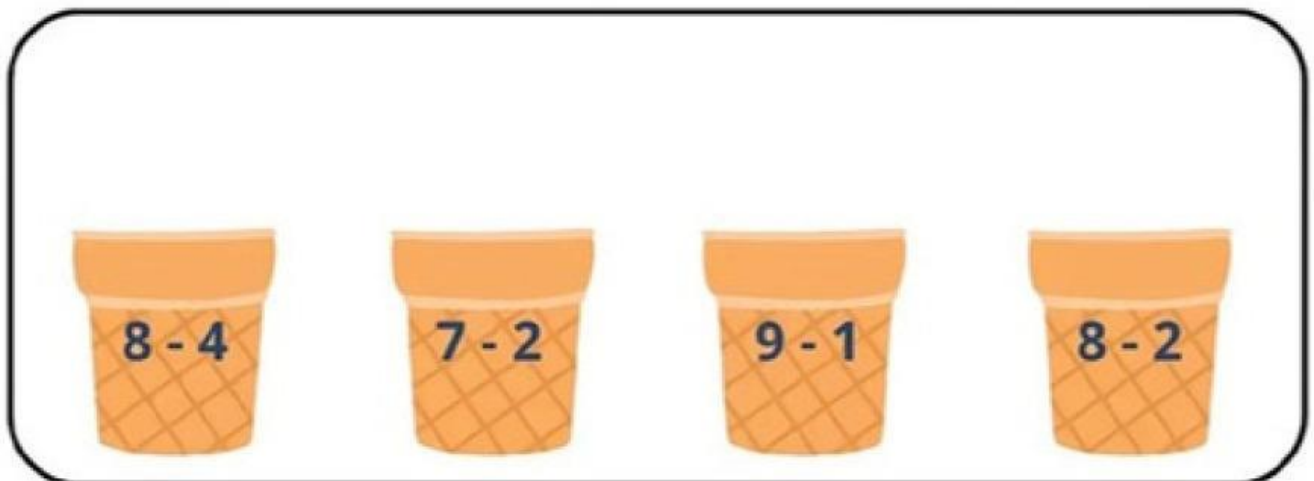
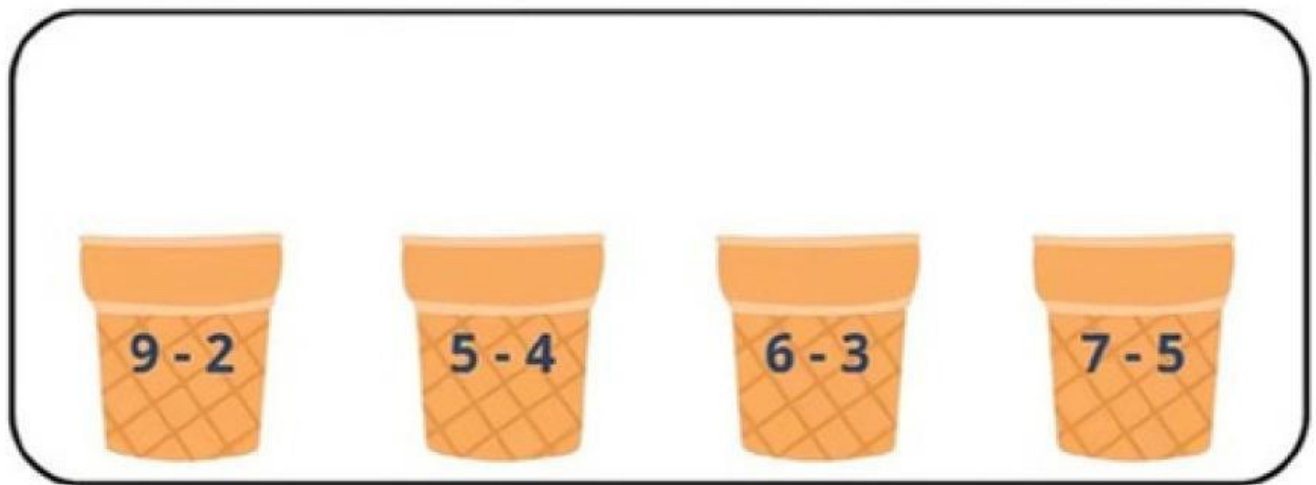
Nama :

Kelas :




Es Krim Pengurangan

Gunting dan pasangkanlah hasil pengurangan pada es krim di bawah ini!



AYO BERMAIN!



Nama:

Kelas:

Jumlahkan lah pertanyaan di bawah habis itu cari isian nya di tabel bawah ini

B	E	N	G	A	T
U	M	U	N	G	U
N	P	T	I	M	J
G	A	I	M	B	U
A	T	G	U	S	H
D	U	A	I	R	T

Pertanyaan

$1.4 - 8 =$

$3.5 - 2 =$

$2.8 - 6 =$

$4.10 - 3 =$