

LKPD

ILMU PENGETAHUAN ALAM

Sistem Pernapasan Pada Manusia



Nama:

Kelas:

MENGENAL ORGAN PERNAPASAN

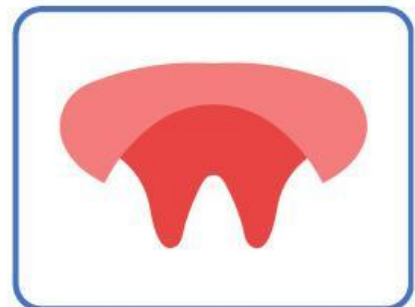
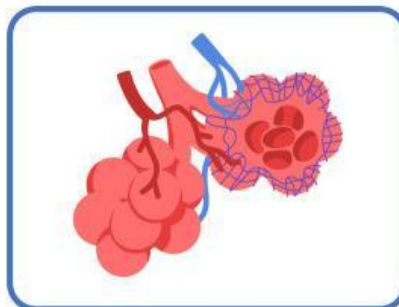
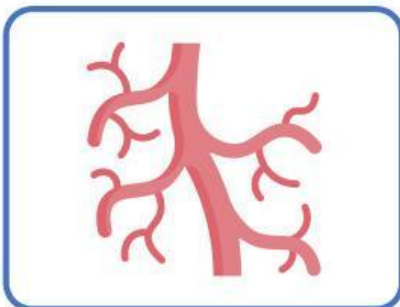
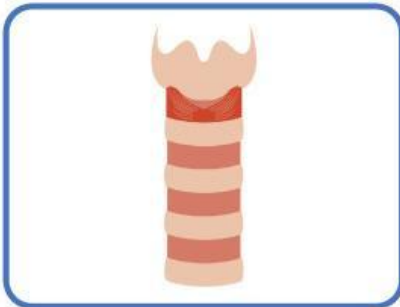
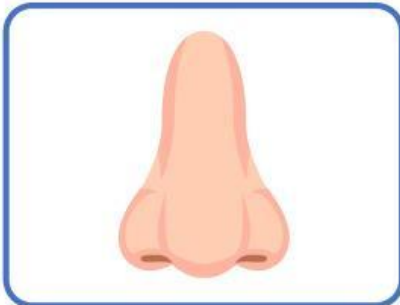
Nama:

Kelas:



Panduan

Amati gambar organ-organ pernafasan manusia.
Lengkapi nama-nama organ pernafasan di bawah ini!



TEKA-TEKI CARI KATA

Nama:

Kelas:



Panduan

Temukan nama organ pernapasan manusia yang terdapat pada kotak dibawah ini!

F	A	R	I	N	G	O	K	I	P
B	L	U	P	I	N	S	C	I	A
T	V	G	U	D	I	A	N	D	R
O	E	T	B	U	R	T	U	I	U
V	O	L	V	E	A	M	U	S	P
P	L	B	T	E	L	N	M	B	A
U	U	W	H	I	Y	G	C	O	R
S	S	G	H	H	N	A	G	I	U
V	I	T	R	A	K	E	A	R	H
G	O	B	R	O	N	K	U	S	K

- FARING
- LARING
- TRAKEA
- BRONKUS
- ALVEOLUS
- PARU-PARU

PENGELOMPOKAN

SISTEM PERNAPASAN

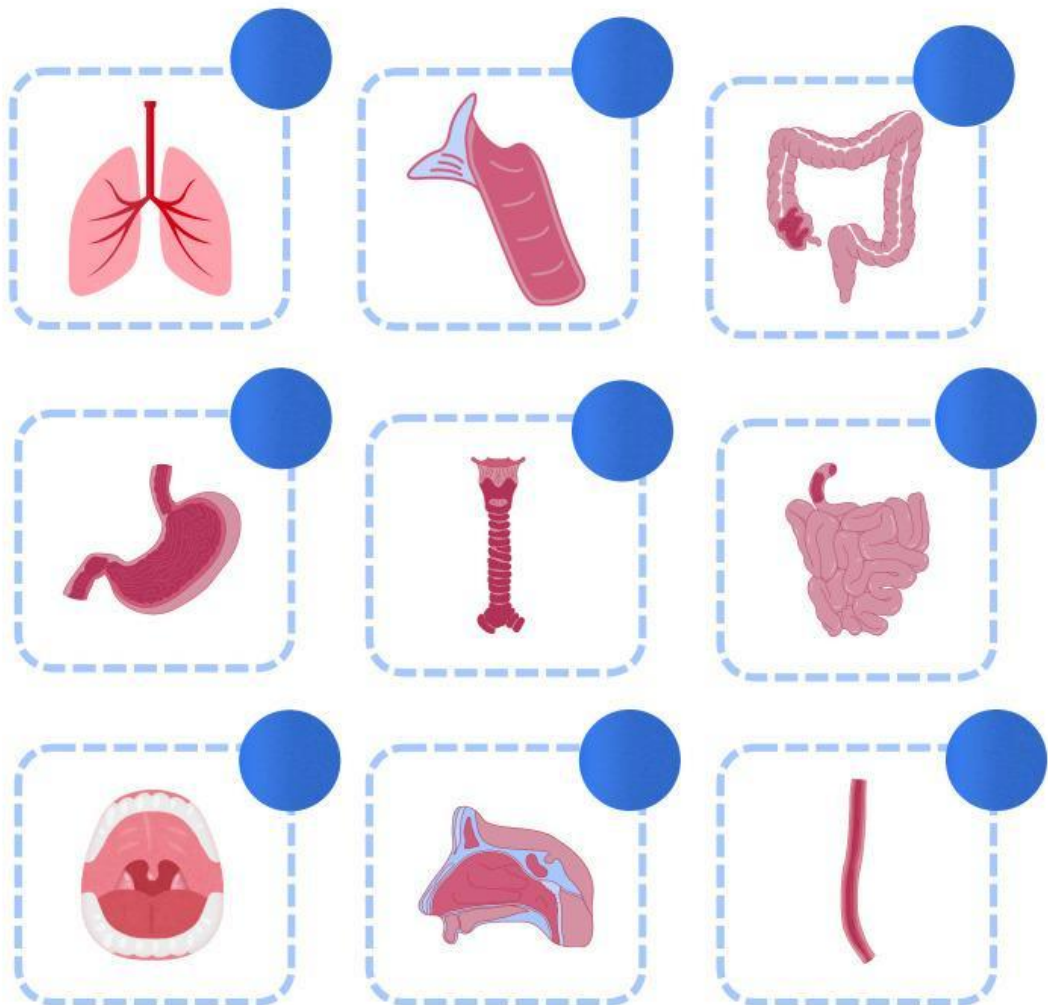
Nama:

Kelas:



Panduan

Centang yang termasuk dalam sistem pernapasan!



BAGIAN - BAGIAN SISTEM PERNAPASAN

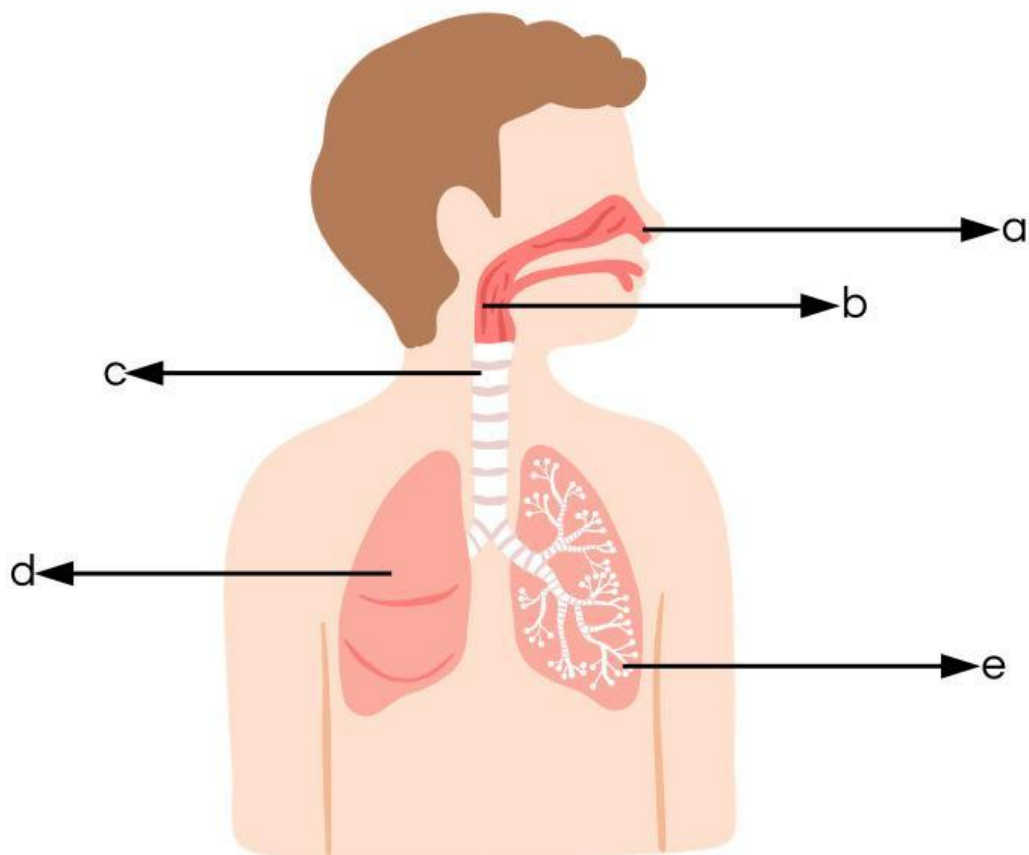
Nama:

Kelas:



Panduan

Tuliskan bagian-bagian sistem pernapasan!



a

b

c

d

e

MENCOCOKKAN ORGAN PERNAPASAN

Nama:

Kelas:



Panduan

Amati gambar organ-organ pernapasan manusia di sebelah kiri. Hubungkan dengan nama organ tersebut.



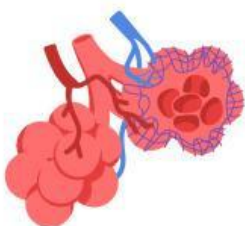
Faring



Paru-Paru



Hidung



Alveolus