

LKPD

ILMU PENGETAHUAN ALAM

Sistem Pernapasan Pada Manusia



Nama:

Kelas:

MENGENAL ORGAN PERNAPASAN

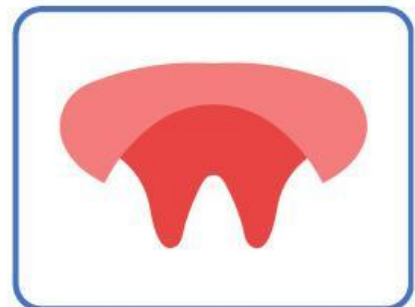
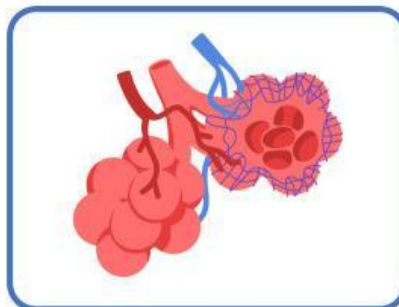
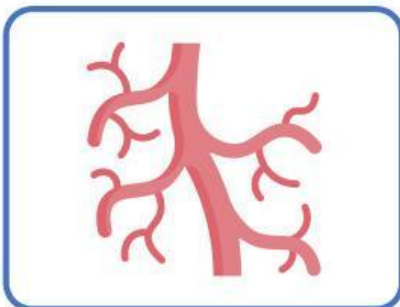
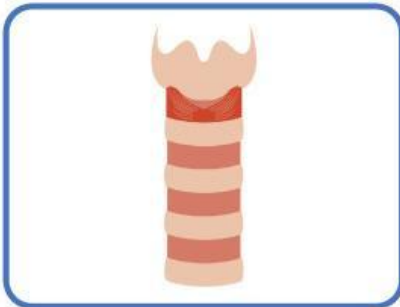
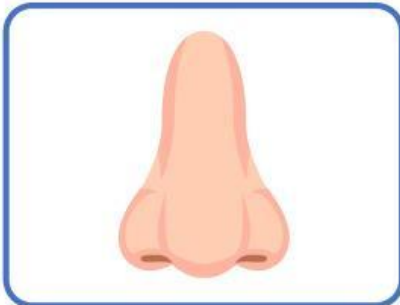
Nama:

Kelas:



Panduan

Amati gambar organ-organ pernafasan manusia.
Lengkapi nama-nama organ pernafasan di bawah ini!



TEKA-TEKI CARI KATA

Nama:

Kelas:



Panduan

Temukan nama organ pernapasan manusia yang terdapat pada kotak dibawah ini!

F	A	R	I	N	G	O	K	I	P
B	N	U	P	I	M	L	C	I	A
R	A	G	U	D	M	A	N	D	R
O	U	T	B	U	A	R	U	I	U
N	A	L	V	E	O	L	U	S	P
K	B	B	T	E	R	N	M	B	A
U	A	W	H	I	Y	G	C	O	R
S	R	G	H	H	N	A	G	I	U
V	I	T	R	A	K	E	A	R	H
G	O	S	O	K	G	I	G	I	K

- FARING
- LARING
- TRAKEA
- BRONKUS
- ALVEOLUS
- PARU-PARU

PENGELOMPOKAN

SISTEM PERNAPASAN & PENCERNAAN

Nama:

Kelas:

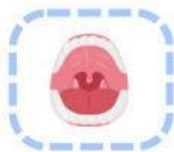


Panduan

Sesuaikan gambar di bawah ini dengan kelompoknya, apakah sistem pernapasan atau pencernaan!

Sistem Pernapasan Manusia

Sistem Pencernaan Manusia



BAGIAN - BAGIAN SISTEM PERNAPASAN

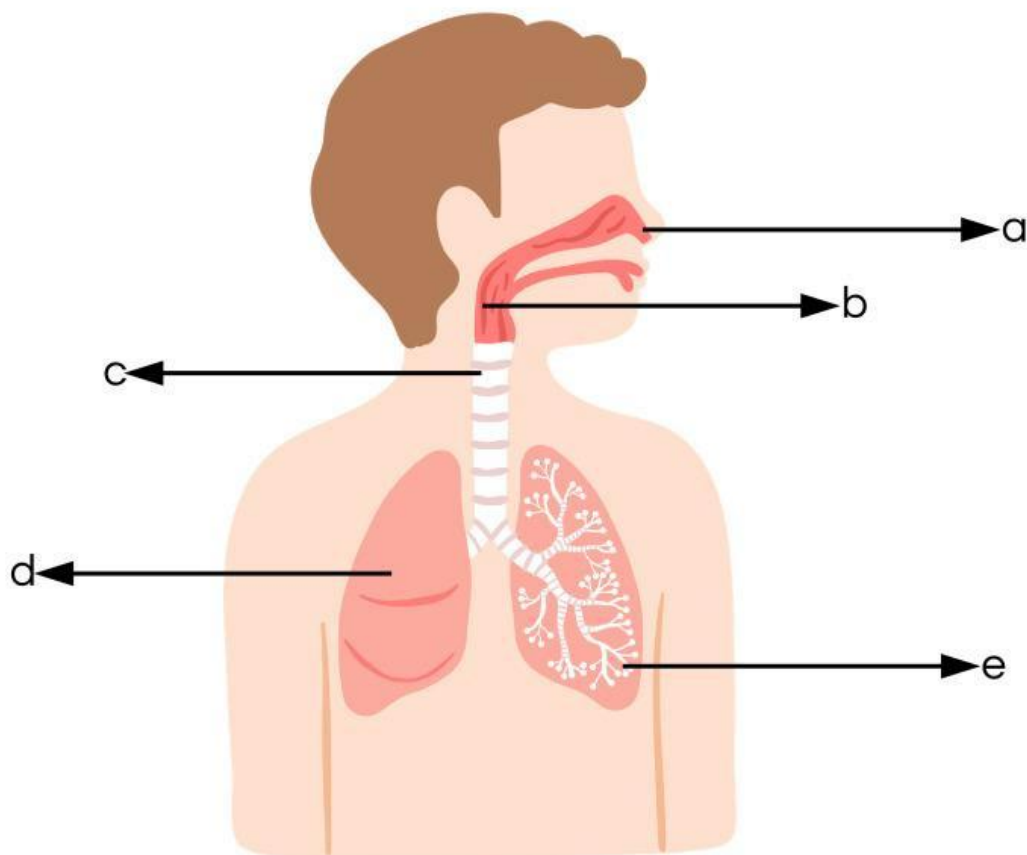
Nama:

Kelas:



Panduan

Tuliskan bagian-bagian sistem pernapasan!



a

b

c

d

e

MENCOCOKKAN ORGAN PERNAPASAN

Nama:

Kelas:



Panduan

Amati gambar organ-organ pernapasan manusia di sebelah kiri. Hubungkan dengan nama organ tersebut.



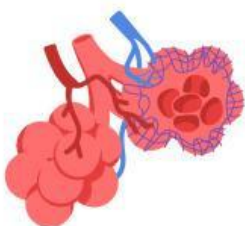
Faring



Paru-Paru



Hidung



Alveolus