

# Lembar Kerja Peserta Didik (LKPD)

Mengenal Organ Tubuh Manusia

Nama : .....

Absen : .....

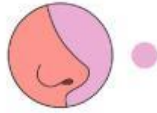


Nama:

Kelas:

## PANCA INDRA

Cari dan cocokkan gambar di bawah ini dengan benar.



● Indra  
Pendengaran



● Indra  
Penglihatan



● Indra Perasa



● Indra  
Penciuman

# MENGENAL PANCA INDRA

Tuliskan dan tunjukkan bagian dari panca indra  
pada gambar berikut!





# PANCA INDRA MANUSIA


Isilah kotak-kotak di bawah ini dengan jawaban yang tepat!

 Aku melihat sekitar dengan:

 Aku merasa makanan dengan:

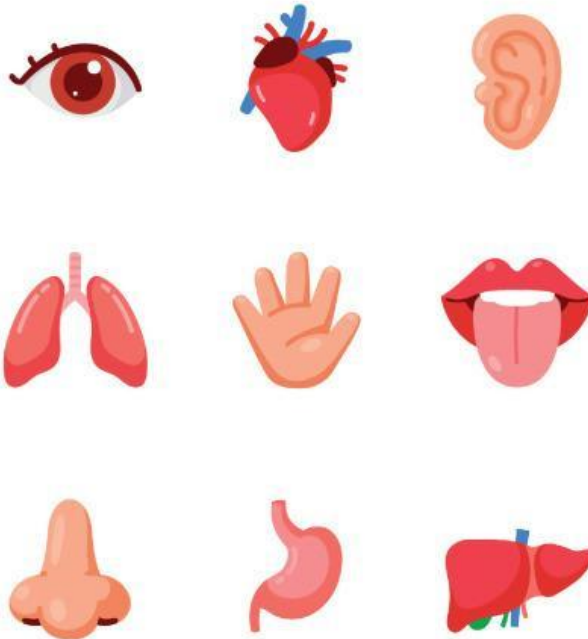
 Aku meraba benda dengan:

 Aku mendengar suara dengan:

 Aku mencium aroma dengan:

# PANCA INDRA

Berikan tanda centang pada gambar yang merupakan panca indra!



# PANCA INDRA

Sebutkan fungsi dari panca indra di bawah ini dengan singkat dan jelas!

1.



2.



3.



4.



5.



1. **Fungsi:** Mata berfungsi untuk melihat. \_\_\_\_\_

2. **Fungsi:** \_\_\_\_\_

3. **Fungsi:** \_\_\_\_\_

4. **Fungsi:** \_\_\_\_\_

5. **Fungsi:** \_\_\_\_\_