



LKPD

MENGIDENTIFIKASI ENERGI PANAS DAN CAHAYA



PETUNJUK :

Hubungkan sudut dengan kategori yang tepat:



MENGHASILKAN
PANAS

MENGHASILKAN
CAHAYA

MENGHASILKAN
PANAS

MENGHASILKAN
PANAS

MENGHASILKAN
CAHAYA

MENCOCOKKAN GAMBAR



•



•



•



•



•



•



•







•

MARI MENCARI KATA YANG SESUAI

P A N A S F G
E A I L K A M
C A H A Y A C
P A N A S N L
J B C D F A C
K Z L A C A Y

Lembar Kerja MENGHITUNG MATAHARI

Hitung jumlah Matahari, lalu hubungkan garis yang sesuai dengan jumlah angka yang ada pada kelinci!



Energi Panas

Berilah tanda (✓) pada gambar yang menunjukkan perilaku mematuhi aturan. Beri tanda (✗) pada gambar yang menunjukkan perilaku tidak mematuhi aturan.

