

Lembar Kerja Peserta Didik MATEMATIKA

Tema : Mengurutkan bilangan
asli sampai dengan 50

Nama: _____

Absen: _____



Lengkapilah urutan bilangan pada gambar awan di bawah ini mulai dari yang terkecil sampai yang terbesar!



1. **13** **14**

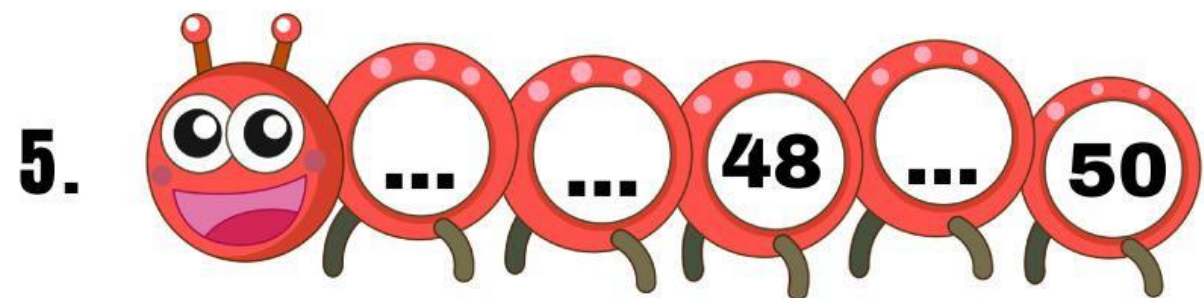

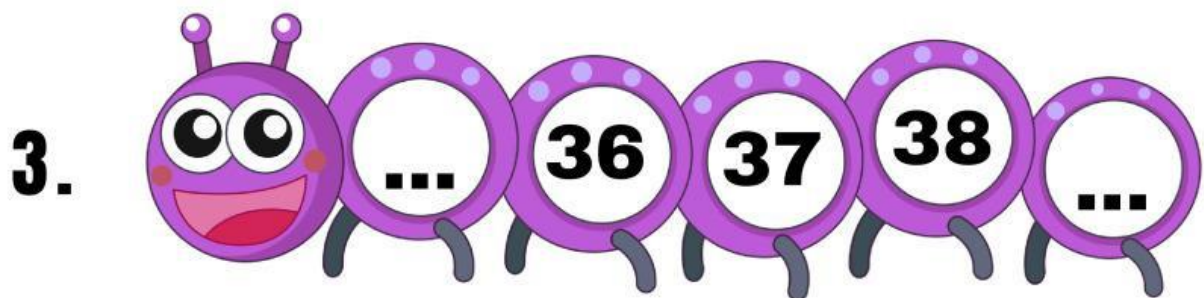
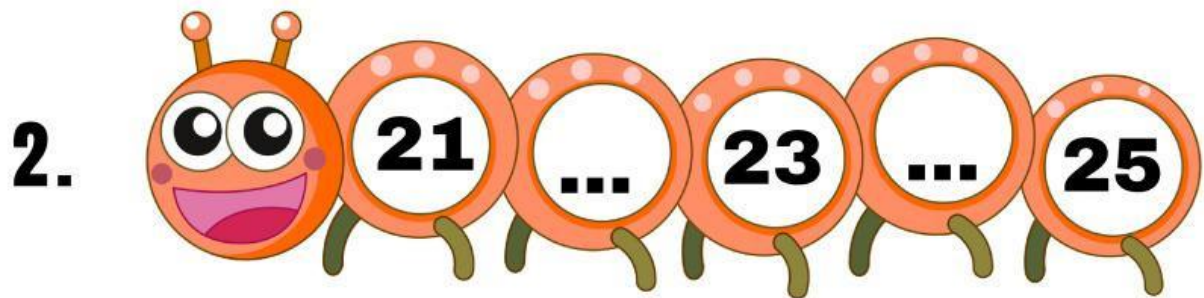

2. **25** ... **27** ...

3. ... **31** **32** ...

4. **39** **40**

5. **46** **49**

Bantulah ulat-ulat di bawah ini untuk melengkapi tubuhnya dengan menuliskan angka yang hilang secara berurutan!



Tariklah garis lurus untuk menghubungkan urutan bilangan di sebelah kiri dengan angka pelengkap yang benar di sebelah kanan!



1. 12, 13, ..., 15, 16 •

• 43

2. 28, 29, 30, ..., 32 •

• 25

3. 41, 42, ..., 44, 45 •

• 14

4. 23, 24, ..., 26, 27 •

• 31

5. 37, 38, 39, 40, ... •

• 41



Ayo urutkan angka-angka di bawah ini!
Tuliskan kembali bilangan di dalam kotak mulai dari yang nilainya paling kecil ke yang paling besar.

1. **12, 5, 19, 8, 15**



2. **31, 28, 35, 22, 30**



3. **45, 41, 50, 48, 42**



4. **40, 33, 38, 36, 32**



5. **31, 28, 35, 22, 30**



Perhatikan barisan angka di bawah ini. Apakah mereka sudah berbaris rapi mulai dari yang paling besar ke yang paling kecil? Beri tanda centang (✓) pada kotak BENAR jika urutannya sudah tepat, dan tanda (X) jika SALAH!

1. **50, 49, 48, 47, 46**

2. **35, 32, 34, 31, 30**

3. **20, 19, 18, 17, 16**

4. **12, 13, 14, 15, 16**

5. **42, 41, 40, 39, 38**

