

Lembar Kerja Peserta Didik

Ilmu Pengetahuan Alam


Materi: Perubahan Energi

Nama: _____


Kelas: _____



PERHATIKAN VIDEO BERIKUT INI!



AYO MENYANYI BERSAMA!



**Jawablah pertanyaan berikut ini
dengan jawaban yang benar!**

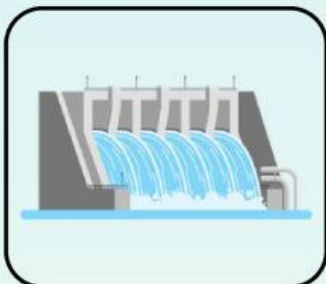
1. Matahari menghasilkan energi berikut? kecuali....
 - A** Energi panas
 - B** Energi cahaya
 - C** Energi bunyi
2. Contoh kegiatan yang memanfaatkan energi panas matahari adalah
 - A** Menyalakan televisi
 - B** Mengeringkan pakaian
 - C** Bermain sepak bola
3. Sumber energi yang tidak dapat diperbarui adalah....
 - A** Batubara
 - B** Air
 - C** Matahari
4. Contoh benda yang menggunakan energi listrik adalah
 - A** Setrika
 - B** Layang-layang
 - C** Bola

Nama :

Kelas :

Sumber Energi

Hubungkan gambar sumber energi di bawah ini dengan namanya!



Energi Air

Energi Biogas

Gelombang Laut

Energi Matahari

Energi Angin

Ayo Kenali Sumber Energi

Nama:

Kelas:



PANDUAN:

Amati gambar di bawah ini! Hubungkan gambar dengan jenis energi yang tepat!



Matahari

Energi Bunyi



Kincir angin

Energi Listrik



Lampu


Energi Gerak



Gitar

Energi Panas

JAWABLAH PERTANYAAN BERIKUT!

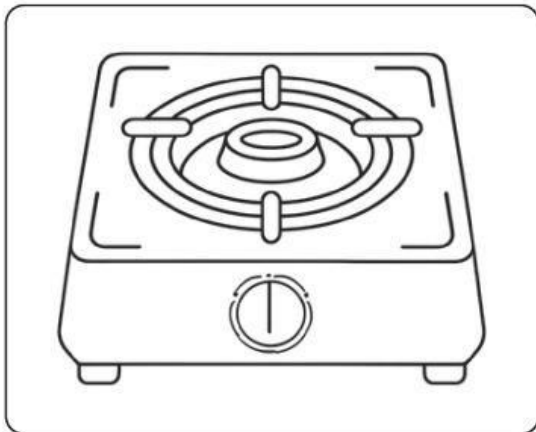


Ini adalah

.....

menghasilkan energi

.....

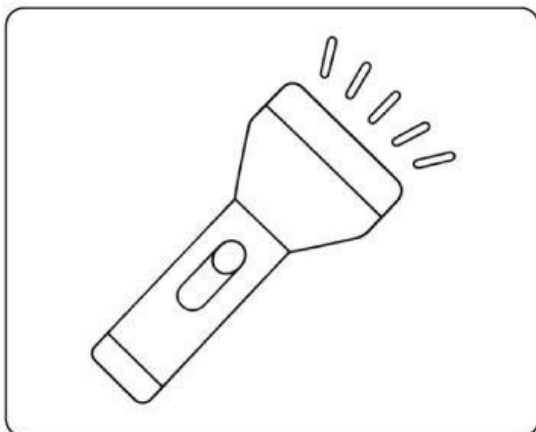


Ini adalah

.....

menghasilkan energi

.....



Ini adalah

.....

menghasilkan energi

.....