

LKPD

Matematika

Penjumlahan dan Pengurangan



5 + 5 = ?
7 - 2 = ?

The illustration shows two children, a boy and a girl, sitting at a desk. They are both looking thoughtful, with their hands on their chins. A speech bubble above them contains two math problems. The background includes a bulletin board with numbers and a cat, a bookshelf with books, and a water dispenser.

Nama:


Kelas:



1 + 2 = 3






coba perhatikan video berikut









Belajar Menghitung

Mari kita hitung jumlah hewan-hewan tersebut dan mencatat jumlah yang tepat.



Nama: _____ Nama: _____ Tanggal: / /

Hitung setiap hewan dalam kotak,
kemudian tarik garis jawaban angka yang benar!

	•	•	5
	•	•	3
	•	•	1
	•	•	6
	•	•	2
	•	•	4

Ayo Berlatih Hitung Cepat!

Hitung hasil penjumlahan dan pengurangan di bawah ini.
Tulis jawabannya di kotak!

$2 + 4 = \square$

$3 + 5 = \square$

$2 + 8 = \square$

$10 + 5 = \square$

$8 + 3 = \square$



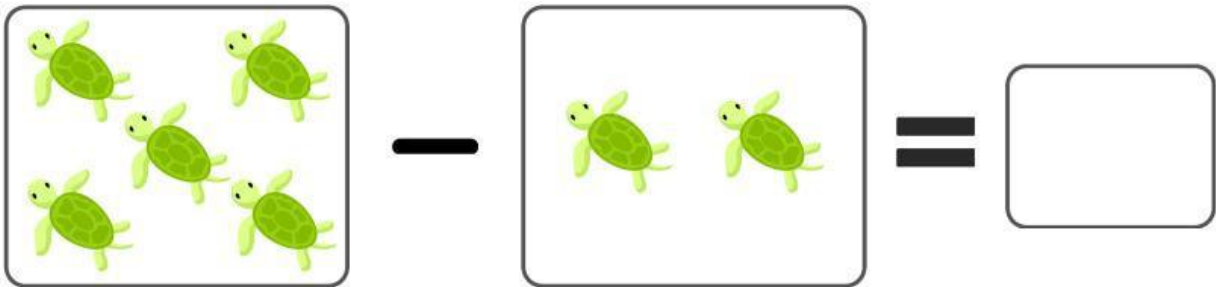
$9 + 5 = \square$

Nama:

Kelas:

PENGURANGAN

Jumlahkan gambar hewan di setiap baris.
Tulis hasilnya di kotak yang tersedia.



Nama: _____

Tanggal: _____

Pengurangan dengan Cerita Sederhana



Arahan!

Bacalah soal cerita berikut ini dengan teliti. Berilah tanda silang pada jawaban yang benar!

1

Lala memiliki 6 jepit rambut. 3 jepit rambut patah dan tidak bisa dipakai lagi. Berapa sisa jepit rambut Lala yang masih bagus?

A. 3 jepit rambut

B. 2 jepit rambut

C. 5 jepit rambut

2

Pada pohon mangga terdapat 10 buah mangga. Paman memetikanya sebanyak 5 buah. Berapa sisa buah mangga di pohon sekarang?

A. 3 mangga

B. 4 mangga

C. 5 mangga

3

Pada awalnya Tio memiliki 10 kelereng. Lalu 6 kelereng hilang. Berapa sisa kelereng yang dimiliki Tio sekarang?

A. 7 kelereng

B. 8 kelereng

C. 4 kelereng

4

Yudha berencana menjual 8 lukisan hasil karyanya. Lalu seorang seniman membeli 6 lukisan karya Yudha. Berapa sisa lukisan Yudha?

A. 6 lukisan

B. 2 lukisan

C. 8 lukisan

5

Nisa mengerjakan 5 tugas sekolah. Saat ini 4 tugas telah selesai dikerjakan Nisa. Berapa tugas sekolah Nisa yang masih belum selesai?

A. 4 tugas

B. 6 tugas

C. 1 tugas