

LKPD

MATEMATIKA

KELAS 4 SEKOLAH DASAR

Nama:

Kelas:



Oleh: Dewi Larasati

Tujuan Pembelajaran

1. Peserta didik mampu memahami konsep dari penjumlahan dan pengurangan
2. Peserta didik mampu menyelesaikan soal cerita
3. Peserta didik mampu bekerja sama dalam kelompok

Perhatikan Materi di Bawah Ini

1. Video



Presentasi



Materi Pendukung



Orientasi Masalah

Agus pergi ke minimarket. Ia membeli 2 coklat dengan harga Rp7.000 setiap coklat dan 2 permen dengan harga Rp1.000 setiap permen. Berapa total yang harus dibayar Agus?

Jawab

.....
.....


Nama:

Nama :







Kelas :

MENGHITUNG SAYUR

Tuliskan angka yang sesuai dengan jumlah sayuran



4

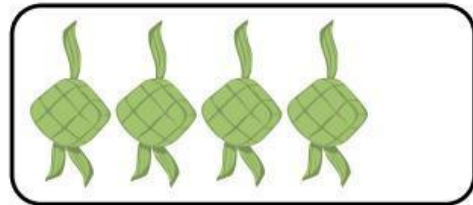
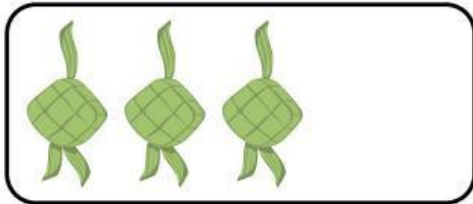
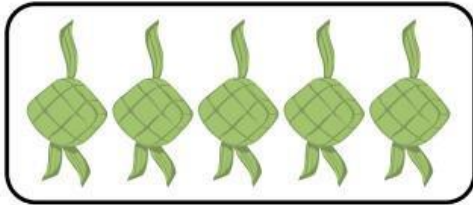

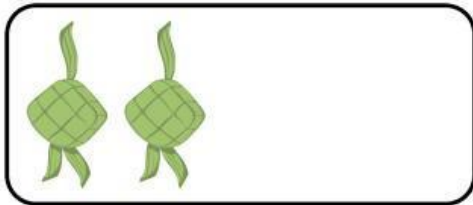


Nama: _____

Kelas: _____


MENCOCOKKAN JUMLAH

Tarik garis untuk menghubungkan jumlah ketupat
dengan angka yang tepat



AYO BERMAIN!

Bisakah kamu menemukan kata tersembunyi pada puzzle di bawah ini?



Nama:

Kelas:

Cari kata-kata yang tersembunyi dalam kotak huruf di bawah ini!
Kata bisa ditemukan secara horizontal (mendatar), vertikal (menurun), atau diagonal (miring)

B	U	N	G	A	X
B	U	A	Y	G	P
A	A	R	Y	M	Q
M	M	A	U	A	R
B	A	M	U	N	M
U	M	A	I	R	G

DAFTAR KATA YANG HARUS DICARI:

- Bunga
- Ayam
- Air
- Burung
- Bambu