

Lembar Kerja Peserta Didik

MATEMATIKA

kelas 5 Sekolah Dasar
Oleh: Suci Pitriani



NAMA :

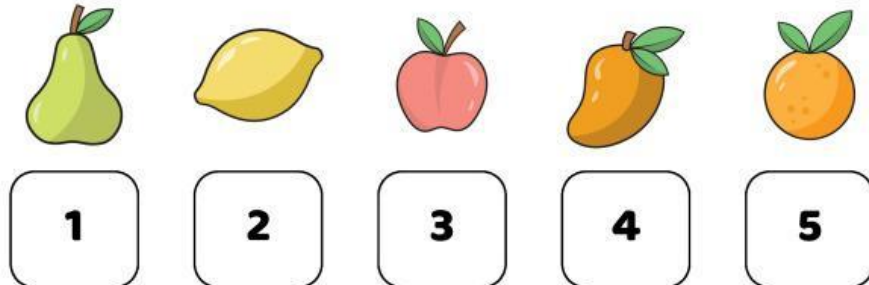
KELAS :

Nama:




Kelas:




Tanggal:




Rahasia Angka Buah






Setiap buah menyimpan angka rahasia! Ubah gambarnya menjadi angka, lalu hitung hasilnya seperti contoh.

 +  +  = $3 + 1 + 2 = 6$

 +  +  =

 +  +  =

 +  +  =



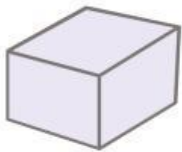
BANGUN RUANG

Nama:

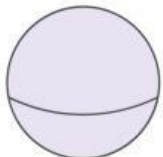
Kelas:

TARIK GARIS

Perhatikan bentuk bangun ruangnya, lalu tarik garis dari bentuk ke nama bangun ruangnya!



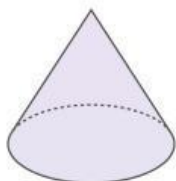
KERUCUT



KUBUS



BOLA



TABUNG

NAMA : _____ KELAS : _____ TANGGAL : ____ / ____ / ____

Lembar Kerja

MEMBUAT GARIS

PETUNJUK :

Ayo buat garis yang sama dibawah sesuai dengan contoh garis yang ada!

