

LKPD | Lembar Kerja
Peserta Didik

GEOGRAFI

Kelas X

Lapisan Atmosfer



LEMBAR KERJA PESERTA DIDIK (LKPD)

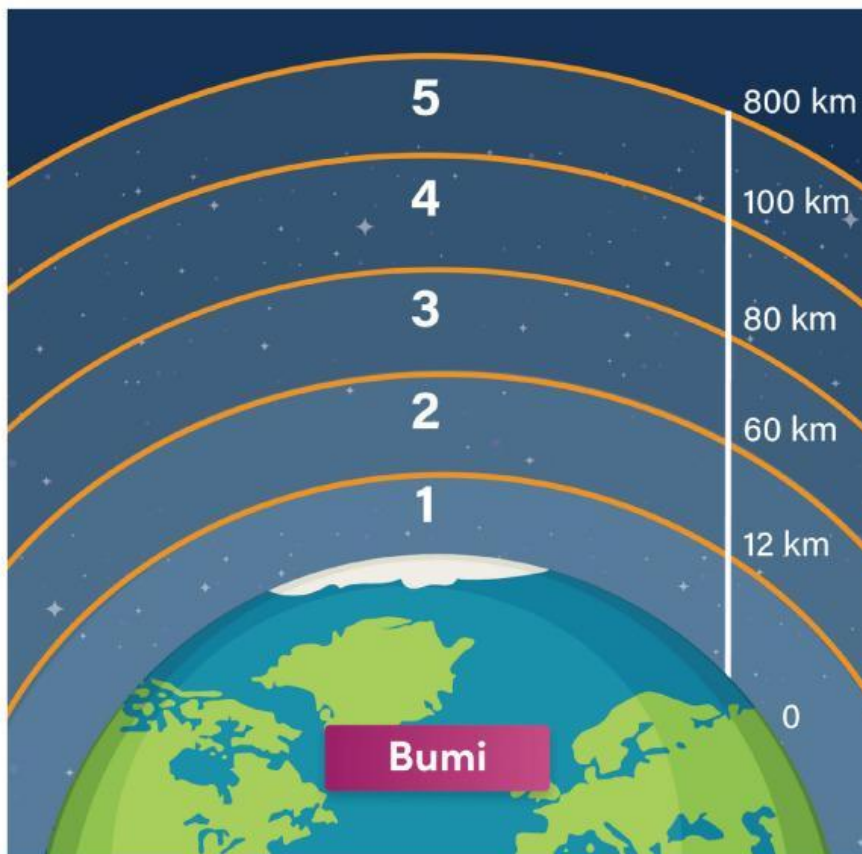
"ATMOSFER"

Petunjuk Belajar

- Baca secara cermat bahan ajar sebelum mengerjakan tugas
- Baca literatur lain untuk memperkuat pemahaman
- Kerjakan setiap langkah sesuai tugas

TUGAS

- A. Berilah keterangan pada setiap lapisan atmosfer bumi yang terdapat pada gambar berikut !



ATMOSFER

ANTROSFER

TROPOSFER

EKSOSFER

HIDROSFER

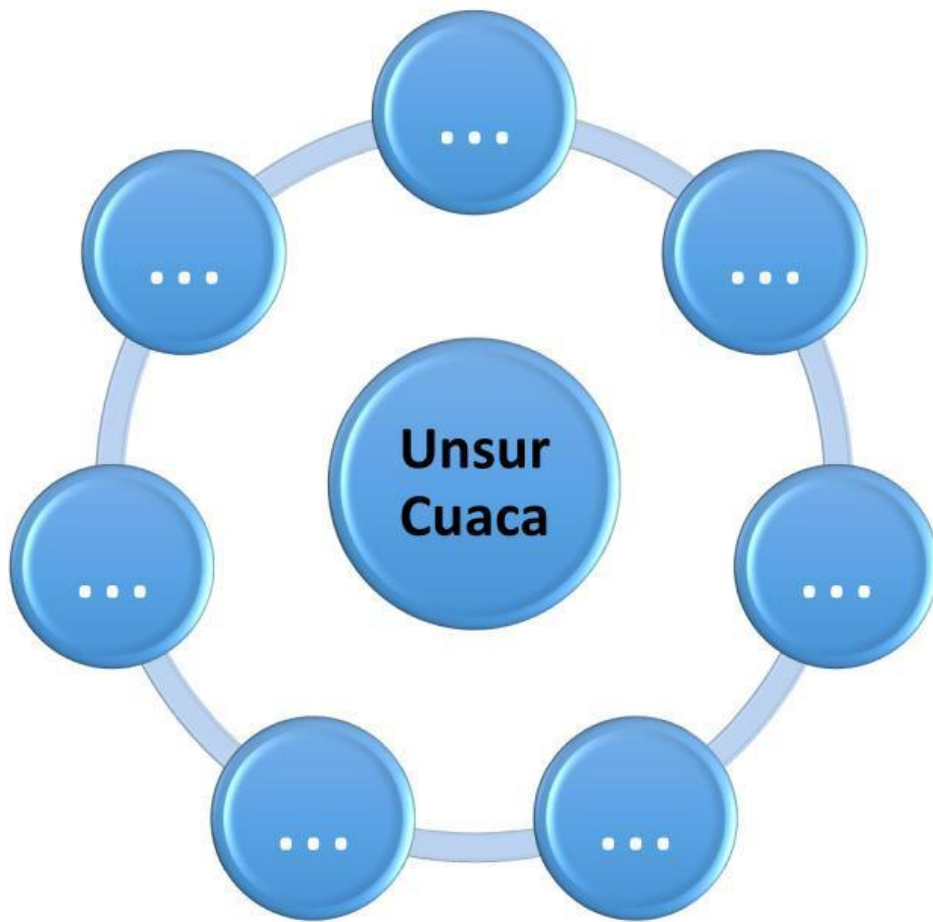
MESOSFER

TERMOSFER

STRATOSFER

BIOSFER

B. Berilah keterangan pada gambar berikut terkait unsur-unsur cuaca !



SINAR MATAHARI

MANUSIA

TEKANAN UDARA

AIR

KELEMBAPAN UDARA

ANGIN

AWAN

TANAH

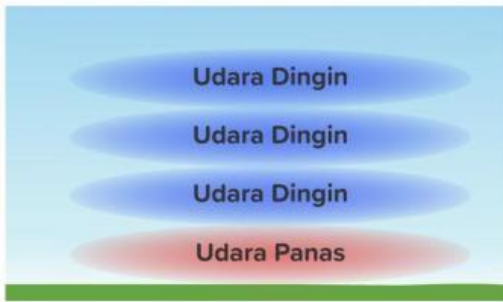
API

CURAH HUJAN

SUHU UDARA

VEGETASI


C. Pasangkan jenis penyebaran panas dengan gambar berikut !



TURBULENSI



KONVEKSI



ADVEKSI



KONDUKSI

D. Berilah keterangan jenis awan pada gambar berikut !



CUMULUS

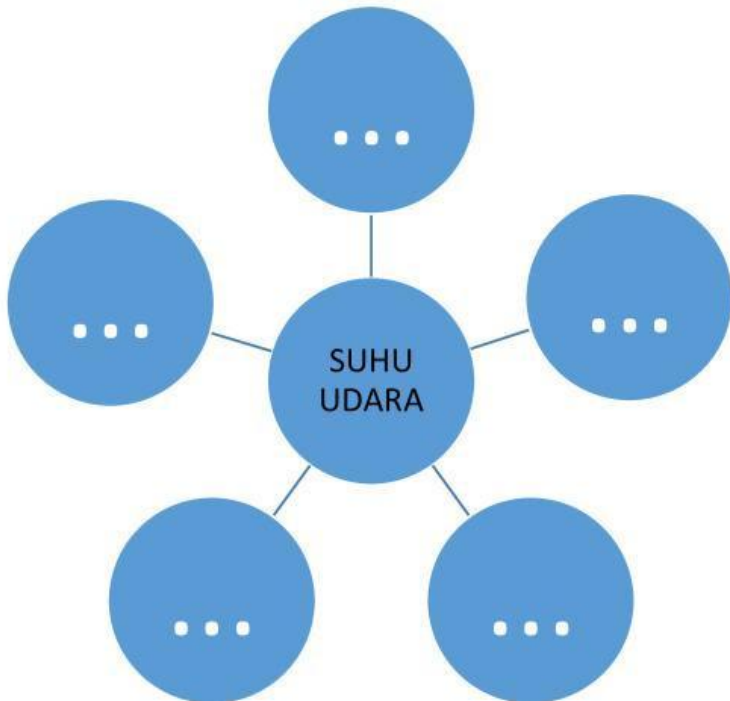
STRATUS

CIRROCUMULUS

CIRRUS

CIRROSTRATUS

E. Berilah keterangan faktor-faktor yang mempengaruhi suhu udara pada gambar berikut!



SUDUT DATANG SINAR MATAHARI

BANYAKNYA AWAN

LAMA SINAR MATAHARI

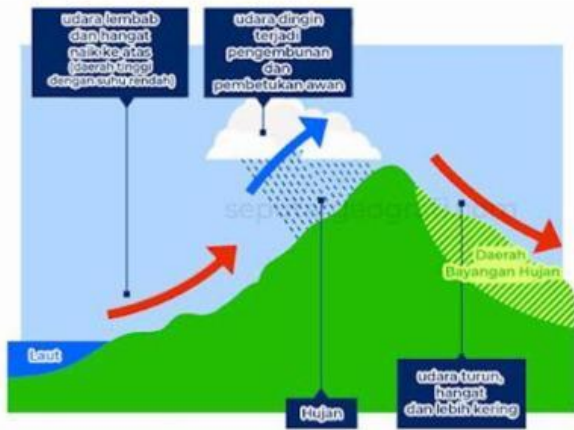
LETAK LINTANG

KETINGGIAN

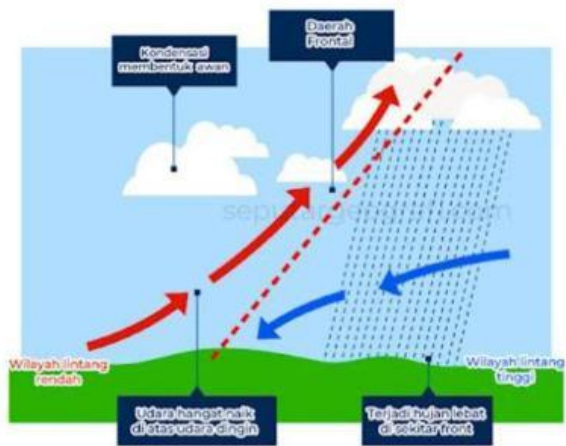
AIR

TANAH

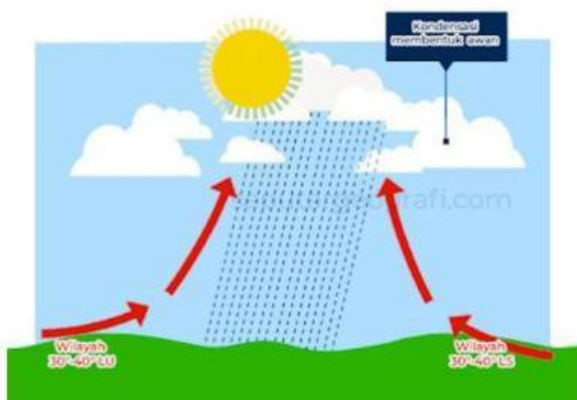
F. Pasangkan jenis hujan dengan gambar berikut !



FRONTAL



ZENITHAL



OROGRAFIS