

LKPD

Matematika

Penjumlahan dan Pengurangan

$$5 + 3 = ?$$
$$7 - 2 = ?$$







Nama:

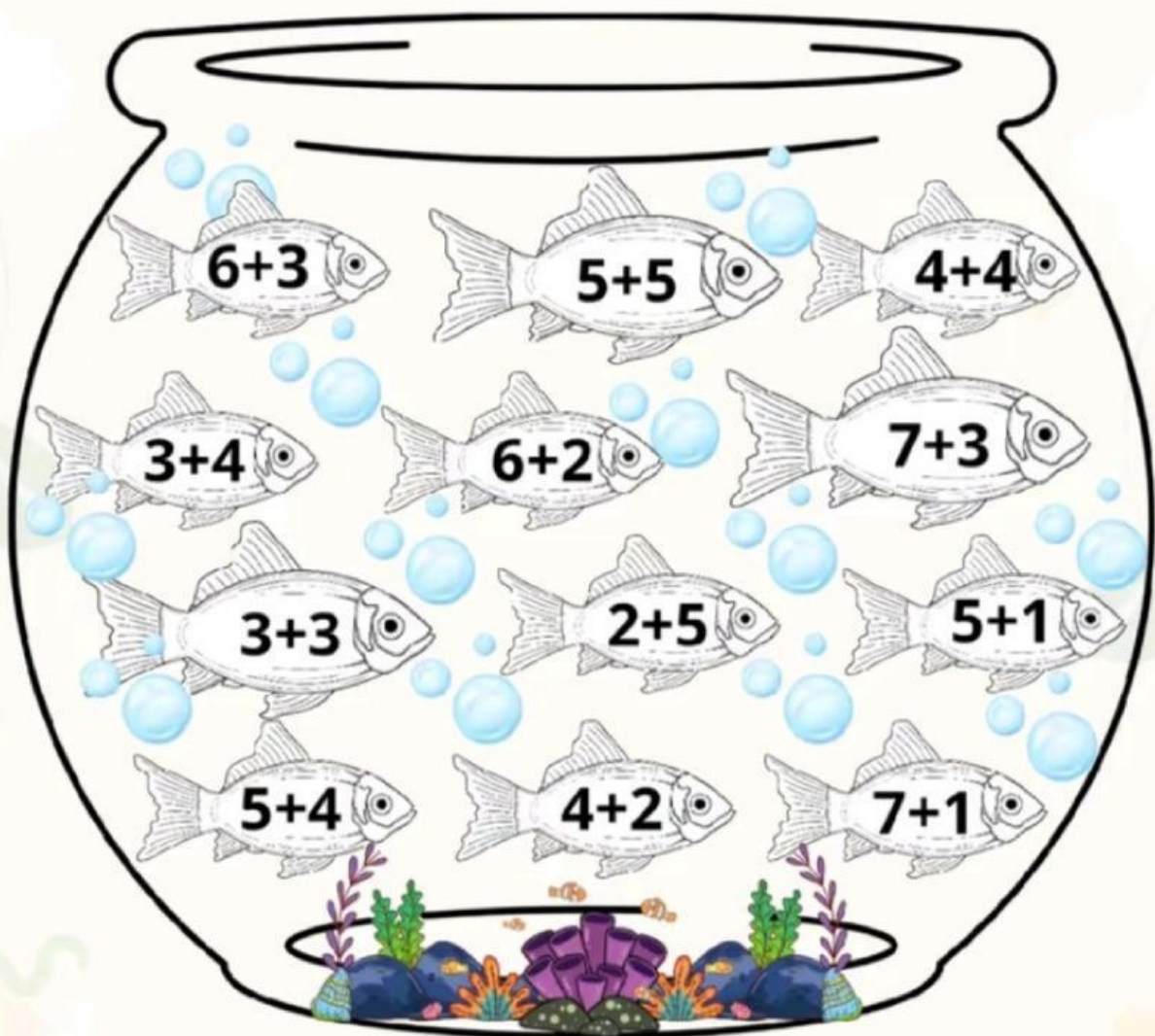
Kelas:

Ayo Mencocokkan

Mari kita hitung jumlah hewan-hewan tersebut dan pasangkan dengan hasil yang sesuai!



Berilah warna pada ikan sesuai dengan hasil penjumlahannya !



Ayo Berlatih Hitung Cepat!

Hitung hasil pengurangan di bawah ini. Tulis jawabannya di kotak!

$7 - 4 = \square$

$9 - 2 = \square$

$8 - 4 = \square$

$10 - 5 = \square$

$6 - 3 = \square$

$7 - 2 = \square$

Belajar Penjumlahan dan Pengurangan

Mari kita hitung jumlah benda pada soal berikut dan tuliskan jawabannya!

1. Siti punya 3 pensil. Ia membeli 2 pensil lagi.
Berapa jumlah pensil Siti sekarang?

2. Riko membawa 5 balon ke taman. Tiga balon terbang.
Berapa balon yang tersisa?

3. Lani memiliki 4 kue. Ibunya memberinya 3 kue lagi.
Berapa jumlah kue Lani sekarang?

4. Di meja ada 6 jeruk. Adik memakan 2 jeruk.
Berapa jeruk yang tersisa di meja?

5. Budi memetik 3 bunga. Kemudian ia memetik 4 bunga lagi.
Berapa jumlah bunga yang dipetik Budi?

6. Rani membawa 7 krayon. Dua krayon dipinjam Mutia.
Berapa krayon yang masih dibawa Rani?
