

E-LKPD

Matematika

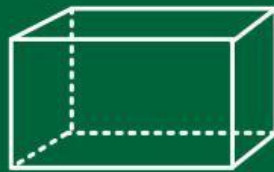
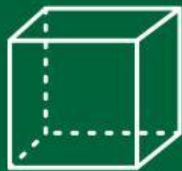
Tema:

Bangun Ruang


SD Kelas 4



Bangun Ruang



Materi Bangun Ruang



Perhatikan video berikut ini!



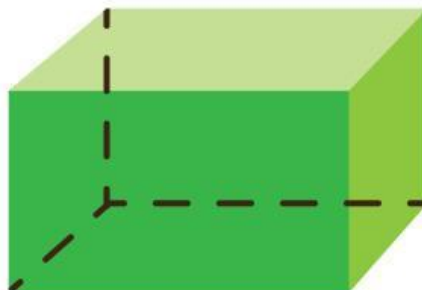

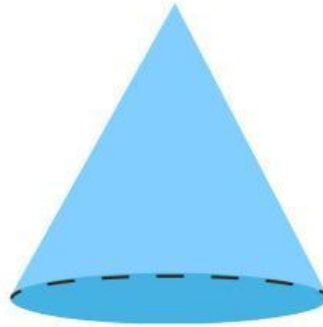
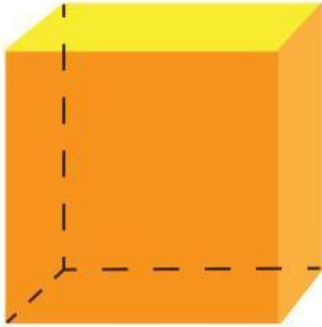
Perhatikan materi presentasi berikut ini!





Textfield

Tulislah nama-nama bangun ruang di bawah ini.



2

Single Choice

Bangun ruang yang memiliki 6 sisi sama besar adalah...

Bangun ruang yang mempunyai sisi lengkung adalah...

3

Checkboxes

Yang termasuk sifat-sifat kubus adalah...

- Memiliki 6 sisi sama besar
- Memiliki 12 rusuk
- Memiliki sisi lengkung
- Memiliki 8 titik sudut

4

Select

Bangun ruang yang memiliki 6 sisi sama besar adalah...

- Kubus
- Balok
- Tabung



Word Search

Temukan 5 kata bangun ruang pada kotak di bawah ini!

F	K	E	R	U	C	U	T
R	U	Z	P	B	U	C	A
R	B	A	L	O	K	B	B
Y	U	Z	I	L	L	E	U
N	S	X	Q	A	M	D	N
T	P	R	B	W	L	V	G



Speak

Sebutkan bangun ruang berikut ini dengan tepat!



Listening

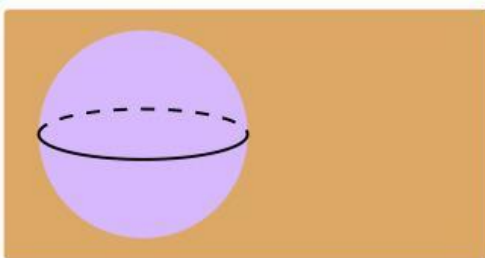
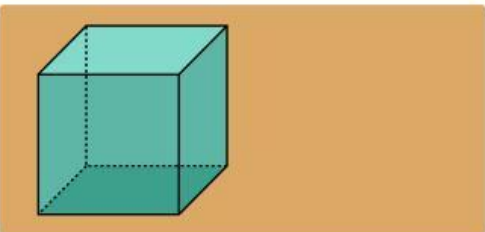
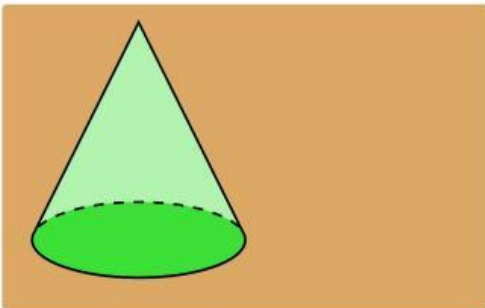
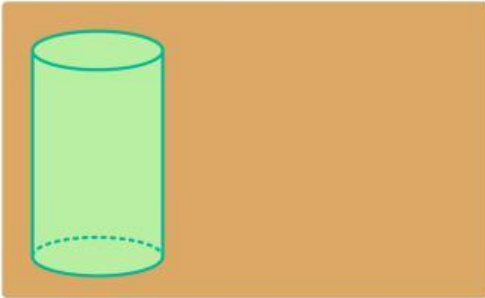
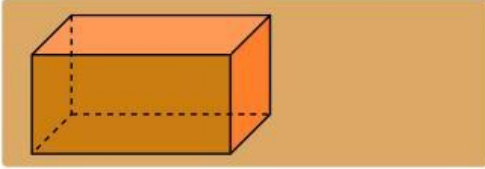
Dengarkan suara berikut dan tuliskan jawabannya...



8

Drag & Drop

Geser kata berikut pada gambar bangun ruang yang tepat!



Kerucut

Kubus

Balok

Bola

Tabung



Join with Arrows

Tarik garis soal berikut ke pasangan yang tepat!

