

LEMBAR KERJA PESERTA DIDIK

# LKPD

## RANTAI MAKANAN

Nama: \_\_\_\_\_

Kelas: \_\_\_\_\_



Nama :

Kelas:

## MENYUSUN RANTAI MAKANAN

Rantai makanan dalam suatu ekosistem terdiri dari produsen, konsumen, dan pengurai. Susunlah pola rantai makanan di bawah ini agar menjadi urutan yang benar.



Belalang → Rumput → Ular → Katak



Beruang → Rubah → Kelinci → Wortel



Burung Hantu → Elang → Padi → Tikus

Nama: .....

Kelas: .....

# RANTAI MAKANAN

Amatilah gambar rantai makanan berikut dan letakkanlah kotak pada posisi yang tepat!

Produsen

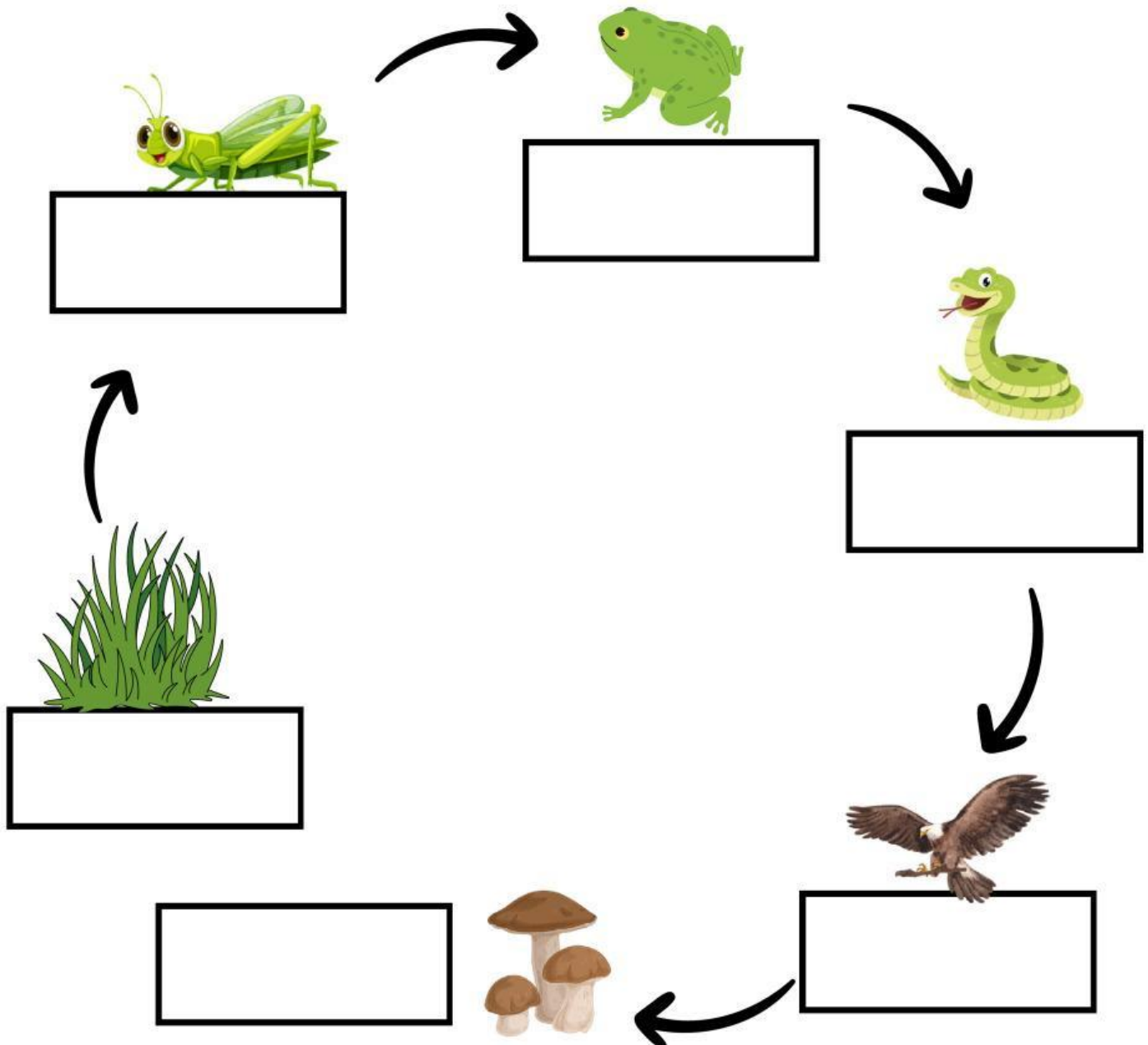
Konsumen Primer

Konsumen Sekunder

Konsumen Tersier

Konsumen Final

Dekomposer




Nama :

Nomor :

# RANTAI MAKANAN

Amatilah rantai makanan di bawah ini dengan cermat!



Berilah tanda centang pada kolom benar atau salah berdasarkan pernyataan di bawah ini!


No	Pernyataan	Benar	Salah
1	Rantai makanan tersebut terdapat di ekosistem laut.		
2	Ganggang berperan sebagai produsen.		
3	Produsen dapat menghasilkan makanan sendiri.		
4	Bangau berperan sebagai konsumen tingkat II.		
5	Jika populasi buaya menurun, maka populasi bangau meningkat.		
6	Populasi ikan meningkat, jika populasi bangau meningkat.		
7	Buaya merupakan hewan herbivora.		

# RANTAI MAKANAN

Selesaikanlah teka-teki silang dibawah ini!

Nama : \_\_\_\_\_

Kelas : \_\_\_\_\_



## Mendatar

- 1 Mengurai bangkai makhluk hidup.
- 6 Dibutuhkan tumbuhan untuk proses fotosintesis.
- 7 Makhluk hidup yang berperan sebagai produsen.
- 10 Makhluk hidup yang memakan daging dan tumbuhan.

Gunakan petunjuk di atas untuk menyelesaikan teka-teki silang

## Menurun

- 2 Makhluk hidup pemakan daging.
- 3 Dapat menghasilkan makanannya sendiri.
- 4 Makhluk hidup pemakan tumbuhan.
- 5 Makhluk hidup yang memakan makhluk hidup lainnya.
- 8 Hasil penguraian dekomposer yang membuat tanah menjadi subur.
- 9 Makhluk hidup yang berperan sebagai dekomposer.