



# PHIẾU BÀI TẬP

## NỐI CÁC NHÓM GỘP LẠI THÀNH 10



★ Bé hãy nối 2 nhóm hình có tổng bằng 10 nhé! ★

Họ tên: \_\_\_\_\_

Ngày: \_\_\_\_\_

1



2



3



4



5



# PHIẾU BÀI TẬP

## NỐI CÁC NHÓM HÌNH CÓ TỔNG BẰNG 10

Bé hãy nối 2 nhóm hình có tổng bằng 10 nhé!

Họ tên: \_\_\_\_\_

Ngày: \_\_\_\_\_

1



5



3



10




7



2



6



4



8





# PHIẾU BÀI TẬP

## NỐI CÁC NHÓM GỘP LẠI THÀNH 10



Bé: .....

Bé hãy nối 2 nhóm hình có tổng bằng 10 nhé!

Ngày: .....

1



•

•



2



•

•



3



•

•



4



•

•



5



•

•





# PHIẾU BÀI TẬP

## NỐI CÁC NHÓM GỘP LẠI THÀNH 10



★ Bé hãy nối 2 nhóm hình có tổng bằng 10 nhé! ★

Họ tên: \_\_\_\_\_

Ngày: \_\_\_\_\_

1



2



3



4



5





# PHIẾU BÀI TẬP

## NỐI CÁC NHÓM HÌNH CÓ TỔNG BẰNG 10



★ Bé hãy nối 2 nhóm hình có tổng bằng 10 nhé!

Họ tên: \_\_\_\_\_

Ngày: \_\_\_\_\_

1		-----		9
2		-----		8
3		-----		7
4		-----		6
5		-----		5





# PHIẾU BÀI TẬP



## NỐI CÁC NHÓM GỘP LẠI THÀNH 10

Bé: .....



Ngày: .....



Bé hãy nối 2 nhóm hình có tổng bằng **10** nhé!

1


1



9

2

2



8

3

3



7

4

4



6

5

5



5

Bé cố gắng nhé!





# PHIẾU BÀI TẬP



## NỐI CÁC NHÓM GỘP LẠI THÀNH 10

Bé: .....



Ngày: .....



Bé hãy nối 2 nhóm hình có tổng bằng **10** nhé!

1


1



9

2

2



8

3

3



7

4

4



6

5

5



5

Bé cố gắng nhé!





# PHIẾU BÀI TẬP

## NỐI CÁC NHÓM GỘP LẠI THÀNH 10



Bé: .....



Ngày: .....

★ Hãy nối 2 nhóm hình có tổng bằng 10

1


1



9

2

2



8

3

3



7

4

4



6

5


5



5

6

6



4

7

7



3

8

8



2

9

9



1

★ Bé giỏi lắm! ♥