

明原国民型华文小学 SJK (C) SUNGAI MENYAN
 六年级美术年终评估 UJIAN AKHIR SESI AKADEMIK
 时间: 2 小时

姓名: _____


成绩: _____

班级: _____

日期: _____

A. 把正确的答案填写在空格里。(16%)

纹理	形态	图形	空间
放射性线条	平行线	曲线	交叉线







B. 圈出正确的答案。(10%)

9. 	摆动的吊饰呈现出（节奏 / 和谐），又不失平衡的状态，自由地摆动着。
10. 	（蒙太奇 / 拓印）的艺术表现使画面中的元素成为视点，让广告牌整体不呆板。
11. 	壁画作品以美化环境为主旨。它有别于纯绘画，作品需依附于特定的建筑或（形态 / 空间）环境。
12. 	风筝的造型必须两边（均衡 / 高低）才能够飞得高和平稳。
13. 	木雕上流畅的线条属于触觉（韵律 / 纹理）。线条呈现动态的均衡。

C. 对的画√，错的画X。(4%)


14. 马来西亚的巴迪图案主要包括花卉图案、动物图案、几何图案及抽象图案。…………… ()
15. 立体动画是大量绘制画稿，每一张画稿动作都与前一张稍微不一样，再用摄像机将每一张画稿拍摄下来，透过快速播放而产生动态效果。…………… ()
16. 雕刻刀有不同的刀口，基本的刀口包括圆口、平口、弯口和五角口。… ()
17. 符合抽象式随想插画没有特定的构图，自由发挥的方式绘成。…………… ()

D. 画线连一连各种构图的名称。(10%)

18.		■	■	三角形构图
19.		■	■	O 形构图
20.		■	■	C 形构图
21.		■	■	S 形构图

E. 圈出正确的答案。(10%)

22. 哪些物体的表面呈现交叉线的纹理?



23. 这是什么作品?



- A 活动雕塑 B 吹画 C 喷溅 D 水彩画

24. 以下哪一个巴迪图案是动物图案?



25. 这个雕刻工具的用途是什么?



- A 雕刻圆、弧、凹的地方 B 雕刻画线条和修整轮廓
C 雕刻平直的线条与纹理 D 雕刻细线条