



# TOÁN

## Bài tập về góc



Tên học sinh: ..... Lớp: .....

### Bài 1. Quan sát hình và cho biết:

1



Hình 1

Đây là góc


2



Hình 2

Đây là góc

3



Hình 3

Đây là góc

4



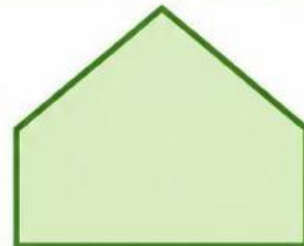
Hình 4

Đây là góc

### Bài 2. Quan sát hình và cho biết hình bên dưới có mấy góc vuông?




Có ..... góc vuông



Có ..... góc vuông



Có ..... góc vuông



Có ..... góc vuông



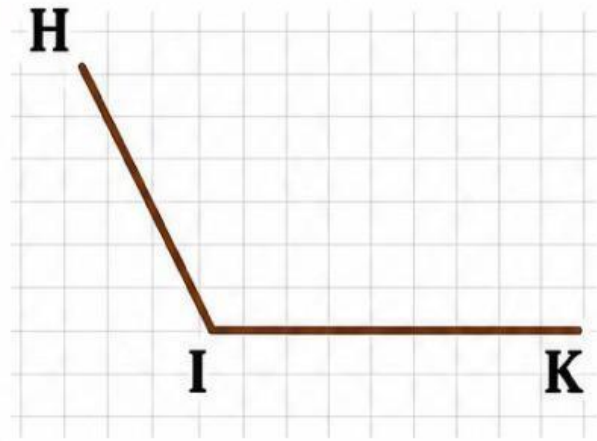
# TOÁN



Tên học sinh: ..... Lớp: .....

## Bài 3. Hình bên là hình có:

- a. Góc vuông: Đỉnh I; Cạnh IH, IK
- b. Góc không vuông: Đỉnh H; Cạnh IH, IK
- c. Góc không vuông: Đỉnh I; Cạnh IH, IK



## Bài 4. Quan sát hình và trả lời câu hỏi:

Đây là góc .....  
Đỉnh ..... ; Cạnh MN, MP

Đây là góc .....  
Đỉnh ..... ; Cạnh RT, TS

Đây là góc .....  
Đỉnh ..... ; Cạnh KB, BL

Đây là góc .....  
Đỉnh ..... ; Cạnh MA, AN

